

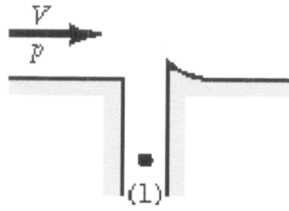
Ερωτήσεις αντιστοιχίσεως.

1. Αντιστοιχίστε, σε κάθε σχήμα, τη σωστή σχέση για την πίεση p_1 στο σημείο (1).

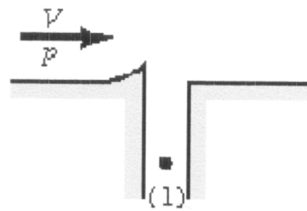
A. $p_1 = p$

B. $p_1 > p$

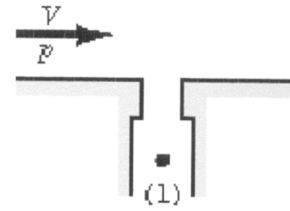
Γ. $p_1 < p$



Σχήμα α.



Σχήμα β.



Σχήμα γ.

2. Το παρακάτω σχήμα παρουσιάζει την τομή πτέρυγας αεροπλάνου και τις δυνάμεις που τις ασκούνται. Αντιστοιχίστε τα στοιχεία της 1^{ης} στήλης με τα αντίστοιχα τους της 2^{ης}.

1 ^η στήλη	2 ^η στήλη
A	Αντίσταση
F	Αεροδύναμη
R	Δυναμική άνωση

