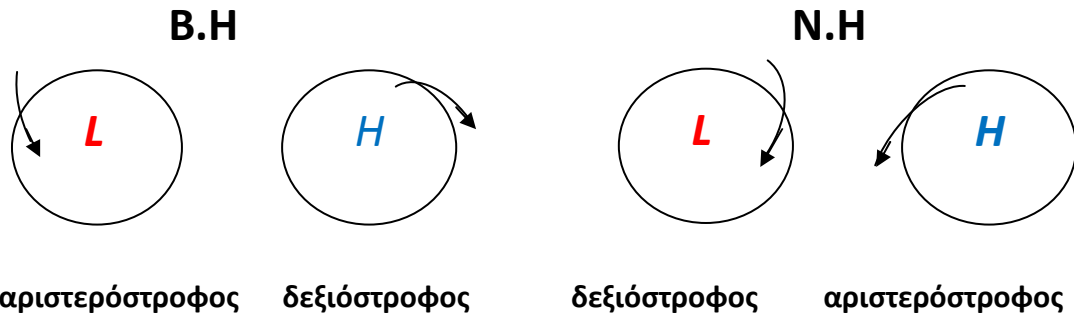


Άνεμος βαροβαθμίδας



Στα L συγκλίνει, στα H αποκλίνει

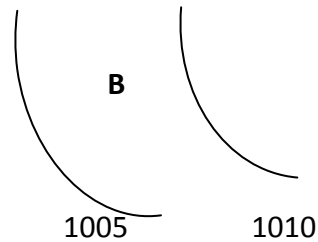
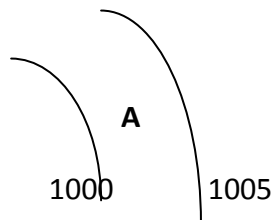
Πυκνές ισοβαρείς —————> ισχυρός άνεμος

Αραιές ισοβαρείς —————> ασθενής άνεμος

Παραδείγματα

Στις παρακάτω περιπτώσεις να σχεδιάσετε και να χαρακτηρίσετε τον άνεμο.
Επίσης, να πείτε σε πιο σημείο είναι πιο ισχυρός και γιατί.

1. **B.H**



2. **N.H**

