


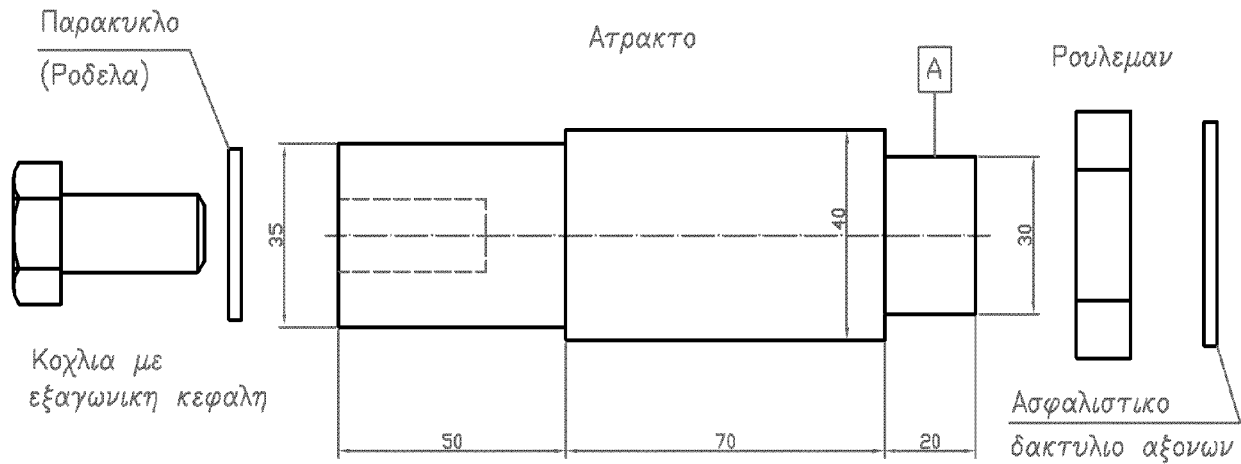


ΑΕΝ ΜΑΚΕΔΟΝΙΑΣ – ΣΧΟΛΗ ΜΗΧΑΝΙΚΩΝ

“ΜΗΧΑΝΟΛΟΓΙΚΟ ΣΧΕΔΙΟ – Εξάμηνο Γ” - ΕΞΕΤΑΣΤΙΚΗ ΠΕΡΙΟΔΟΣ ΣΕΠΤΕΜΒΡΙΟΥ 2015

Όνοματεπώνυμο:

Τμήμα/Καθηγητής: Ημερομηνία:



ΔΙΔΕΤΑΙ:

Η σχηματική παράσταση μιας ατράκτου με ένα ρουλεμάν της σειράς 60 με ασφαλιστικό δακτύλιο αξόνων στη θέση A και ένα κοχλία M14, φυτευτό, με σπείρωμα έως την κεφαλή, από αλουμίνιο.

ΖΗΤΕΙΤΑΙ:

Να σχεδιάσετε σε κόλλα A3 την πρόωση σε πλήρη τομή και να κάνετε κατάλογο τεμαχίων.

ΠΑΡΑΤΗΡΗΣΕΙΣ:

Επιτρέπεται να έχετε μόνο το βιβλίο «Μηχανολογικό Σχέδιο» του Βούλγαρη. Για πρόχειρο θα έχετε μόνο τα θέματα, τα οποία θα παραδώσετε μαζί με την A3 κόλλα.

Καλή επιτυχία