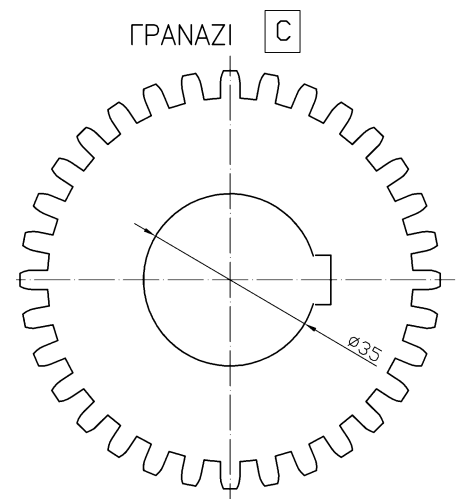

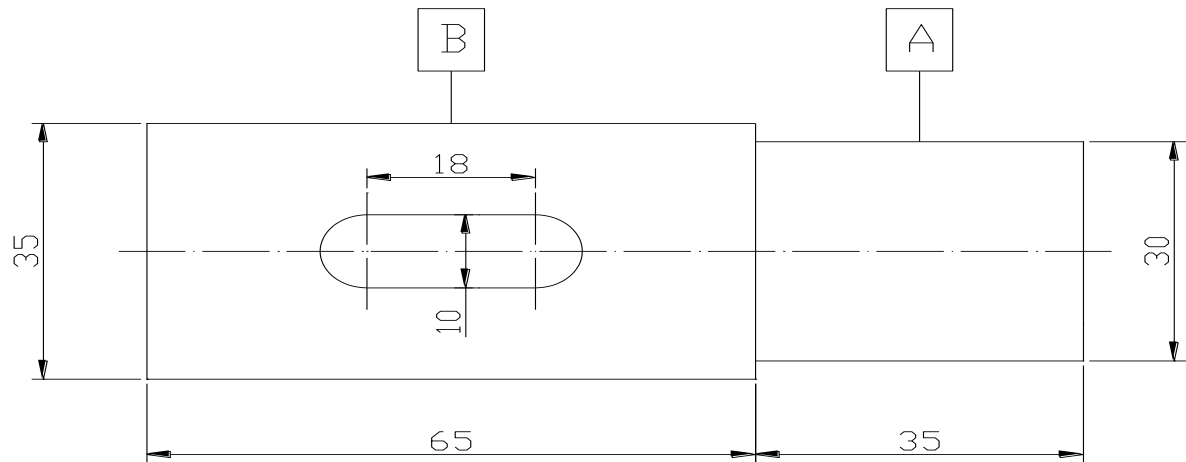


# ΑΕΝ ΜΑΚΕΔΟΝΙΑΣ – ΣΧΟΛΗ ΜΗΧΑΝΙΚΩΝ

ΜΗΧΑΝΟΛΟΓΙΚΟ ΣΧΕΔΙΟ Εξάμηνο Γ - ΕΞΕΤΑΣΤΙΚΗ ΠΕΡΙΟΔΟΣ ΣΕΠΤΕΜΒΡΙΟΣ 2022

Όνοματεπώνυμο: ..... Α.Γ.Μ. : .....

Τμήμα: ..... Καθηγητής: ..... Ημερομηνία: ..../09/2022



## ΔΙΝΕΤΑΙ:

Η σχηματική παράσταση μιας ατράκτου με:

- ▶ Ρουλμάν της σειράς 60 στη θέση A (ασφαλίζεται από δεξιά με ασφαλιστικό δακτύλιο αξόνων κατά DIN 471).
- ▶ Γρανάζι στη θέση B (στο κέντρο), με αρχική διάμετρο 80mm, modul 2,5mm και ενιαίο πάχος 30mm.

## ΖΗΤΕΙΤΑΙ:

Να σχεδιάσετε την πρόοψη σε τομή σε κλίμακα 1:1, και να κάνετε κατάλογο τεμαχίων.

## ΠΑΡΑΤΗΡΗΣΕΙΣ:

Επιτρέπεται να έχετε μόνο το βιβλίο «Μηχανολογικό Σχέδιο» του Βούλγαρη. Για πρόχειρο θα έχετε τα θέματα, τα οποία θα παραδώσετε μαζί με την Α3 κόλλα.

Καλή επιτυχία