

ΕΞΕΤΑΣΕΙΣ ΙΟΥΝΙΟΥ 2021

Ασκήσεις



Προεπισκόπηση



ΝΑΥΤΙΚΕΣ ΕΠΙΚΟΙΝΩΝΙΕΣ Ι (Β' εξαμήνου)

ΑΕΝ ΜΑΚΕΔΟΝΙΑΣ

Ν. ΜΗΧΑΝΙΩΝΑ

ΣΧΟΛΗ ΠΛΟΙΑΡΧΩΝ

18/06/2021

ΕΞΕΤΑΣΤΙΚΗ ΠΕΡΙΟΔΟΣ ΙΟΥΝΙΟΥ 2021

ΝΑΥΤ. ΕΠΙΚΟΙΝΩΝΙΕΣ Β' ΕΞΑΜΗΝΟΥ

Εισηγητής: ΜΑΥΡΟΣ ΝΙΚΟΛΑΟΣ

ΘΕΜΑΤΑ

Ερώτηση: 1

Οι σημαίες του ΔΚΣ υψώνονται στο υψηλότερο σημείο του πλοίου πλησίον της γέφυρας ώστε να είναι ευδιάκριτες από μακριά και πρέπει πάντα να διαβάζονται από:

Απάντηση	Σχόλιο
<input type="checkbox"/> Πάνω προς τα κάτω, όταν γίνεται χρήση 2 σημαιών (Βαθμολογία: 0.00)	
<input type="checkbox"/> Από κάτω προς τα πάνω, όταν γίνεται χρήση 3 σημαιών (Βαθμολογία: 0.00)	
<input checked="" type="checkbox"/> Από πάνω προς τα κάτω σε όλες τις περιπτώσεις (Βαθμολογία: 0.18)	
<input type="checkbox"/> Από κάτω προς τα πάνω σε όλες τις περιπτώσεις (Βαθμολογία: 0.00)	

Ερώτηση: 2 

Το τέλος της μεταβίβασης κειμένου ενός σήματος με αναλαμπές, που σημαίνει ότι τελείωσε η μεταβίβαση του κειμένου δίνεται με τον κώδικα:

Απάντηση		Σχόλιο
<input type="checkbox"/>	AA AA AA (Βαθμολογία: 0.00)	
<input checked="" type="checkbox"/>	AR (Βαθμολογία: 0.17)	
<input type="checkbox"/>	AS (Βαθμολογία: 0.00)	
<input type="checkbox"/>	RQ (Βαθμολογία: 0.00)	
Βαθμολογία ερώτησης: 0.17		

Ερώτηση: 3 

Σε ένα σήμα με αναλαμπές, όταν ο χειριστής θέλει να διαγράψει ένα γράμμα ή μια λέξη, χειρίζεται την ομάδα:

Απάντηση		Σχόλιο
<input type="checkbox"/>	AA AA AA (Βαθμολογία: 0.00)	
<input type="checkbox"/>	AR (Βαθμολογία: 0.00)	
<input type="checkbox"/>	AS (Βαθμολογία: 0.00)	
<input checked="" type="checkbox"/>	EEEEEE (Βαθμολογία: 0.17)	
Βαθμολογία ερώτησης: 0.17		

Ερώτηση: 4 

Όταν ένα πλοίο θέλει να καλέσει ένα άλλο πλοίο ώστε να επικοινωνήσουν με αναλαμπές αλλά δεν γνωρίζει την ταυτότητά του, τότε το καλεί με το σήμα:

Απάντηση		Σχόλιο
<input checked="" type="checkbox"/>	AA AA AA (Βαθμολογία: 0.17)	
<input type="checkbox"/>	AR (Βαθμολογία: 0.00)	
<input type="checkbox"/>	AS (Βαθμολογία: 0.00)	
<input type="checkbox"/>	EEEEEE (Βαθμολογία: 0.00)	

Βαθμολογία ερώτησης: 0.17

Ερώτηση: 5 

Εάν χρειαστεί να διακοπή προσωρινά η επικοινωνία με αναλαμπές μεταξύ δύο πλοίων, τότε ο ενδιαφερόμενος (δηλαδή αυτός που θέλει να διακόψει προσωρινά την επικοινωνία) πρέπει να χειρίσει το σήμα:

Απάντηση		Σχόλιο
<input type="checkbox"/>	AA AA AA (Βαθμολογία: 0.00)	
<input type="checkbox"/>	AR (Βαθμολογία: 0.00)	
<input checked="" type="checkbox"/>	AS (Βαθμολογία: 0.17)	
<input type="checkbox"/>	RQ (Βαθμολογία: 0.00)	

Βαθμολογία ερώτησης: 0.17

Ερώτηση: 6

Να αντιστοιχίσετε τα ακόλουθα σήματα επαναλήψεως σύμφωνα με την σημασία τους:

Επιλογή	Αντιστοιχεί σε
BN	Όλα μεταξύ (Βαθμολογία: 0.04)
AA	Όλα μετά... (Βαθμολογία: 0.04)
WA	Λέξη μετά... (Βαθμολογία: 0.04)
AB	Όλα πριν... (Βαθμολογία: 0.04)
WB	Λέξη πριν... (Βαθμολογία: 0.04)
Βαθμολογία ερώτησης: 0.2	

Ερώτηση: 7

Στα σήματα επαναλήψεως προηγείται πάντοτε το σήμα:

Απάντηση	Σχόλιο
<input type="checkbox"/> AR (Βαθμολογία: 0.00)	
<input checked="" type="checkbox"/> RPT (Βαθμολογία: 0.17)	
<input type="checkbox"/> TTTT (Βαθμολογία: 0.00)	
<input type="checkbox"/> AAA (Βαθμολογία: 0.00)	
Βαθμολογία ερώτησης: 0.17	

Ερώτηση: 8

Σήματα διαδικασίας για χρήση με όλους τους τρόπους μεταδόσεως. Ποια είναι η σημασία του σήματος CS :

Απάντηση		Σχόλιο
<input type="checkbox"/>	Πρόσκληση για μεταβίβαση (Βαθμολογία: 0.00)	
<input type="checkbox"/>	Έλαβα το τελευταίο σας σήμα (Βαθμολογία: 0.00)	
<input checked="" type="checkbox"/>	Ποιο είναι το όνομα ή το διακριτικό σήμα του πλοίου σας (Βαθμολογία: 0.18)	
<input type="checkbox"/>	Επιθυμώ να επικοινωνήσω μαζί σας (Βαθμολογία: 0.00)	
		Βαθμολογία ερώτησης: 0.18

Ερώτηση: 9 

Σήματα διαδικασίας για χρήση με όλους τους τρόπους μεταδόσεως. Ποια είναι η σημασία του σήματος RQ :

Απάντηση		Σχόλιο
<input checked="" type="checkbox"/>	Η έννοια της προηγούμενης ομάδας πρέπει να αναγνωστεί σαν ερώτηση (Βαθμολογία: 0.18)	
<input type="checkbox"/>	Η έννοια της προηγούμενης ομάδας πρέπει να αναγνωστεί σαν άρνηση (Βαθμολογία: 0.00)	
<input type="checkbox"/>	Επαναλάβετε ότι μεταβιβάσατε ή επαναλάβετε ότι λάβατε (Βαθμολογία: 0.00)	
<input type="checkbox"/>	Έλαβα το τελευταίο σας σήμα (Βαθμολογία: 0.00)	
		Βαθμολογία ερώτησης: 0.18

Ερώτηση: 10 

Να αντιστοιχίσετε τα ακόλουθα ηχητικά σήματα όταν αυτά χρησιμοποιούνται μόνο σύμφωνα με τις απαιτήσεις των ΔΚΑΣ του 1972:

Επιλογή	Αντιστοιχεί σε
E ●	σημαίνει «Αλλάζω την πορεία μου προς τα δεξιά» (Βαθμολογία: 0.06)
I ●●	σημαίνει «Αλλάζω την πορεία μου προς τα αριστερά» (Βαθμολογία: 0.06)
S ●●●	σημαίνει «Οι μηχανές μου αναποδίζουν (κάνω ανάποδα)» (Βαθμολογία: 0.06)
Βαθμολογία ερώτησης: 0.18	

Ερώτηση: 11 

Ποια από τις ακόλουθες μεθόδους σημάνσεως ΔΕΝ μπορεί να χρησιμοποιηθεί σήμερα στην επικοινωνία μεταξύ πλοίων ή πλοίου-ξηράς :

Απάντηση	Σχόλιο
<input type="checkbox"/> Σήμανση με το στόμα μέσω τηλεβόα ή μεγαφωνικής συσκευής (Βαθμολογία: 0.00)	
<input type="checkbox"/> Ραδιοτηλεφωνία (Βαθμολογία: 0.00)	
<input type="checkbox"/> Σήματα με αναλαμπές και ηχητική (Βαθμολογία: 0.00)	
<input checked="" type="checkbox"/> Ραδιοτηλεγραφία (Βαθμολογία: 0.18)	
<input type="checkbox"/> Σήμανση με έγχρωμα σημεία (σημαίες) (Βαθμολογία: 0.00)	

Βαθμολογία ερώτησης: 0.18

Ερώτηση: 12 

Σήματα διαδικασίας για χρήση με όλους τους τρόπους μεταδόσεως. Ποια είναι η σημασία του σήματος K (_._) ?

Απάντηση		Σχόλιο
<input type="checkbox"/>	«Επαναλάβετε όλα μεταξύ... και ...» (Βαθμολογία: 0.00)	
<input checked="" type="checkbox"/>	«Επιθυμώ να επικοινωνήσω μαζί σας» ή «Πρόσκληση για μεταβίβαση» (Βαθμολογία: 0.18)	
<input type="checkbox"/>	«Γνωστοποίηση ορθής επαναλήψεως» ή «Είναι ορθό» (Βαθμολογία: 0.00)	

Βαθμολογία ερώτησης: 0.18

Ερώτηση: 13 

Σήματα διαδικασίας για χρήση με όλους τους τρόπους μεταδόσεως. Ποια είναι η σημασία του σήματος R (_._) ?

Απάντηση		Σχόλιο
<input type="checkbox"/>	Επαναληπτικό σήμα «Επαναλαμβάνω» (Βαθμολογία: 0.00)	
<input type="checkbox"/>	Σήμα αναμονής ή περιόδου (Βαθμολογία: 0.00)	
<input checked="" type="checkbox"/>	Έχει ληφθεί ή «Έλαβα το τελευταίο σας σήμα» (Βαθμολογία: 0.18)	

Βαθμολογία ερώτησης: 0.18

Ερώτηση: 14 

Τι σημαίνει το Σήμα Διαδικασίας T (_) όταν χρησιμοποιείται σε μετάδοση με αναλαμπές:

Απάντηση		Σχόλιο
<input checked="" type="checkbox"/>	Χρησιμοποιείται για να δείξει τη λήψη κάθε λέξης. (Βαθμολογία: 0.18)	
<input type="checkbox"/>	Έχει ληφθεί ή «Έλαβα το τελευταίο σας σήμα». (Βαθμολογία: 0.00)	
<input type="checkbox"/>	«Επιθυμώ να επικοινωνήσω μαζί σας» ή «Πρόσκληση για μεταβίβαση» (Βαθμολογία: 0.00)	
		Βαθμολογία ερώτησης: 0.18

Ερώτηση: 15 

Σήματα διαδικασίας για χρήση με όλους τους τρόπους μεταδόσεως. Ποια είναι η σημασία του σήματος DE ?

Απάντηση		Σχόλιο
<input type="checkbox"/>	«Γνωστοποίηση ορθής επαναλήψεως» ή «Είναι ορθό» (Βαθμολογία: 0.00)	
<input checked="" type="checkbox"/>	«Από ...» (χρησιμοποιείται αναφερόμενο πριν από το όνομα ή το διακριτικό σήμα σταθμού που καλεί. (Βαθμολογία: 0.18)	
<input type="checkbox"/>	Χρησιμοποιείται για να δείξει τη λήψη κάθε λέξης. (Βαθμολογία: 0.00)	
		Βαθμολογία ερώτησης: 0.18

Ερώτηση: 16 

Τι σημαίνει το Σήμα Διαδικασίας TTTT όταν χρησιμοποιείται σε μετάδοση με αναλαμπές:

Απάντηση		Σχόλιο
----------	--	--------

<input type="checkbox"/>	«Επιθυμώ να επικοινωνήσω μαζί σας» ή «Πρόσκληση για μεταβίβαση» (Βαθμολογία: 0.00)	
<input type="checkbox"/>	Έχει ληφθεί ή «Έλαβα το τελευταίο σας σήμα». (Βαθμολογία: 0.00)	
<input checked="" type="checkbox"/>	Σήμα αντισημάνσεως-Μεταδίδεται προκειμένου να δοθεί απάντηση σε μία κλήση και συνεχίζει να μεταδίδεται έως ότου ο σταθμός που σημαίνει σταματήσει να καλεί. (Βαθμολογία: 0.18)	
		Βαθμολογία ερώτησης: 0.18

Ερώτηση: 17 

Για Ραδιοτηλεφωνική κλήση όλων των σταθμών στην παραπλεύουσα περιοχή θα πρέπει να χρησιμοποιείται η ομάδα :

Απάντηση		Σχόλιο
<input checked="" type="checkbox"/>	CQ , όχι όμως περισσότερες από τρεις φορές σε κάθε κλήση (Βαθμολογία: 0.18)	
<input type="checkbox"/>	BN , όχι όμως περισσότερες από μία φορά σε κάθε κλήση (Βαθμολογία: 0.00)	
<input type="checkbox"/>	WA , όχι όμως περισσότερες από τρεις φορές σε κάθε κλήση (Βαθμολογία: 0.00)	
		Βαθμολογία ερώτησης: 0.18

Ερώτηση: 18 

Κατά την επικοινωνία πλοίου-πλοίου και/ή πλοίου-ξηράς μέσω ραδιοτηλεφώνου, εάν θέλουμε να χρησιμοποιήσουμε στον προφορικό λόγο το Σήμα Διαδικασίας “Υποδιαστολή”, τότε πρέπει να εκφωνήσουμε την λέξη :

Απάντηση	Σχόλιο
----------	--------

<input type="checkbox"/>	INTERCO (Βαθμολογία: 0.00)	
<input checked="" type="checkbox"/>	DECIMAL (Βαθμολογία: 0.17)	
<input type="checkbox"/>	CORRECTION (Βαθμολογία: 0.00)	
<input type="checkbox"/>	STOP (Βαθμολογία: 0.00)	
		Βαθμολογία ερώτησης: 0.17

Ερώτηση: 19 

Κατά την επικοινωνία πλοίου-πλοίου και/ή πλοίου-ξηράς μέσω ραδιοτηλεφώνου, εάν θέλουμε να χρησιμοποιήσουμε στον προφορικό λόγο το Σήμα Διαδικασίας “Ακυρώστε την τελευταία μου λέξη ή ομάδα”, τότε πρέπει να εκφωνήσουμε την λέξη :

Απάντηση		Σχόλιο
<input type="checkbox"/>	INTERCO (Βαθμολογία: 0.00)	
<input type="checkbox"/>	DECIMAL (Βαθμολογία: 0.00)	
<input checked="" type="checkbox"/>	CORRECTION (Βαθμολογία: 0.17)	
<input type="checkbox"/>	STOP (Βαθμολογία: 0.00)	
		Βαθμολογία ερώτησης: 0.17

Ερώτηση: 20 

Να αντιστοιχίσετε τα ακόλουθα σήματα διασώσεως σύμφωνα με την σημασία τους:

Επιλογή	Αντιστοιχεί σε
---------	----------------

Έπαρση του γράμματος N (NOVEMBER)	Δεικνύει ανικανότητα να συμμορφωθεί (Βαθμολογία: 0.05)
Εκτόξευση σήματος κόκκινου αστεριού	Η αποβίβαση εδώ είναι εξαιρετικά επικίνδυνη (Βαθμολογία: 0.05)
Σήμα πορτοκαλόχρου καπνού	Σας επισημάναμε ότι θα σας παρασχεθεί βοήθεια όσο το δυνατόν ταχύτερα (Βαθμολογία: 0.05)
Εκτόξευση σήματος πράσινου αστεριού	Αυτή είναι η καλύτερη θέση για αποβίβαση (Βαθμολογία: 0.05)
Βαθμολογία ερώτησης: 0.2	

Ερώτηση: 21 

Στα οπτικά σήματα αέρα-επιφάνειας μεταξύ αεροσκάφους και πλοίου, ποια από τις παρακάτω ενέργειες του αεροσκάφους δηλώνει ότι "Η βοήθεια του πλοίου δεν χρειάζεται πλέον" :

Απάντηση		Σχόλιο
<input type="checkbox"/>	Διασταύρωση σε χαμηλό ύψος της προεκτάσεως της πορείας του πλοίου κοντά στην πλήρη με ταλάντευση των πτερυγίων. (Βαθμολογία: 0.00)	
<input type="checkbox"/>	Διαγραφή ενός τουλάχιστον κύκλου γύρω από το πλοίο. (Βαθμολογία: 0.00)	
<input checked="" type="checkbox"/>	Διασταύρωση σε χαμηλό ύψος του ίχνους του πλοίου κοντά στην πρύμνη με ταλάντευση των πτερυγίων. (Βαθμολογία: 0.18)	
Βαθμολογία ερώτησης: 0.18		


Ερώτηση: 22 

Ποιο από τα παρακάτω ΔΕΝ αποτελεί σήμα κινδύνου :

Απάντηση		Σχόλιο
<input type="checkbox"/>	Συνεχής ήχος που παράγεται από οποιαδήποτε συσκευή σημάτων ομίχλης. (Βαθμολογία: 0.00)	
<input type="checkbox"/>	Σκυταλίδα (φωτοβολίδα) με αλεξίπτωτο, που παράγει κόκκινο φως ή πυρσός χεριού κόκκινου φωτός. (Βαθμολογία: 0.00)	
<input checked="" type="checkbox"/>	Σήμα αποτελούμενο από δύο μαύρες σφαίρες ή οποιοδήποτε άλλο αντικείμενο που μοιάζει με σφαίρα, κάθετα τοποθετημένες στο υψηλότερο σημείο του ιστού επάνω από την γέφυρα του πλοίου. (Βαθμολογία: 0.18)	
<input type="checkbox"/>	Αργή και κατ' επανάληψη ύψωση και χαμήλωση των βραχιόνων σε έκταση από κάθε πλευρά. (Βαθμολογία: 0.00)	
<input type="checkbox"/>	Σήμα καπνού που αναδίδει ποσότητα καπνού χρώματος πορτοκαλί. (Βαθμολογία: 0.00)	
		Βαθμολογία ερώτησης: 0.18

Ερώτηση: 23 

Σε ποιο γράμμα του Διεθνούς Αλφάβητου αντιστοιχεί η εικονιζόμενη σημαία και ποια είναι η σημασία της ?

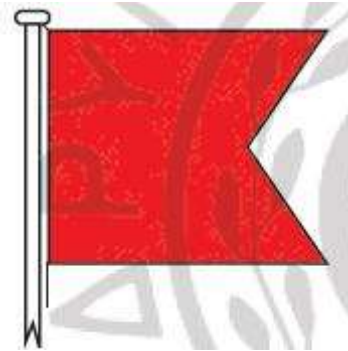


Απάντηση		Σχόλιο
<input type="checkbox"/>	- K - Επιθυμώ να επικοινωνήσω μαζί σας. (Βαθμολογία: 0.00)	

<input checked="" type="checkbox"/>	- Α - Έχω δύτη κάτω (στη θάλασσα). Κρατάτε απόσταση από μένα πλέοντας αργά. (Βαθμολογία: 0.18)	
<input type="checkbox"/>	- Χ - Διακόψτε την εκτέλεση εκείνου που σκοπεύετε να κάνετε και προσέχετε τα σήματά μου. (Βαθμολογία: 0.00)	
		Βαθμολογία ερώτησης: 0.18

Ερώτηση: 24 

Σε ποιο γράμμα του Διεθνούς Αλφάβητου αντιστοιχεί η εικονιζόμενη σημαία και ποια είναι η σημασία της ?



Απάντηση		Σχόλιο
<input checked="" type="checkbox"/>	- Β - Παραλαμβάνω ή εκφορτώνω ή μεταφέρω επικίνδυνα φορτία. (Βαθμολογία: 0.18)	
<input type="checkbox"/>	- D - Παραμείνετε σε απόσταση από μένα. Χειρίζω με δυσκολία. (Βαθμολογία: 0.00)	
<input type="checkbox"/>	- L - Κρατήστε αμέσως το πλοίο σας. (Βαθμολογία: 0.00)	
		Βαθμολογία ερώτησης: 0.18

Ερώτηση: 25 


Σε ποιο γράμμα του Διεθνούς Αλφάβητου αντιστοιχεί η εικονιζόμενη σημαία και ποια είναι η σημασία της ?



Απάντηση		Σχόλιο
<input type="checkbox"/>	- E - Αλλάζω την πορεία μου προς τα δεξιά. (Βαθμολογία: 0.00)	
<input checked="" type="checkbox"/>	- D - Παραμείνετε σε απόσταση από μένα. Χειρίζω με δυσκολία. (Βαθμολογία: 0.18)	
<input type="checkbox"/>	- L - Κρατήστε αμέσως το πλοίο σας. (Βαθμολογία: 0.00)	
Βαθμολογία ερώτησης: 0.18		

Ερώτηση: 26

Σε ποιο γράμμα του Διεθνούς Αλφάβητου αντιστοιχεί η εικονιζόμενη σημαία και ποια είναι η σημασία της ?



Απάντηση		Σχόλιο
<input type="checkbox"/>	- B - Παραλαμβάνω ή εκφορτώνω ή μεταφέρω επικίνδυνα φορτία. (Βαθμολογία: 0.00)	
<input checked="" type="checkbox"/>	- H - Έχω πλοηγό επί του πλοίου. (Βαθμολογία: 0.18)	

<input type="checkbox"/>	- Ο - Άνθρωπος στην θάλασσα. (Βαθμολογία: 0.00)	
		Βαθμολογία ερώτησης: 0.18

Ερώτηση: 27 

Σε ποιο γράμμα του Διεθνούς Αλφάβητου αντιστοιχεί η εικονιζόμενη σημαία και ποια είναι η σημασία της ?



Απάντηση		Σχόλιο
<input checked="" type="checkbox"/>	- J - Κρατάτε απόσταση από μένα. Στο πλοίο μου ξέσπασε πυρκαγιά και φέρω επικίνδυνο φορτίο ή διαρρέει επικίνδυνο φορτίο. (Βαθμολογία: 0.18)	
<input type="checkbox"/>	- Ρ - Όλοι να επιστρέψουν στο πλοίο αμέσως γιατί θα αναχωρήσει. (Βαθμολογία: 0.00)	
<input type="checkbox"/>	- I - Αλλάζω την πορεία μου προς τα αριστερά (στρίβω αριστερά). (Βαθμολογία: 0.00)	
		Βαθμολογία ερώτησης: 0.18

Ερώτηση: 28 

Σε ποιο γράμμα του Διεθνούς Αλφάβητου αντιστοιχεί η εικονιζόμενη σημαία και ποια είναι η σημασία της ?



Απάντηση		Σχόλιο
<input type="checkbox"/>	- Ε - Αλλάζω την πορεία μου προς τα δεξιά. (Βαθμολογία: 0.00)	
<input checked="" type="checkbox"/>	- Μ - Το πλοίο μου σταμάτησε και δεν κινείται στο νερό. (Βαθμολογία: 0.18)	
<input type="checkbox"/>	- Υ - Κατευθύνεστε προς κίνδυνο. (Βαθμολογία: 0.00)	
Βαθμολογία ερώτησης: 0.18		

Ερώτηση: 29 

Σε ποιο γράμμα του Διεθνούς Αλφάβητου αντιστοιχεί η εικονιζόμενη σημαία και ποια είναι η σημασία της ?




Απάντηση		Σχόλιο
<input type="checkbox"/>	- Β - Παραλαμβάνω ή εκφορτώνω ή μεταφέρω επικίνδυνα φορτία. (Βαθμολογία: 0.00)	
<input type="checkbox"/>	- Η - Έχω πλοηγό επί του πλοίου. (Βαθμολογία: 0.00)	

<input checked="" type="checkbox"/>	- O - Άνθρωπος στην θάλασσα. (Βαθμολογία: 0.18)	
		Βαθμολογία ερώτησης: 0.18

Ερώτηση: 30 

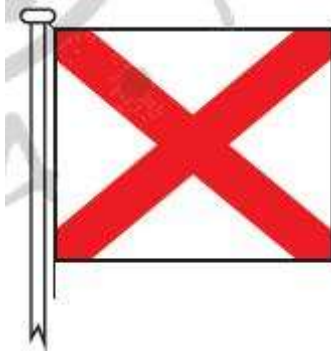
Σε ποιο γράμμα του Διεθνούς Αλφάβητου αντιστοιχεί η εικονιζόμενη σημαία και ποια είναι η σημασία της ?



Απάντηση		Σχόλιο
<input type="checkbox"/>	- U - Κατευθύνεστε προς κίνδυνο. (Βαθμολογία: 0.00)	
<input type="checkbox"/>	- D - Παραμείνετε σε απόσταση από μένα. Χειρίζω με δυσκολία. (Βαθμολογία: 0.00)	
<input checked="" type="checkbox"/>	- Q - Η κατάσταση υγιεινής στο πλοίο μου είναι καλή και ζητώ ελευθεροκοινωνία. (Βαθμολογία: 0.18)	
		Βαθμολογία ερώτησης: 0.18

Ερώτηση: 31 


Σε ποιο γράμμα του Διεθνούς Αλφάβητου αντιστοιχεί η εικονιζόμενη σημαία και ποια είναι η σημασία της ?



Απάντηση		Σχόλιο
<input checked="" type="checkbox"/>	- V - Ζητώ βοήθεια. (Βαθμολογία: 0.18)	
<input type="checkbox"/>	- W - Ζητώ ιατρική βοήθεια. (Βαθμολογία: 0.00)	
<input type="checkbox"/>	- Z - Ζητώ ρυμουλκό. (Βαθμολογία: 0.00)	
Βαθμολογία ερώτησης: 0.18		

Ερώτηση: 32 

Σε ποιο γράμμα του Διεθνούς Αλφάβητου αντιστοιχεί η εικονιζόμενη σημαία και ποια είναι η σημασία της ?



Απάντηση		Σχόλιο
<input type="checkbox"/>	-V - Ζητώ βοήθεια. (Βαθμολογία: 0.00)	
<input checked="" type="checkbox"/>	- W - Ζητώ ιατρική βοήθεια. (Βαθμολογία: 0.18)	
<input type="checkbox"/>	- Z - Ζητώ ρυμουλκό. (Βαθμολογία: 0.00)	

Ερώτηση: 33 

Σε ποιο γράμμα του Διεθνούς Αλφάβητου αντιστοιχεί η εικονιζόμενη σημαία και ποια είναι η σημασία της ?



Απάντηση		Σχόλιο
<input checked="" type="checkbox"/>	- Υ - Σύρω την άγκυρά μου. (Βαθμολογία: 0.18)	
<input type="checkbox"/>	- Μ - Το πλοίο μου σταμάτησε και δεν κινείται στο νερό. (Βαθμολογία: 0.00)	
<input type="checkbox"/>	- U - Κατευθύνεστε προς κίνδυνο. (Βαθμολογία: 0.00)	
Βαθμολογία ερώτησης: 0.18		

Ερώτηση: 34 

Ποια είναι η σημασία του ακρωνύμιου GMDSS :

Απάντηση		Σχόλιο
<input type="checkbox"/>	Global Maritime Digital Safety System (Βαθμολογία: 0.00)	
<input type="checkbox"/>	Global Mobile Distress Surface Search (Βαθμολογία: 0.00)	
<input checked="" type="checkbox"/>	Global Maritime Distress and Safety System (Βαθμολογία: 0.17)	

Βαθμολογία ερώτησης: 0.17

Ερώτηση: 35 

Ποια είναι η σημασία του ακρωνύμιου DSC :

Απάντηση		Σχόλιο
<input checked="" type="checkbox"/>	Digital Selective Calling (Βαθμολογία: 0.17)	
<input type="checkbox"/>	Distress Safety Calling (Βαθμολογία: 0.00)	
<input type="checkbox"/>	Digital Secure Calling (Βαθμολογία: 0.00)	

Βαθμολογία ερώτησης: 0.17

Ερώτηση: 36 

Μια κλήση κινδύνου από ένα πλοίο, εκπέμπεται μόνο κατ' εντολή:

Απάντηση		Σχόλιο
<input type="checkbox"/>	Παράκτιου σταθμού (Βαθμολογία: 0.00)	
<input checked="" type="checkbox"/>	Πλοιάρχου (Βαθμολογία: 0.17)	
<input type="checkbox"/>	Πλοιοκτήτη (Βαθμολογία: 0.00)	
<input type="checkbox"/>	Υποπλοιάρχου (Βαθμολογία: 0.00)	

Βαθμολογία ερώτησης: 0.17

Ερώτηση: 37 

Στην πράξη μια καλή επικοινωνία μεταξύ πλοίων σε συχνότητα VHF (LOS-Line Of Sight) υπολογίζεται μέχρι περίπου:

Απάντηση		Σχόλιο
<input type="checkbox"/>	80-100 ν.μ. (Βαθμολογία: 0.00)	
<input checked="" type="checkbox"/>	15-20 ν.μ. (Βαθμολογία: 0.18)	
<input type="checkbox"/>	50-80 ν.μ. (Βαθμολογία: 0.00)	
<input type="checkbox"/>	5-10 ν.μ. (Βαθμολογία: 0.00)	
		Βαθμολογία ερώτησης: 0.18

Ερώτηση: 38 

Στην πράξη μια καλή επικοινωνία μεταξύ πλοίου-παράκτιου σε συχνότητα VHF (LOS-Line Of Sight) υπολογίζεται μέχρι περίπου:

Απάντηση		Σχόλιο
<input type="checkbox"/>	15-25 ν.μ. (Βαθμολογία: 0.00)	
<input type="checkbox"/>	5-10 ν.μ. (Βαθμολογία: 0.00)	
<input checked="" type="checkbox"/>	40-50 ν.μ. (Βαθμολογία: 0.18)	
<input type="checkbox"/>	100-130 ν.μ. (Βαθμολογία: 0.00)	
		Βαθμολογία ερώτησης: 0.18

Ερώτηση: 39 

Όταν χρησιμοποιείται δίαυλος (κανάλι) με δύο διαφορετικές συχνότητες, τότε αυτός ονομάζεται:

Απάντηση		Σχόλιο
<input checked="" type="checkbox"/>	Αμφίδρομος (Duplex) (Βαθμολογία: 0.18)	
<input type="checkbox"/>	Διπλός (Double) (Βαθμολογία: 0.00)	
<input type="checkbox"/>	Μονόδρομος (Simplex) (Βαθμολογία: 0.00)	
Βαθμολογία ερώτησης: 0.18		

Ερώτηση: 40 

Όταν χρησιμοποιείται δίαυλος (κανάλι) με την ίδια συχνότητα εκπομπής και λήψης, τότε αυτός ονομάζεται:

Απάντηση		Σχόλιο
<input type="checkbox"/>	Αμφίδρομος (Duplex) (Βαθμολογία: 0.00)	
<input type="checkbox"/>	Μονός (Single) (Βαθμολογία: 0.00)	
<input checked="" type="checkbox"/>	Μονόδρομος (Simplex) (Βαθμολογία: 0.18)	
Βαθμολογία ερώτησης: 0.18		

Ερώτηση: 41 

Ποιο κανάλι του VHF/DSC χρησιμοποιείται για κλήσεις κινδύνου, επείγοντος, ασφάλειας, ρουτίνας:

Απάντηση	Σχόλιο
----------	--------

<input type="checkbox"/>	Ch70 για κλήσεις κινδύνου & επείγοντος, ενώ το Ch16 για κλήσεις ασφάλειας & ρουτίνας. (Βαθμολογία: 0.00)	
<input checked="" type="checkbox"/>	Ch70 για όλες τις κλήσεις DSC στο VHF. (Βαθμολογία: 0.18)	
<input type="checkbox"/>	Ch70 για κλήσεις κινδύνου, ενώ το Ch12 για κλήσεις επείγοντος, ασφάλειας & ρουτίνας. (Βαθμολογία: 0.00)	
		Βαθμολογία ερώτησης: 0.18

Ερώτηση: 42 

Να αντιστοιχίσετε τα παρακάτω κανάλια VHF με την χρήση που έχει καθοριστεί για το καθένα:

Επιλογή	Αντιστοιχεί σε
Κανάλι – Ch13	Επικοινωνία γέφυρας με γέφυρα (bridge to bridge) για ασφάλεια ναυσιπλοΐας (Βαθμολογία: 0.05)
Κανάλι – Ch73	Επικοινωνία εάν απαιτηθεί μεταξύ πλοίου-αεροσκάφους-ξηράς για έρευνα και διάσωση ή για επικοινωνία σε περίπτωση διαρροής ή ρυπάνσεως (Βαθμολογία: 0.05)
Κανάλι – Ch16	Ανταπόκριση Κινδύνου και Κλήση (Distress Safety & Calling) (Βαθμολογία: 0.05)
Κανάλι – Ch70	Ψηφιακή Επιλογική Κλήση (Digital selective calling for distress, safety and calling) (Βαθμολογία: 0.05)
Βαθμολογία ερώτησης: 0.2	

Ερώτηση: 43 

Ο τύπος της κεραίας που χρησιμοποιείται στις συσκευές VHF είναι :

Απάντηση		Σχόλιο
<input type="checkbox"/>	Πολυκατευθυντικές (Βαθμολογία: 0.00)	
<input checked="" type="checkbox"/>	Τύπου μαστιγίου (Βαθμολογία: 0.17)	
<input type="checkbox"/>	Ελικοειδής (Βαθμολογία: 0.00)	

Βαθμολογία ερώτησης: 0.17

Ερώτηση: 44 

Ποια ζώνη συχνοτήτων χρησιμοποιείται στην Ραδιοτηλεφωνία (Ρ/Φ) για να επικοινωνήσουν δύο σταθμοί που βρίσκονται σε κοντινή απόσταση, περίπου 15 ν.μ.:

Απάντηση		Σχόλιο
<input checked="" type="checkbox"/>	Very High Frequencies (VHF) (Βαθμολογία: 0.18)	
<input type="checkbox"/>	Medium Frequencies (MF) (Βαθμολογία: 0.00)	
<input type="checkbox"/>	High Frequencies (HF) (Βαθμολογία: 0.00)	
<input type="checkbox"/>	Low Frequencies (LF) (Βαθμολογία: 0.00)	

Βαθμολογία ερώτησης: 0.18

Ερώτηση: 45 

Ποια ζώνη συχνοτήτων χρησιμοποιείται στην Ραδιοτηλεφωνία (Ρ/Φ) για να επικοινωνήσουν δύο σταθμοί που βρίσκονται σε μέτρια απόσταση, περίπου 100 ν.μ.:

Απάντηση		Σχόλιο
----------	--	--------

<input type="checkbox"/>	Very High Frequencies (VHF) (Βαθμολογία: 0.00)	
<input checked="" type="checkbox"/>	Medium Frequencies (MF) (Βαθμολογία: 0.18)	
<input type="checkbox"/>	High Frequencies (HF) (Βαθμολογία: 0.00)	
<input type="checkbox"/>	Low Frequencies (LF) (Βαθμολογία: 0.00)	
		Βαθμολογία ερώτησης: 0.18

Ερώτηση: 46 

Ποια ζώνη συχνοτήτων χρησιμοποιείται στην Ραδιοτηλεφωνία (Ρ/Φ) για να επικοινωνήσουν δύο σταθμοί που βρίσκονται σε πολύ μεγάλη απόσταση (μερικές εκατοντάδες ή και χιλιάδες ναυτικά μίλια):

Απάντηση		Σχόλιο
<input type="checkbox"/>	Very High Frequencies(VHF) (Βαθμολογία: 0.00)	
<input type="checkbox"/>	Medium Frequencies (MF) (Βαθμολογία: 0.00)	
<input checked="" type="checkbox"/>	High Frequencies (HF) (Βαθμολογία: 0.18)	
<input type="checkbox"/>	Low Frequencies (LF) (Βαθμολογία: 0.00)	
		Βαθμολογία ερώτησης: 0.18

Ερώτηση: 47 

Η ραδιοτηλεφωνική εμβέλεια VHF των παράκτιων σταθμών, οι οποίοι από τον ΔΚΡ επιτρέπεται να έχουν πομπό εξόδου έως 50W έχουν μέγιστη ραδιοτηλεφωνική εμβέλεια περίπου:

Απάντηση	Σχόλιο
----------	--------

<input checked="" type="checkbox"/>	50 ν.μ. (Βαθμολογία: 0.18)	
<input type="checkbox"/>	100 ν.μ. (Βαθμολογία: 0.00)	
<input type="checkbox"/>	150 ν.μ. (Βαθμολογία: 0.00)	
		Βαθμολογία ερώτησης: 0.18

Ερώτηση: 48 

Η θαλάσσια περιοχή κάλυψης παράκτιου σταθμού VHF, δηλαδή από τις ακτές προς τη θάλασσα μέχρι 40-50 ν.μ., ο οποίος παρέχει συνεχή Ραδιοτηλεφωνική κάλυψη στο κανάλι 70 DSC και στο κανάλι 16 Ραδιοτηλεφώνου VHF, ονομάζεται:

Απάντηση		Σχόλιο
<input type="checkbox"/>	A4 (Βαθμολογία: 0.00)	
<input type="checkbox"/>	A3 (Βαθμολογία: 0.00)	
<input type="checkbox"/>	A2 (Βαθμολογία: 0.00)	
<input checked="" type="checkbox"/>	A1 (Βαθμολογία: 0.18)	
		Βαθμολογία ερώτησης: 0.18

Ερώτηση: 49 

Η θαλάσσια περιοχή κάλυψης παράκτιου σταθμού MF, δηλαδή πέραν της περιοχής A1, μιας αποστάσεως 50-300 ν.μ. περίπου ο οποίος παρέχει συνεχή Ραδιοτηλεφωνική κάλυψη στη συχνότητα κλήσης κινδύνου DSC/MF 2187,5 kHz και τη συχνότητα ανταπόκρισης κινδύνου MF 2182,0 kHz, ονομάζεται:

Απάντηση	Σχόλιο
----------	--------

<input checked="" type="checkbox"/>	A2 (Βαθμολογία: 0.18)	
<input type="checkbox"/>	A1 (Βαθμολογία: 0.00)	
<input type="checkbox"/>	A3 (Βαθμολογία: 0.00)	
<input type="checkbox"/>	A4 (Βαθμολογία: 0.00)	
		Βαθμολογία ερώτησης: 0.18

Ερώτηση: 50 

Η θαλάσσια περιοχή που οριοθετείται πέραν της A1, A2 (όπου υπάρχουν) φθάνοντας μέχρι 76°B ή 76°N γεωγραφικό πλάτος, και παρέχει Ραδιοτηλεφωνική κάλυψη για κλήσεις κινδύνου DSC/HF καθώς επίσης και κάλυψη από τους γεωστατικούς δορυφόρους του INMARSAT, ονομάζεται:

Απάντηση		Σχόλιο
<input type="checkbox"/>	A1 (Βαθμολογία: 0.00)	
<input type="checkbox"/>	A2 (Βαθμολογία: 0.00)	
<input checked="" type="checkbox"/>	A3 (Βαθμολογία: 0.18)	
<input type="checkbox"/>	A4 (Βαθμολογία: 0.00)	
		Βαθμολογία ερώτησης: 0.18

Ερώτηση: 51 

Η θαλάσσια περιοχή που οριοθετείται πέραν της A1, A2 και A3 δηλαδή ουσιαστικά καλύπτει τις Πολικές περιοχές (πέρα από 76°B ή 76°N), ονομάζεται:

Απάντηση	Σχόλιο
----------	--------

<input type="checkbox"/>	A1 (Βαθμολογία: 0.00)	
<input type="checkbox"/>	A2 (Βαθμολογία: 0.00)	
<input type="checkbox"/>	A3 (Βαθμολογία: 0.00)	
<input checked="" type="checkbox"/>	A4 (Βαθμολογία: 0.18)	
		Βαθμολογία ερώτησης: 0.18

Ερώτηση: 52 

Τα πλοία που λαμβάνουν έναν συναγερμό κινδύνου (Distress Alert) από ένα άλλο πλοίο με την μέθοδο DSC, πρέπει να αναγνωρίσουν (ACKNOWLEDGE) τον συναγερμό αυτόν το συντομότερο δυνατό χρησιμοποιώντας την ίδια μέθοδο, δηλαδή την Ψηφιακή Επιλογική Κλήση (DSC):

Απάντηση		Σχόλιο
<input checked="" type="checkbox"/>	Λάθος (Βαθμολογία: 0.18)	
<input type="checkbox"/>	Σωστό (Βαθμολογία: 0.00)	
		Βαθμολογία ερώτησης: 0.18

Ερώτηση: 53 

Επιβεβαίωση(ACKNOWLEDGE) κλήσης κινδύνου DSC επιτρέπεται να γίνεται μόνο από :

Απάντηση		Σχόλιο
<input type="checkbox"/>	Ένα ή περισσότερα πλοία (Βαθμολογία: 0.00)	
<input type="checkbox"/>	Τα Μέσα Έρευνας και Διάσωσης (Βαθμολογία: 0.00)	

<input type="checkbox"/>	Την Αρχή της σημαίας που φέρει το πλοίο (Βαθμολογία: 0.00)	
<input checked="" type="checkbox"/>	Ένα παράκτιο σταθμό (Βαθμολογία: 0.18)	
		Βαθμολογία ερώτησης: 0.18

Ερώτηση: 54 

Εάν ένα πλοίο εξακολουθεί να λαμβάνει επανειλημμένα μια κλήση κινδύνου DSC στα MF ή VHF, μπορεί να εκπέμψει μια επιβεβαίωση(ACKNOWLEDGE) DSC ώστε να τερματίσει τις κλήσεις, μόνο μετά:

Απάντηση		Σχόλιο
<input checked="" type="checkbox"/>	Από άδεια ενός RCC ή παράκτιου σταθμού (Βαθμολογία: 0.17)	
<input type="checkbox"/>	Από άδεια της Αρχής της σημαίας που φέρει το πλοίο (Βαθμολογία: 0.00)	
<input type="checkbox"/>	Από άδεια της πλοιοκτήτριας εταιρίας (Βαθμολογία: 0.00)	
		Βαθμολογία ερώτησης: 0.17

Ερώτηση: 55 

Το σήμα ΕΠΕΙΓΟΝΤΟΣ αρχίζει με την λέξη:

Απάντηση		Σχόλιο
<input type="checkbox"/>	SECURITÉ (Βαθμολογία: 0.00)	
<input type="checkbox"/>	MAYDAY (Βαθμολογία: 0.00)	
<input checked="" type="checkbox"/>	PAN PAN (Βαθμολογία: 0.17)	
		Βαθμολογία ερώτησης: 0.17

Ερώτηση: 56 

Το σήμα ΚΙΝΔΥΝΟΥ αρχίζει με την λέξη:

Απάντηση		Σχόλιο
<input type="checkbox"/>	SECURITÉ (Βαθμολογία: 0.00)	
<input checked="" type="checkbox"/>	MAYDAY (Βαθμολογία: 0.17)	
<input type="checkbox"/>	PAN PAN (Βαθμολογία: 0.00)	

Βαθμολογία ερώτησης: 0.17

Ερώτηση: 57 

Να συμπληρώσετε με ΚΕΦΑΛΑΙΑ γράμματα το ΟΝΟΜΑΤΕΠΩΝΥΜΟ και τον αριθμό μητρώου σας.

Απάντηση

ΟΝΟΜΑΤΕΠΩΝΥΜΟ [] και Αριθμός Μητρώου []. (Βαθμολογία: 0 : 0)

Βαθμολογία ερώτησης: 0

Συνολική βαθμολογία άσκησης: 10.00