


ΕΞΕΤΑΣΕΙΣ ΣΕΠΤΕΜΒΡΙΟΥ 2021

Ασκήσεις

Διαχείριση Άσκησης



➤ ΜΕΤΑΦΟΡΑ ΦΟΡΤΙΩΝ Ε ΕΞΑΜΗΝΟΥ



Ανακάτεμα όλων των ερωτήσεων








Επιλογή τυχαίων ερωτήσεων από τις ερωτήσεις της άσκησης

ερωτήσεις

Υποβολή

Ερωτήσεις της άσκησης		⚙️
1.	Να λυθεί η παρακάτω άσκηση. Πολλαπλής Επιλογής (Πολλαπλές Απαντήσεις)	⬆️ ⚙️
2.	Γράψτε το ονοματεπώνυμό σας και ΑΓΜ Ελεύθερου Κειμένου	⬆️ ⚙️
3.	Τι φανερώνει η διαγωγή του πλοίου. Πολλαπλής Επιλογής (Μοναδική Απάντηση)	⬆️ ⚙️
4.	Εκτόπισμα είναι. Πολλαπλής Επιλογής (Μοναδική Απάντηση)	⬆️ ⚙️
5.	Το sagging είναι. Πολλαπλής Επιλογής (Μοναδική Απάντηση)	⬆️ ⚙️
6.	Σε κατάσταση sagging το πλοίο φορτώνει. Πολλαπλής Επιλογής (Μοναδική Απάντηση)	⬆️ ⚙️



Ερωτήσεις της άσκησης		
7.	Το ποιοσποποιητικό καταλληλότητας κυτών είναι. Πολλαπλής Επιλογής (Μοναδική Απάντηση)	 
8.	Το ύψος εξάλων εξαρτάται. Πολλαπλής Επιλογής (Μοναδική Απάντηση)	 
9.	Το sagging ή hogging είναι καταστάσεις που παρατηρούνται στα πλοία και φανερώνουν. Πολλαπλής Επιλογής (Μοναδική Απάντηση)	 
10.	Όταν το πλοίο μεταβαίνει από μεγαλύτερη σε μικρότερη πυκνότητα παρατηρούμε. Πολλαπλής Επιλογής (Μοναδική Απάντηση)	 
11.	Βασικά κριτήρια επιλογής ανομοιογενούς, (alternate hold loading condition), φόρτωσης στα κύτη ενός πλοίου Πολλαπλής Επιλογής (Μοναδική Απάντηση)	 
12.	Πότε γίνεται εξαερισμός φορτίου εντός κύτους σε σχέση με το Dew Point. Πολλαπλής Επιλογής (Μοναδική Απάντηση)	 
13.	Ο όρος TIER σε πλοίο μεταφοράς εμπορευματοκιβωτίων σε τι αναφέρεται. Πολλαπλής Επιλογής (Μοναδική Απάντηση)	