


## ΕΞΕΤΑΣΕΙΣ ΣΕΠΤΕΜΒΡΙΟΥ 2021



Ασκήσεις

Διαχείριση Άσκησης



➤ **ΜΕΤΑΦΟΡΑ ΦΟΡΤΙΩΝ ΣΤ ΕΞΑΜΗΝΟΥ**
















Ανακάτεμα όλων των ερωτήσεων

Επιλογή τυχαίων ερωτήσεων από τις ερωτήσεις της άσκησης  ερωτήσεις

Υποβολή

Ερωτήσεις της άσκησης		⚙️
1.	Γράψτε το ονοματεπώνυμό σας και ΑΓΜ Ελεύθερου Κειμένου	⬆️ ⚙️
2.	Να λυθεί η παρακάτω άσκηση. Πολλαπλής Επιλογής (Πολλαπλές Απαντήσεις)	⬆️ ⚙️
3.	Από τι προσδιορίζεται η ασφαλής και αβλαβής μεταφορά προϊόντων χάλυβα. Πολλαπλής Επιλογής (Μοναδική Απάντηση)	⬆️ ⚙️
4.	Ως προς την ανατροπή ενός κιβωτίου κατά το εγκάρσιο η χρησιμοποίηση επίστρωσης θεωρείται αντισταθμιστικός παράγοντας. Πολλαπλής Επιλογής (Μοναδική Απάντηση)	⬆️ ⚙️
5.	Για ποιο λόγο το κέντρο βάρους ενός κιβωτίου είναι σημαντικό στην ανατροπή του κατά το εγκάρσιο του πλοίου. Πολλαπλής Επιλογής (Μοναδική Απάντηση)	⬆️ ⚙️



Ερωτήσεις της άσκησης		
6.	Όταν πλοίο μεταβαίνει από SW σε FW μεγαλώνει το βάρος του εκτοπιζομένου ύδατος, μικραίνει ή παραμένει ως έχει. Πολλαπλής Επιλογής (Μοναδική Απάντηση)	 
7.	Η πρόσθετη επιβύθιση που παρέχουν οι γραμμές φορτώσεως ξυλείας από τι δικαιολογείται. Πολλαπλής Επιλογής (Μοναδική Απάντηση)	 
8.	Σε παλαιότερα πλοία μεταφοράς γενικού φορτίου η ύπαρξη της βαθιάς δεξαμενής τι εξασφάλιζε στο πλοίο. Πολλαπλής Επιλογής (Μοναδική Απάντηση)	 
9.	Ο μοχλοβραχίονας σταθερότητας b σε ποιο μέγεθος αναφέρεται. Πολλαπλής Επιλογής (Μοναδική Απάντηση)	 
10.	Το Fresh Water Allowance σε τι αναφέρεται. Πολλαπλής Επιλογής (Μοναδική Απάντηση)	 
11.	Για ποιούς λόγους ενδέχεται να χρησιμοποιηθούν μέσα ασφαλίσεως φορτίου σε πλοίο μεταφοράς σιτηρών. Πολλαπλής Επιλογής (Μοναδική Απάντηση)	 
12.	Η συμπεριφορά των σιτηρών κατά τη μεταφορά τους σε ποιους κανόνες υπόκεινται. Πολλαπλής Επιλογής (Μοναδική Απάντηση)	