


ΕΞΕΤΑΣΕΙΣ ΙΟΥΝΙΟΥ 2021

Ασκήσεις

Διαχείριση Άσκησης



➤ Ν ΤΕΧΝΗ ΦΑΝΟΙ & ΣΧΗΜΑΤΑ Α ΕΞΑΜΗΝΟΥ




























Ανακάτεμα όλων των ερωτήσεων
































Επιλογή τυχαίων ερωτήσεων από τις ερωτήσεις της άσκησης


ερωτήσεις

Υποβολή

Ερωτήσεις της άσκησης		⚙️
1.	Να αναγνωρίσετε και να επιλέξετε την κατηγορία του πλοίου σύμφωνα με την εικόνα που βλέπετε παρακάτω : Πολλαπλής Επιλογής (Μοναδική Απάντηση)	⬆️ ⚙️
2.	Να αναγνωρίσετε και να επιλέξετε την κατηγορία του πλοίου σύμφωνα με την εικόνα που βλέπετε παρακάτω : Πολλαπλής Επιλογής (Μοναδική Απάντηση)	⬆️ ⚙️
3.	Να αναγνωρίσετε και να επιλέξετε την κατηγορία του πλοίου σύμφωνα με την εικόνα που βλέπετε παρακάτω : Πολλαπλής Επιλογής (Μοναδική Απάντηση)	⬆️ ⚙️
4.	Τι φανούς πρέπει να επιδεικνύει την νύχτα πλοίο μήκους > 50 εμποδιζόμενο από το βύθισμά του, άποψη αριστερής πλευράς Πολλαπλής Επιλογής (Μοναδική Απάντηση)	⬆️ ⚙️

Ερωτήσεις της άσκησης		
5.	Οι πλοηγίδες εν πλω τη νύχτα οφείλουν να επιδεικνύουν κόκκινο φανό (επάνω) και λευκό φανό (κάτω) περιβλεπτούς κατακόρυφα Σωστό / Λάθος	 
6.	Να αναγνωρίσετε και να επιλέξετε την κατηγορία του πλοίου σύμφωνα με την εικόνα που βλέπετε παρακάτω : Πολλαπλής Επιλογής (Μοναδική Απάντηση)	 
7.	Ρυμουλκά μηχανοκίνητα τα οποία ωθούν και θεωρούνται ενιαία μονάδα θα πρέπει να επιδεικνύουν: Πολλαπλής Επιλογής (Μοναδική Απάντηση)	 
8.	Ο εφίστιος φανός είναι ένα λευκό φανάρι εγκατεστημένο πάνω στο κεντρικό διαμήκη άξονα του πλοίου και φωτίζει χωρίς διακοπή τόξο : Πολλαπλής Επιλογής (Μοναδική Απάντηση)	 
9.	Πλοίο ασχολούμενο με υποβρύχιες δραστηριότητες και περιορίζεται στον χειρισμό του θα επιδεικνύει την ημέρα τα παρακάτω σήματα: Πολλαπλής Επιλογής (Μοναδική Απάντηση)	 
10.	Το πλοίο σας είναι ρυμουλκό εν πλώ την νύχτα χωρίς να εκτελεί ρυμούλκηση, ποία είναι τα φώτα που θα πρέπει να επιδουκνούνται ώστε να τα βλέπουν τα άλλα πλοία τα οποία σας προσεγγίζουν απο την πρύμη ; Πολλαπλής Επιλογής (Μοναδική Απάντηση)	 
11.	Ενα μηχανοκίνητο πλοίο ακυβέρνητο τη νύχτα πρέπει να επιδεικνύει σε κατακόρυφη γραμμή δύο (2) Κόκκινους Σωστό / Λάθος	 
12.	Το σήμα ημέρας ενός πλοίου εμποδιζόμενο από το βύθισμα του θα είναι ένας ρώμβος. Σωστό / Λάθος	 
13.	Τι είναι το αλυσέλικτρο : Πολλαπλής Επιλογής (Μοναδική Απάντηση)	 
14.	Τι ορίζεται σαν μήκος ρυμουλκίου ; Πολλαπλής Επιλογής (Μοναδική Απάντηση)	 
15.	Σύμφωνα με την παραπάνω εικόνα που βλέπετε αυτός είναι ο σωστός τρόπος μετρήσεως της διαμέτρου ενός σκοινιού ; Σωστό / Λάθος	 
16.	Ένα πλοίο κινούμενο με ιστία κάθε φορά που χρησιμοποιεί και μηχανή σαν σήμα ημέρας θα πρέπει να επιδεικνύει ένα κωνικό σχήμα με την κορυφή προς τα κάτω. Σωστό / Λάθος	 

Ερωτήσεις της άσκησης		
17.	Το σήμα ημέρας πλοίου που ρυμουλκεί με μήκος ρυμουλκίου μεγαλύτερο από 200 mtrs είναι: Πολλαπλής Επιλογής (Μοναδική Απάντηση)	 
18.	Στην παραπάνω φωτογραφία που βλέπετε σε ποιά νούμερα βρίσκεται η <<άτρακτος>> και το <<κινητό μέρος της άγκυρας>> ; Πολλαπλής Επιλογής (Μοναδική Απάντηση)	 
19.	Μάσκα ή παρειά του πλοίου ονομάζουμε Πολλαπλής Επιλογής (Μοναδική Απάντηση)	 
20.	Τι ονομάζουμε διαγωγή Πολλαπλής Επιλογής (Μοναδική Απάντηση)	 
21.	Τι ονομάζουμε ύφαλα Πολλαπλής Επιλογής (Μοναδική Απάντηση)	 
22.	Τι ονομάζουμε σιμότητα Πολλαπλής Επιλογής (Μοναδική Απάντηση)	 
23.	Τι ονομάζουμε δεξαμενή πλοίου Πολλαπλής Επιλογής (Μοναδική Απάντηση)	 
24.	Τι ονομάζουμε δέστρα ή μπιντα Πολλαπλής Επιλογής (Μοναδική Απάντηση)	 
25.	Πια από τα παρακάτω αποτελούν εξοπλισμό αγκυροβολίας Πολλαπλής Επιλογής (Μοναδική Απάντηση)	 
26.	Ποιο από τα παρακάτω ισχύει εν ώρα εργασίας στο κατάστρωμα Πολλαπλής Επιλογής (Μοναδική Απάντηση)	 
27.	Ποιο από τα παρακάτω είναι λάθος Πολλαπλής Επιλογής (Μοναδική Απάντηση)	 
28.	Ασφαλές φορτίο εργασίας είναι Πολλαπλής Επιλογής (Μοναδική Απάντηση)	 
29.	Η αλυσίδα της άγκυρας χωρίζεται σε τμήματα που έχουν μήκος 27,5μ. Τα τμήματα αυτά ονομάζονται άμματα (κλειδιά). Σωστό / Λάθος	 
30.	Οι περίβλεπτοι(360 °) φανοί για πλοία μήκους > 50m έχουν ορατότητα: Πολλαπλής Επιλογής (Μοναδική Απάντηση)	 
31.	Φανοί ρυμουλκού < 50μ που πραγματοποιεί ρυμούλκηση κατά παραγωγή επιδεικνύει: Πολλαπλής Επιλογής (Μοναδική Απάντηση)	 

Ερωτήσεις της άσκησης		
32.	Όταν προτίθεται να προσπεράσω πλοίο από την αριστερή του πλευρά τότε το ηχητικό σήμα είναι Πολλαπλής Επιλογής (Μοναδική Απάντηση)	