

## - Ορισμός (ΠΑΡΑΓΩΓΟΣ ΣΥΝΑΡΤΗΣΗΣ)

Έστω ότι έχουμε τη συνάρτηση  $y=f(x)$ , ορισμένη σε ένα διάστημα  $A(a,b) \subseteq \mathbb{R}$  και  $x_0 \in A$ . Το όριο:

$$\lim_{x \rightarrow x_0} \frac{f(x) - f(x_0)}{x - x_0}$$

(αν υπάρχει) λέγεται παράγωγος της  $f(x)=y$  στο σημείο  $x_0$ , η δε συνάρτηση λέμε ότι παραγωγίζεται στο σημείο  $x=x_0$ . Η παράγωγος μιας συνάρτησης στο σημείο  $x_0 \in A$  συμβολίζεται με πολλούς τρόπους, όπως:

$$f'(x_0), y'_{x=x_0}, Df(x_0), \left[ \frac{df(x)}{dx} \right]_{x=x_0}, \left[ \frac{dy}{dx} \right]_{x=x_0}$$

Αν η  $y=f(x)$  έχει παράγωγο, σε  $\forall x \in A$ , τότε λέγεται παραγωγίσιμη στο διάστημα  $A$  και οι παραπάνω συμβολισμοί γίνονται αντίστοιχα:

$$f'(x), y', Df(x), \frac{df(x)}{dx}, \frac{dy}{dx}$$

Είναι φανερό από τον ορισμό, ότι η παράγωγος μιας συνάρτησης σε ένα διάστημα είναι γενικά μια νέα συνάρτηση ενώ η παράγωγος σε ένα σημείο, αριθμός.

## - ΠΛΕΥΡΙΚΕΣ ΠΑΡΑΓΩΓΟΙ -

Έστω η συνάρτηση  $y=f(x)$ , ορισμένη στο διάστημα  $A \subseteq \mathbb{R}$  και  $x_0 \in A$ . Τα όρια:

$$\lim_{x \rightarrow x_0^-} \frac{f(x) - f(x_0)}{x - x_0} \quad \text{και} \quad \lim_{x \rightarrow x_0^+} \frac{f(x) - f(x_0)}{x - x_0}$$

ονομάζονται πλευρικές παράγωγοι ή παράγωγος αριστερά και παράγωγος δεξιά στο σημείο  $x_0 \in A$ .

Συμβολίζονται αντίστοιχα:  $f'_{(-)}(x_0)$  και  $f'_{(+)}(x_0)$ .

B (1)

Αποδεικνύεται ότι αν υπάρχουν οι πλευρικές παράγωγοι σε ένα σημείο του Π.Ο. της  $y=f(x)$  και είναι ίσες μεταξύ τους, δηλαδή  $f'_{(-)}(x_0) = f'_{(+)}(x_0)$ , τότε η συνάρτηση παραγωγίζεται σ' αυτό το σημείο και ισχύει:

$$f'_{(-)}(x_0) = f'_{(+)}(x_0) = f'(x_0)$$

Ενώ, αν οι πλευρικές παράγωγοι είναι άνισες, τότε η συνάρτηση δεν έχει παράγωγο στο σημείο αυτό.

### - Παραδείγματα -

① Θεωρούμε την συνάρτηση  $f(x) = \alpha x + \beta / \mathbb{R}$ ,  $\alpha, \beta \in \mathbb{R}$   
Έστω  $x_0 \in \mathbb{R}$  Τότε:

$$\lim_{x \rightarrow x_0} \frac{f(x) - f(x_0)}{x - x_0} = \lim_{x \rightarrow x_0} \frac{(\alpha x + \beta) - (\alpha x_0 + \beta)}{x - x_0} = \lim_{x \rightarrow x_0} \frac{\alpha(x - x_0)}{x - x_0} = \lim_{x \rightarrow x_0} \alpha = \alpha \in \mathbb{R}$$

Άρα υπάρχει η  $f'(x_0) = \alpha$ ,  $\forall x_0 \in \mathbb{R}$

② Θεωρούμε την συνάρτηση  $f(x) = \sqrt{x} / \mathbb{R}^+$ . Εξετάζουμε την ύπαρξη παραγώγου στη θέση  $x=0$

$$\lim_{x \rightarrow 0} \frac{f(x) - f(x_0)}{x - x_0} = \lim_{x \rightarrow 0} \frac{\sqrt{x} - \sqrt{0}}{x - 0} = \lim_{x \rightarrow 0} \frac{1}{\sqrt{x}} = \infty \notin \mathbb{R}$$

Άρα δεν υπάρχει η  $f'(0)$

③ Θεωρούμε την συνάρτηση  $f(x) = |x|$ ,  $x \in \mathbb{R}$ . Εξετάζουμε την ύπαρξη παραγώγου στη θέση  $x=0$

$$\lim_{x \rightarrow 0^-} \frac{f(x) - f(0)}{x - 0} = \lim_{x \rightarrow 0^-} \frac{|x| - |0|}{x - 0} = \lim_{x \rightarrow 0^-} \frac{|x|}{x} = \lim_{x \rightarrow 0^-} \frac{-x}{x} = \lim_{x \rightarrow 0^-} (-1) = -1$$

$$\text{και} \quad \lim_{x \rightarrow 0^+} \frac{f(x) - f(0)}{x - 0} = \lim_{x \rightarrow 0^+} \frac{|x| - |0|}{x - 0} = \lim_{x \rightarrow 0^+} \frac{|x|}{x} = \lim_{x \rightarrow 0^+} \frac{x}{x} = \lim_{x \rightarrow 0^+} (+1) = +1$$

Παρατηρούμε ότι η  $f(x) = |x|$ ,  $x \in \mathbb{R}$  είναι παραγωγίσιμος αριστερά και δεξιά του 0. Όμως  $\lim_{x \rightarrow 0^-} \frac{f(x) - f(x_0)}{x - x_0} \neq \lim_{x \rightarrow 0^+} \frac{f(x) - f(x_0)}{x - x_0}$  οπότε δεν

είναι παραγωγίσιμος στο 0

B (2)

- Παράδειγματα και εφαρμογές -

① Έστω  $f/[a,b]$  με  $f(x)=c$ . Τότε  $\frac{df}{dx}=0 \quad \forall x \in [a,b]$

Έστω  $x_0$  τυχαίο σημείο του  $[a,b]$ . Τότε:

$$\lim_{x \rightarrow x_0} \frac{f(x) - f(x_0)}{x - x_0} = \lim_{x \rightarrow x_0} \frac{c - c}{x - x_0} = \lim_{x \rightarrow x_0} 0 = 0$$

$$f(x_0) = 0 \quad \forall x_0 \in [a,b]$$

Άρα  $\frac{dc}{dx} = 0$ ,  $c$  σταθερά

② Έστω  $f/\mathbb{R}$  με  $f(x)=x^v$ ,  $\forall x \in \mathbb{R}$ . Τότε  $\frac{df}{dx} = v \cdot x^{v-1} \quad \forall x \in \mathbb{R}$

Έστω  $x_0 \in \mathbb{R}$ . Τότε:

$$\lim_{x \rightarrow x_0} \frac{f(x) - f(x_0)}{x - x_0} = \lim_{x \rightarrow x_0} \frac{x^v - x_0^v}{x - x_0} = \lim_{x \rightarrow x_0} \frac{(x - x_0)(x^{v-1} + x^{v-2} \cdot x_0 + \dots + x \cdot x_0^{v-2} + x_0^{v-1})}{x - x_0} =$$

$$= \lim_{x \rightarrow x_0} (x^{v-1} + x^{v-2} \cdot x_0 + \dots + x \cdot x_0^{v-2} + x_0^{v-1}) = v \cdot x_0^{v-1}$$

Άρα  $\frac{d(x^v)}{dx} = v \cdot x^{v-1} \quad x \in \mathbb{R}, v \in \mathbb{N}$

③ Έστω  $f/\mathbb{R}^+$  με  $f(x)=\sqrt{x}$ . Τότε  $\frac{df}{dx} = \frac{1}{2\sqrt{x}}$ ,  $x \in \mathbb{R}^+$

Έστω  $x_0 \in \mathbb{R}^+$  Τότε:

$$\lim_{x \rightarrow x_0} \frac{f(x) - f(x_0)}{x - x_0} = \lim_{x \rightarrow x_0} \frac{\sqrt{x} - \sqrt{x_0}}{x - x_0} = \lim_{x \rightarrow x_0} \frac{\sqrt{x} - \sqrt{x_0}}{\sqrt{x}^2 - \sqrt{x_0}^2} = \lim_{x \rightarrow x_0} \frac{\sqrt{x} - \sqrt{x_0}}{(\sqrt{x} - \sqrt{x_0}) \cdot (\sqrt{x} + \sqrt{x_0})} =$$

$$= \lim_{x \rightarrow x_0} \frac{1}{\sqrt{x} + \sqrt{x_0}} = \frac{1}{2\sqrt{x_0}}$$

Άρα  $\frac{d\sqrt{x}}{dx} = \frac{1}{2\sqrt{x}}$

③β

ΠΙΝΑΚΑΣ ΤΩΝ ΠΑΡΑΓΩΓΩΝ ΤΩΝ ΣΤΟΙΧΕΙΑΩΩΩΝ ΣΥΝΑΡΤΗΣΕΩΩΩ

ΣΥΝΑΡΤΗΣΗ	ΠΑΡΑΓΩΓΟΣ
① $f(x) = c$	① $\frac{df}{dx} = 0 \quad \forall x \in \mathbb{R}$
② $f(x) = x^\alpha \quad (\alpha \in \mathbb{R})$	② $\frac{df}{dx} = \alpha x^{\alpha-1} \quad \forall x \in \mathbb{R}$
③ $f(x) = \sqrt{x}$	③ $\frac{df}{dx} = \frac{1}{2\sqrt{x}} \quad \forall x \in \mathbb{R}_+^*$
④ $f(x) = e^x$	④ $\frac{df}{dx} = e^x \quad \forall x \in \mathbb{R}$
⑤ $f(x) = \eta \mu x$	⑤ $\frac{df}{dx} = \sigma \omega x \quad \forall x \in \mathbb{R}$
⑥ $f(x) = \sigma \omega x$	⑥ $\frac{df}{dx} = -\eta \mu x \quad \forall x \in \mathbb{R}$
⑦ $f(x) = \epsilon \varphi x$	⑦ $\frac{df}{dx} = \frac{1}{\sigma \omega^2 x} \quad \forall x \in \mathbb{R} - \{x \in \mathbb{R} : x = k\pi + \frac{\pi}{2}, k \in \mathbb{Z}\}$
⑧ $f(x) = \sigma \varphi x$	⑧ $\frac{df}{dx} = -\frac{1}{\eta \mu^2 x} \quad \forall x \in \mathbb{R} - \{x \in \mathbb{R} : x = k\pi, k \in \mathbb{Z}\}$
⑨ $f(x) = T_0 \int_0^x \eta \mu x$	⑨ $\frac{df}{dx} = \frac{1}{\sqrt{1-x^2}} \quad -1 < x < 1$
⑩ $f(x) = T_0 \int_0^x \sigma \omega x$	⑩ $\frac{df}{dx} = \frac{1}{\sqrt{1-x^2}} \quad -1 < x < 1$
⑪ $f(x) = T_0 \int_0^x \epsilon \varphi x$	⑪ $\frac{df}{dx} = \frac{1}{1+x^2} \quad \forall x \in \mathbb{R}$
⑫ $f(x) = T_0 \int_0^x \sigma \varphi x$	⑫ $\frac{df}{dx} = -\frac{1}{1+x^2} \quad \forall x \in \mathbb{R}$
⑬ $f(x) = \log_\alpha x$	⑬ $\frac{df}{dx} = \frac{1}{x \log \alpha} \quad \forall x \in \mathbb{R}_+^* \quad \alpha > 0 \wedge \alpha \neq 1$
⑭ $f(x) = \ln x$	⑭ $\frac{df}{dx} = \frac{1}{x} \quad \forall x \in \mathbb{R}_+^*$
⑮ $f(x) = a^x$	⑮ $\frac{df}{dx} = a^x \cdot \ln a \quad \text{οπου } a > 0$

- ΙΔΙΟΤΗΤΕΣ ΠΑΡΑΓΩΓΙΣΗΣ -

$$\textcircled{1} (f \pm g)' = f' \pm g'$$

$$\textcircled{2} (\lambda \cdot f)' = \lambda f' \text{ (όπου } \lambda \in \mathbb{R})$$

$$\textcircled{3} (f \cdot g)' = f'g + g'f$$

$$\textcircled{4} \left(\frac{f}{g}\right)' = \frac{f'g - g'f}{g^2}$$

$$\textcircled{5} (f \circ g)' = (f' \circ g) \cdot g' \longrightarrow \text{σύνθετη συνάρτηση}$$

$$\textcircled{6} [f^v]' = v f^{v-1} \cdot f'$$

$$\textcircled{7} (e^{f(x)})' = f'(x) \cdot e^{f(x)}$$

- Παραγωγάστε καθεμιά από τις ακόλουθες συναρτήσεις -

$$\textcircled{1} y = -4 + 2x - 3x^2 - 5x^3 - 8x^4 + 9x^5$$
$$-\frac{dy}{dx} = 0 + 2(1) - 3(2x) - 5(3x^2) - 8(4x^3) + 9(5x^4) = 2 - 6x - 15x^2 - 32x^3 + 45x^4$$

$$\textcircled{2} y = \frac{1}{x} + \frac{3}{x^2} + \frac{2}{x^3} = x^{-1} + 3x^{-2} + 2x^{-3}$$

$$-\frac{dy}{dx} = -x^{-2} + 3(-2x^{-3}) + 2(-3x^{-4}) = -x^{-2} - 6x^{-3} - 6x^{-4} = -\frac{1}{x^2} - \frac{6}{x^3} - \frac{6}{x^4}$$

$$\textcircled{3} y = 2x^{1/2} + 6x^{1/3} - 2x^{3/2}$$

$$-\frac{dy}{dx} = 2\left(\frac{1}{2}x^{-1/2}\right) + 6\left(\frac{1}{3}x^{-2/3}\right) - 2\left(\frac{3}{2}x^{1/2}\right) = x^{-1/2} + 2x^{-2/3} - 3x^{1/2} = \frac{1}{x^{1/2}} + \frac{2}{x^{2/3}} - \frac{3}{x^{1/2}}$$

B (5)

$$\begin{aligned} \textcircled{4} \quad y &= \frac{2}{x^{1/2}} + \frac{6}{x^{1/3}} - \frac{2}{x^{3/2}} - \frac{4}{x^{3/4}} = 2x^{-1/2} + 6x^{-1/3} - 2x^{-3/2} - 4x^{-3/4} \\ -\frac{dy}{dx} &= 2\left(-\frac{1}{2}x^{-3/2}\right) + 6\left(-\frac{1}{3}x^{-4/3}\right) - 2\left(-\frac{3}{2}x^{-5/2}\right) - 4\left(-\frac{3}{4}x^{-7/4}\right) = \\ &= -x^{-3/2} - 2x^{-4/3} + 3x^{-5/2} + 3x^{-7/4} = -\frac{1}{x^{3/2}} - \frac{2}{x^{4/3}} + \frac{3}{x^{5/2}} + \frac{3}{x^{7/4}} \end{aligned}$$

$$\begin{aligned} \textcircled{5} \quad y &= \sqrt[3]{3x^2} - \frac{1}{\sqrt{5x}} = (3x^2)^{1/3} - (5x)^{-1/2} \\ -\frac{dy}{dx} &= \frac{1}{3}(3x^2)^{-2/3} \cdot 6x - \left(-\frac{1}{2}\right)(5x)^{-3/2} \cdot 5 = \frac{2x}{(4x^4)^{1/3}} + \frac{5}{2(5x)(5x)^{1/2}} = \frac{2}{\sqrt[3]{4x}} + \frac{1}{2x\sqrt{5x}} \end{aligned}$$

$$\begin{aligned} \textcircled{6} \quad s &= (t^2-3)^4 \\ -\frac{ds}{dt} &= 4(t^2-3)^3 \cdot (2t) = 8t(t^2-3)^3 \end{aligned}$$

$$\textcircled{7} \quad z = \frac{3}{(x^2-y^2)^2} = 3(x^2-y^2)^{-2}$$

$$-\frac{dz}{dx} = 3(-2)(x^2-y^2)^{-3} \cdot \frac{d}{dy}(x^2-y^2) = 3(-2)(x^2-y^2)^{-3}(-2y) = \frac{12y}{(x^2-y^2)^3}$$

$$\textcircled{8} \quad f(x) = \sqrt{x^2+6x+3} = (x^2+6x+3)^{1/2}$$

$$f'(x) = \frac{1}{2}(x^2+6x+3)^{-1/2} \cdot \frac{d}{dx}(x^2+6x+3) = \frac{1}{2}(x^2+6x+3)^{-1/2} \cdot (2x+6) = \frac{x+3}{\sqrt{x^2+6x+3}}$$

$$\textcircled{9} \quad y = (x^2+4)^2(2x^3-1)^3$$

$$y' = (x^2+4)^2 \frac{d}{dx}(2x^3-1)^3 + (2x^3-1)^3 \frac{d}{dx}(x^2+4)^2 =$$

$$= (x^2+4)^2 \cdot 3(2x^3-1)^2 \frac{d}{dx}(2x^3-1) + (2x^3-1)^3 \cdot 2(x^2+4) \cdot \frac{d}{dx}(x^2+4) =$$

$$= (x^2+4)^2 \cdot 3(2x^3-1)^2 \cdot 6x^2 + (2x^3-1)^3 \cdot 2(x^2+4) \cdot 2x = 2x(x^2+4)(2x^3-1)^2(13x^3+36x-2)$$

B (6)

$$\textcircled{10} \quad y = \frac{3-2x}{3+2x}$$

$$y' = \frac{(3+2x) \cdot \frac{d}{dx}(3-2x) - (3-2x) \cdot \frac{d}{dx}(3+2x)}{(3+2x)^2} = \frac{(3+2x)(-2) - (3-2x)(2)}{(3+2x)^2} = \frac{-12}{(3+2x)^2}$$

- ΠΑΡΑΓΩΓΗ ΑΛΓΕΒΡΙΚΩΝ ΣΥΝΑΡΤΗΣΕΩΝ -

$$\textcircled{1} \quad y = \frac{3r+2}{2r+3} \quad \left[ \text{An: } \frac{dy}{dr} = \frac{5}{(2r+3)^2} \right]$$

$$\textcircled{2} \quad y = \left( \frac{x}{1+x} \right)^5 \quad \left[ \text{An: } y' = \frac{5x^4}{(1+x)^6} \right]$$

$$\textcircled{3} \quad y = 2x^2 \sqrt{2-x} \quad \left[ \text{An: } y' = \frac{x(8-5x)}{\sqrt{2-x}} \right]$$

$$\textcircled{4} \quad f(x) = x \sqrt{3-2x^2} \quad \left[ \text{An: } f'(x) = \frac{3-4x^2}{\sqrt{3-2x^2}} \right]$$

$$\textcircled{5} \quad y = (x-1) \sqrt{x^2-2x+2} \quad \left[ \text{An: } y' = \frac{2x^2-4x+3}{\sqrt{x^2-2x+2}} \right]$$

$$\textcircled{6} \quad z = \frac{w}{\sqrt{1-4w^2}} \quad \left[ \text{An: } z' = \frac{1}{(1-4w^2)^{3/2}} \right]$$

$$\textcircled{7} \quad y = \sqrt{1+\sqrt{x}} \quad \left[ \text{An: } y' = \frac{1}{4\sqrt{x+x\sqrt{x}}} \right]$$

$$\textcircled{8} \quad f(x) = \sqrt{\frac{x-1}{x+1}} \quad \left[ \text{An: } f'(x) = \frac{1}{(x+1)\sqrt{x^2-1}} \right]$$

$$\textcircled{9} \quad y = (x^2+3)^4 (2x^3-5)^3 \quad \left[ \text{An: } y' = 2x(x^2+3)^3 (2x^3-5)^2 (17x^3+27x-20) \right]$$

$$\textcircled{10} \quad s = \frac{t^2+2}{3-t^2} \quad \left[ \text{An: } s' = \frac{10t}{(3-t^2)^2} \right]$$

B(7)

$$(11) \quad y = \left( \frac{x^3-1}{2x^2+1} \right)^4 \quad \left[ \text{An: } y' = \frac{36x^2(x^3-1)^3}{(2x^2+1)^5} \right]$$

$$(12) \quad y = x^5 + 5x^4 - 10x^2 + 6 \quad \left[ \text{An: } y' = 5x(x^3 + 4x^2 - 4) \right]$$

$$(13) \quad y = 3x^{1/2} - x^{3/2} + 2x^{-1/2} \quad \left[ \text{An: } y' = \frac{3}{2\sqrt{x}} - \frac{3}{2}\sqrt{x} - \frac{1}{x^{3/2}} \right]$$

$$(14) \quad y = \frac{1}{2x^2} + \frac{4}{\sqrt{x}} = \frac{1}{2}x^{-2} + 4x^{-1/2} \quad \left[ \text{An: } y' = -\frac{1}{x^3} - \frac{2}{x^{3/2}} \right]$$

$$(15) \quad y = \sqrt{2x} + 2\sqrt{x} \quad \left[ \text{An: } y' = \frac{1+\sqrt{2}}{\sqrt{2x}} \right]$$

$$(16) \quad f(t) = \frac{2}{\sqrt{t}} + \frac{6}{\sqrt[3]{t}} \quad \left[ \text{An: } f'(t) = -\frac{t^{1/2} + 2t^{2/3}}{t^2} \right]$$

$$(17) \quad y = (1-5x)^6 \quad \left[ \text{An: } y' = -30(1-5x)^5 \right]$$

$$(18) \quad f(x) = (3x - x^3 + 1)^4 \quad \left[ \text{An: } f'(x) = 12(1-x^2)(3x - x^3 + 1)^3 \right]$$

$$(19) \quad y = (3 + 4x - x^2)^{1/2} \quad \left[ \text{An: } y' = \frac{2-x}{y} \right]$$

- ΠΑΡΑΓΩΓΗ ΕΚΘΕΤΙΚΩΝ ΚΑΙ ΛΟΓΑΡΙΘΜΙΚΩΝ ΣΥΝΑΡΤΗΣΕΩΝ -

$$(1) \quad y = \ln(x^3+2)(x^2+3) = \ln(x^3+2) + \ln(x^2+3)$$

$$y' = \frac{1}{x^3+2} \cdot \frac{d}{dx}(x^3+2) + \frac{1}{x^2+3} \cdot \frac{d}{dx}(x^2+3) = \frac{3x^2}{x^3+2} + \frac{2x}{x^2+3}$$

$$(2) \quad f(x) = \ln \frac{x^4}{(3x-4)^2} = \ln x^4 - \ln(3x-4)^2 = 4\ln x - 2\ln(3x-4)$$

$$f'(x) = 4 \frac{1}{x} \frac{d}{dx}(x) - 2 \frac{1}{3x-4} \frac{d}{dx}(3x-4) = \frac{4}{x} - \frac{6}{3x-4}$$

B (8)



$$\textcircled{3} \quad y = \ln \sin 3x$$

$$y' = \frac{1}{\sin 3x} \cdot \frac{d}{dx} (\sin 3x) = \frac{3 \cos 3x}{\sin 3x} = 3 \cot 3x$$

$$\textcircled{4} \quad y = \ln(x + \sqrt{1+x^2})$$

$$y' = \frac{1 + \frac{1}{2}(1+x^2)^{-1/2}(2x)}{x + (1+x^2)^{1/2}} = \frac{1+x(1+x^2)^{-1/2}}{x + (1+x^2)^{1/2}} \cdot \frac{(1+x^2)^{1/2}}{(1+x^2)^{1/2}} = \frac{1}{\sqrt{1+x^2}}$$

$$\textcircled{5} \quad y = e^{-1/2 x}$$

$$y' = e^{-1/2 x} \frac{d}{dx} (-1/2 x) = -\frac{1}{2} e^{-1/2 x}$$

$$\textcircled{6} \quad y = e^{x^2}$$

$$y' = e^{x^2} \frac{d}{dx} (x^2) = 2x e^{x^2}$$

$$\textcircled{7} \quad y = x^2 \cdot 3^x$$

$$y' = x^2 \frac{d}{dx} (3^x) + 3^x \frac{d}{dx} (x^2) = x^2 \cdot 3^x \ln 3 + 3^x \cdot 2x = x \cdot 3^x (x \ln 3 + 2)$$

$$\textcircled{8} \quad \text{Βρείτε την } y', \text{ όταν } y = e^{-x} \ln x$$

$$y' = e^{-x} \frac{d}{dx} (\ln x) + \ln x \frac{d}{dx} (e^{-x}) = \frac{e^{-x}}{x} - e^{-x} \ln x = \frac{e^{-x}}{x} - y$$

$$y'' = \frac{x \cdot \frac{d}{dx} (e^{-x}) - e^{-x} \frac{d}{dx} (x)}{x^2} - y' = \frac{-x e^{-x} - e^{-x}}{x^2} - \frac{e^{-x}}{x} + e^{-x} \ln x = -e^{-x} \left( \frac{2}{x} + \frac{1}{x^2} - \ln x \right)$$

- ΠΑΡΑΓΩΓΙΣΗ ΤΡΙΓΩΝΟΜΕΤΡΙΚΩΝ ΣΥΝΑΡΤΗΣΕΩΝ -

$$\textcircled{1} \quad y = \sin x - x \cos x + x^2 + 4x + 3 \quad (\text{ΑΠ: } x \sin x + 2x + 4)$$

$$\textcircled{2} \quad p = \sqrt{\sin \theta} \quad (\text{ΑΠ: } (\cos \theta) / (2 \sqrt{\sin \theta}))$$

$$\textcircled{3} \quad y = \sin 2/x \quad (\text{ΑΠ: } (-2 \cos 2/x) / x^2)$$

$$\textcircled{4} \quad y = \cos(1-x^2) \quad (\text{ΑΠ: } 2x \sin(1-x^2))$$

B(9)

$$\textcircled{5} y = \cos(1-x)^2 \quad (\text{ΑΠ: } 2(1-x)\sin(1-x)^2)$$

$$\textcircled{6} y = \sin^2(3x-2) \quad (\text{ΑΠ: } 3\sin(6x-4))$$

$$\textcircled{7} y = \sin^3(2x-3) \quad (\text{ΑΠ: } -\frac{3}{2} \{ \cos(6x-9) - \cos(2x-3) \})$$

$$\textcircled{8} y = \frac{1}{2} \tan x \sin 2x \quad (\text{ΑΠ: } \sin 2x)$$

ΟΤΟΥ:  $\sin \cdot x = \eta\mu x$   
 $\cos \cdot x = \sigma\upsilon\nu x$   
 $\tan \cdot x = \epsilon\phi x$

- ΔΙΑΦΟΡΙΚΑ -

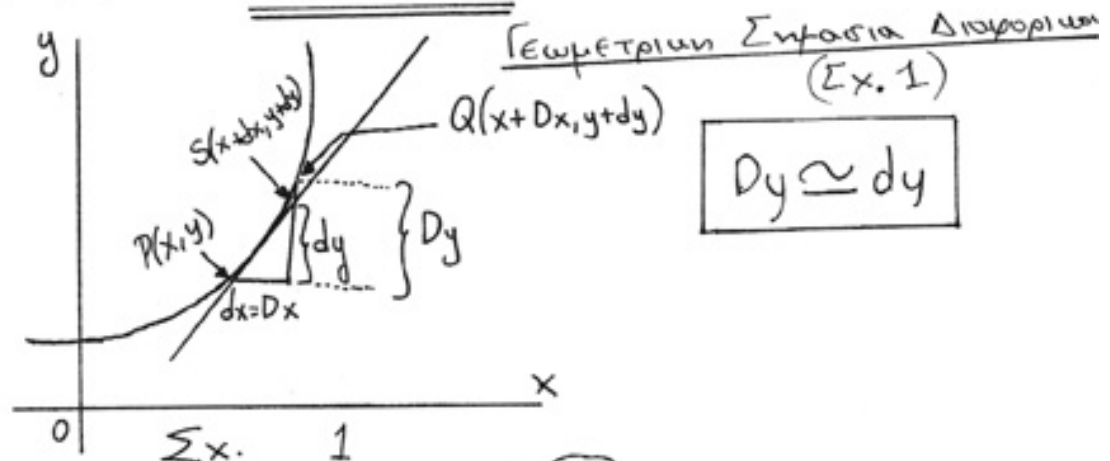
ΔΙΑΦΟΡΙΚΑ.

Για την συνάρτηση  $y=f(x)$  ορίζεται: (α) ως διαφορικό του  $x$  το  $dx$  με  
 τη σχέση  $dx = Dx$

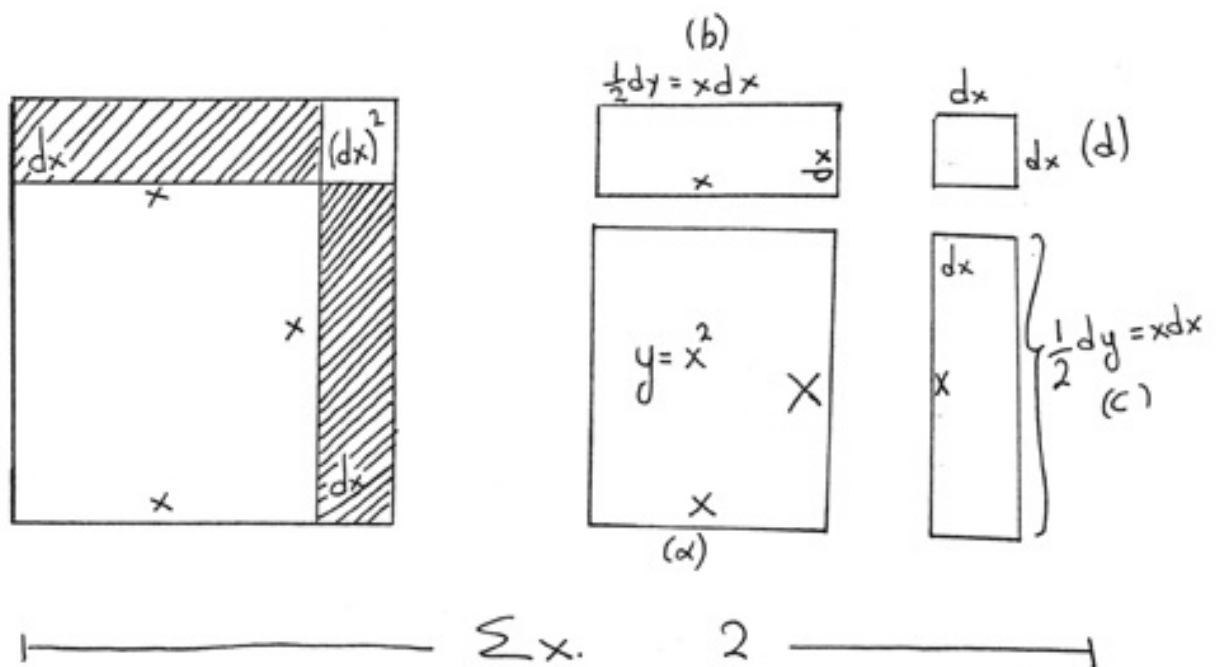
(β) ως διαφορικό του  $y$  το  $dy$  με  
 τη σχέση  $dy = f'(x)dx$

Το διαφορικό της ανεξάρτητης μεταβλητής είναι από τον ορισμό του ίσο με τη μεταβολή της μεταβλητής. Το διαφορικό όμως της εξαρτημένης μεταβλητής δεν ισούται με τη μεταβολή της.

Παράδειγμα 1: Όταν  $y=x^2$ , έχουμε  $dy = 2x \cdot dx$  ενώ  $Dy = (x+Dx)^2 - x^2 = 2x \cdot Dx + (Dx)^2 = 2x \cdot dx + (dx)^2$ . Μια γεωμετρική ερμηνεία δίνεται στο  
 σχ. 2. Παρατηρούμε ότι τα  $Dy$  και  $dy$  διαφέρουν κατά ένα τετράγωνο εμβαδού  $(dx)^2$ .



$Dy \approx dy$



ΤΟ ΔΙΑΦΟΡΙΚΟ  $dy$  υπολογίζεται είτε χρησιμοποιώντας τον ορισμό  $dy = f'(x)dx$  ή με τις σχέσεις που προκύπτουν από τους κανόνες υπολογισμού παραγώγων. Μερικά διαφορικά είναι τα εξής:

$$d(c) = 0, d(cu) = cdu, d(cu) = udu + ud(c),$$

$$d\left(\frac{u}{v}\right) = \frac{vdu - udv}{v^2}, d(\sin u) = \cos u du, d(\ln u) = \frac{du}{u}, \text{ κτλ.}$$

Παράδειγμα 2: Βρείτε το  $dy$  για καθένα από τις επόμενες συναρτήσεις:

(a)  $y = x^3 + 4x^2 - 5x + 6$   
 $dy = d(x^3) + d(4x^2) - d(5x) + d(6) = (3x^2 + 8x - 5)dx$

(b)  $y = (2x^3 + 5)^{3/2}$   
 $dy = \frac{3}{2}(2x^3 + 5)^{1/2} \cdot d(2x^3 + 5) = \frac{3}{2}(2x^3 + 5)^{1/2} \cdot 6x^2 dx = 9x^2(2x^3 + 5)^{1/2} dx$

- ΠΡΟΣΕΓΓΙΣΕΙΣ ΜΕ ΔΙΑΦΟΡΙΚΑ -

Αν το  $dx = D_x$  είναι σχετικά μικρό συσχετισμένο με το  $x$ , τότε το  $dy$  αποτελεί μια αρκετά καλή προσέγγιση του  $D_y$ .

### Παράδειγμα 3.

Θεωρούμε τη συνάρτηση  $y = x^2 + x + 1$  και έστω ότι το  $x$  μεταβάλλεται από  $x = 2$  σε  $x = 2.01$ .

Η πραγματική μεταβολή του  $y$  είναι  $Dy = \underbrace{\{2.01^2 + 2.01 + 1\} - \{2^2 + 2 + 1\}}_{\text{ΠΥΣΗ}} =$   
 $= .0501.$

Η κατά προσέγγιση μεταβολή του  $y$ , που υπολογίζεται θέτοντας  $x = 2$  και  $dx = 0.1$ , είναι  $dy = f'(x)dx = (2x + 1)dx = \{2(2) + 1\} \cdot 0.1 = .05.$

### - ΑΣΚΗΣΕΙΣ -

④ Ένας κυκλικός δίσκος διατείνεται κάτω από την επίδραση βαρύτητας, έτσι ώστε η ακτίνα του να αυξηθεί από  $5\text{cm}$  σε  $5.06\text{cm}$ . Βρείτε κατά προσέγγιση την αύξηση της επιφάνειάς του.  
( $E = \pi r^2$ ) Απ:  $0.6\pi = 1.88\text{cm}^2$

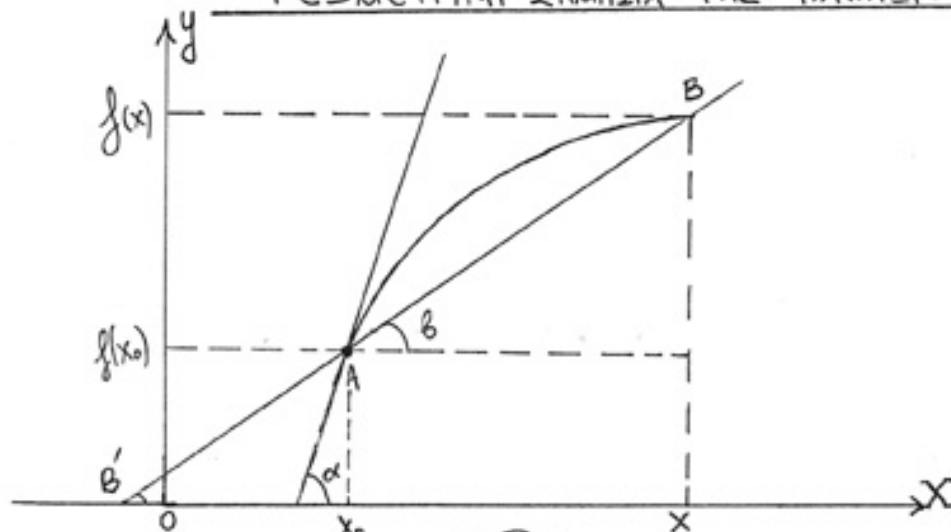
⑤ Μια σφαίρα από πάγο ακτίνας  $10\text{cm}$  μικραίνει, έτσι ώστε η ακτίνα της να γίνει  $9.8\text{cm}$ . Βρείτε κατά προσέγγιση την ελάττωση (α) του όγκου της και (β) του εμβαδού της επιφάνειάς της.  
( $V = \frac{4}{3}\pi r^3$  /  $E = 4\pi r^2$ ) Απ: (α)  $80\pi\text{cm}^3$   
(β)  $16\pi\text{cm}^2$

⑥ Βρείτε κατά προσέγγιση τη μεταβολή του όγκου ενός κύβου πλευράς  $x\text{cm}$  που προκύπτει από μεταβολή της πλευράς του κατά  $1\%$ .

### - ΠΥΣΗ -

$V = x^3$  και  $dV = 3x^2 dx$ . Για  $dx = 0.01x$  είναι  $dV = 3x^2(0.01x) = 0.03x^3$ .

### - ΓΕΩΜΕΤΡΙΚΗ ΣΗΜΑΣΙΑ ΤΗΣ ΠΑΡΑΓΩΓΟΥ -



B (12)

Έστω  $f$  συνάρτηση ορισμένη σ' ένα διάστημα  $[α, β]$ . Στο σχήμα δίνεται η γραφική παράσταση της  $f$ .  
 Έστω  $A(x_0, f(x_0))$ ,  $B(x, f(x))$  δύο σημεία της γραφικής παράστασης της  $f$ . Ο συντελεστής διεύθυνσης της  $AB$  είναι:

$$\epsilon_{φβ} = \frac{f(x) - f(x_0)}{x - x_0} = f'(x_0)$$

Τότε σύμφωνα με τα παραπάνω ισχύει:

$$f'(x_0) = \lim_{x \rightarrow x_0} \frac{f(x) - f(x_0)}{x - x_0} = \lim_{x \rightarrow x_0} \epsilon_{φβ} = \epsilon_{φα}$$

Δηλαδή:  $f'(x_0) = \epsilon_{φα}$

Έτσι αν η  $f$  παραγωγίζεται σε κάποιο σημείο  $x_0$ , τότε στο σημείο αυτό υπάρχει εφαπτιμένη της καμπύλης και ο συντελεστής διεύθυνσης της γεωμετρικής εφαπτιμένης ισούται με την παράγωγο της  $f$  στο σημείο αυτό.

ΠΑΡΑΔΕΙΓΜΑΤΑ:

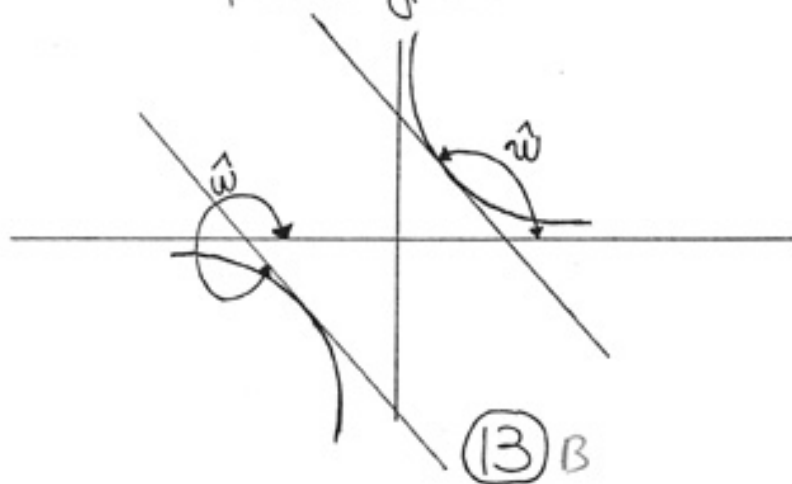
① Δίνεται η υπερβολή  $y = f(x) = \frac{α^2}{x}$  με  $x \neq 0$  και  $α \neq 0$

Να υπολογιστεί: η γωνία του άξονα των  $x$  με την εφαπτιμένη της υπερβολής στο σημείο  $M(α, α)$ .

Έχουμε  $y' = f'(x) = -\frac{α^2}{x^2}$  με  $x \neq 0$ .

Έστω  $\omega$  η ζητούμενη γωνία. Τότε:  $\epsilon_{φω} = f'(α) = -\frac{α^2}{α^2} = -1 \Rightarrow \omega = \text{το } \gamma_{\text{ο } \epsilon_{φ(-1)}}$

Σχήμα παράδειγματος:



② Να βρεθεί με ποια γωνία τέμνει τον άξονα των  $x$  η καμπύλη  $y = f(x) = \ln x \mid \mathbb{R}_+^*$

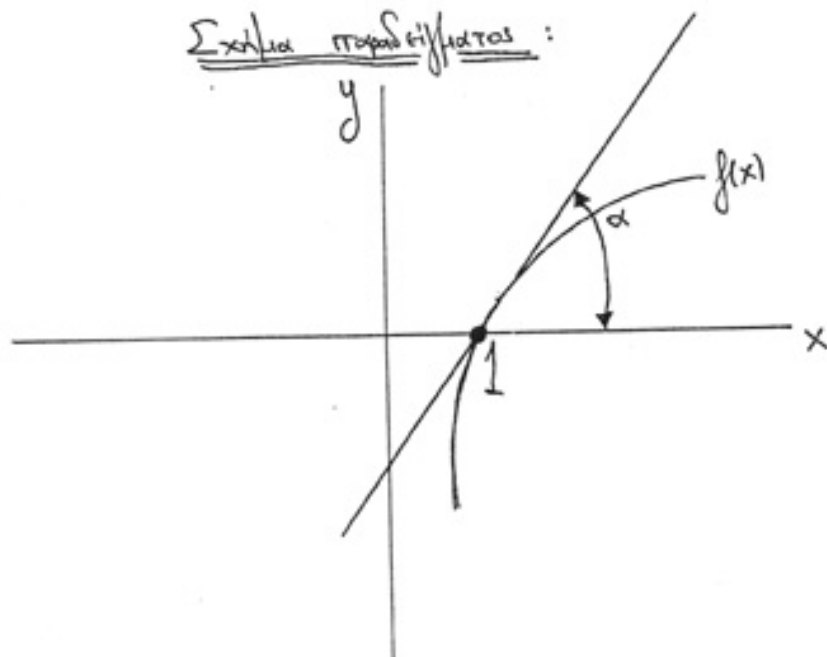
Η ζητούμενη γωνία είναι η γωνία που σχηματίζει ο άξονας των  $x$  με την εφαπτομένη της καμπύλης στο σημείο τομής τους.

Έχουμε  $\ln x = 0 \Rightarrow x = 1$ . Άρα ο άξονας των  $x$  και η καμπύλη τέμνονται στο  $(1, 0)$ .

Η παράγωγος είναι  $y' = f'(x) = \frac{1}{x} \mid \mathbb{R}_+^*$

Οπότε  $\epsilon_{\text{ρα}} = f'(1) = \frac{1}{1} = 1 \Rightarrow \alpha = \text{το } \epsilon_{\text{ρα}} \in \varphi(1)$

Σχολία παραδείγματος :



- ΕΝΝΟΙΑ ΤΗΣ ΠΑΡΑΓΩΓΟΥ ΣΤΗ ΜΗΧΑΝΙΚΗ -

Ευθύγραμμη κίνηση σωματιδίου :

Η κίνηση σωματιδίου κατά μήκος μιας ευθείας γραμμής καθορίζεται πλήρως από την εξίσωση  $s = f(t)$ , όπου  $t \geq 0$  είναι ο χρόνος και  $s$  η απόσταση του σωματιδίου από ένα σταθερό σημείο  $O$  της ευθείας πάνω στην οποία κινείται.

Έστω  $f(t_0)$  και  $f(t)$  δυο θέσεις του σωματιδίου πάνω στην ευθεία με αντίστοιχες ταχύτητες  $v(t_0)$  και  $v(t)$  στις χρονικές στιγμές  $t_0$  και  $t$  (βλέπε σχήμα κάτω).



1) Ορίζεται μέση ταχύτητα του κινητού μεταξύ των χρονικών στιγμών  $t$  και  $t_0$ , το  
μέγεθος  $\frac{f(t)-f(t_0)}{t-t_0}$

2) Ορίζουμε στιγμιαία ταχύτητα  $U(t_0)$  του κινητού κατά την χρονική στιγμή  $t_0$  το  
 $\lim_{t \rightarrow t_0} \frac{f(t)-f(t_0)}{t-t_0} = \left. \frac{df}{dt} \right|_{t=t_0} = \left. f'(t) \right|_{t=t_0}$

3) Ορίζουμε στιγμιαία επιτάχυνση  $\gamma(t_0)$  του κινητού κατά την χρονική στιγμή  $t_0$  το

$$\lim_{t \rightarrow t_0} \frac{U(t)-U(t_0)}{t-t_0} = \left. \frac{dU}{dt} \right|_{t=t_0} = \left. U'(t) \right|_{t=t_0} = \left. f''(t) \right|_{t=t_0}$$

### ΠΑΡΑΔΕΙΓΜΑΤΑ:

1) Ένα κινητό κινείται πάνω σε μια επιφάνεια με παραμετρικές εξισώσεις  $x=t^3+2t$ ,  
 $y=4\pi t^3$ ,  $z=5\omega t^3$ , όπου  $t$  ο χρόνος. (Στο χώρο το κινητό εκτελεί  
ταυτόχρονα τρεις εδωδιπλές κινήσεις μια αντίστοιχα σε κάθε άξονα  $x, y, z$ ).

α) Βρείτε την ταχύτητα και την επιτάχυνση σε κάθε χρονική στιγμή.

β) Βρείτε την ταχύτητα του κινητού την χρονική στιγμή  $t=0$ .

### ΛΥΣΗ:

α) Το διάνυσμα θέσεως του κινητού είναι:

$$\vec{r} = x\vec{i} + y\vec{j} + z\vec{k} = (t^3+2t)\vec{i} + (4\pi t^3)\vec{j} + (5\omega t^3)\vec{k}$$

$$\text{Τότε } \vec{v} = \frac{d\vec{r}}{dt} = (3t^2+2)\vec{i} + (12\pi t^2)\vec{j} + (15\omega t^2)\vec{k}$$

$$\text{και } \vec{\gamma} = \frac{d\vec{v}}{dt} = \frac{d^2\vec{r}}{dt^2} = (6t)\vec{i} + (-36\pi t)\vec{j} + (-30\omega t)\vec{k}$$

$$\text{β) Για } t=0 \quad \vec{v} = (3 \cdot 0^2 + 2)\vec{i} + (12\pi \cdot 0^2)\vec{j} + (15\omega \cdot 0^2)\vec{k}$$

$$\vec{v} = 2\vec{i} + 12\vec{j}$$

$$\text{Το μέτρο ταχύτητας είναι } \sqrt{2^2+12^2} = \sqrt{4+144} = \sqrt{148} = 2\sqrt{37}$$

B (15)

② Δύο κινητά αναχωρούν ταυτόχρονα από το σημείο  $(0,0)$  και οι εξισώσεις κίνησης είναι  $f_1(t) = 3t^3 - 2t^2 - t$  και  $f_2(t) = 2t^3 - t^2 + t$  αντιστοίχα. Να βρεθούν οι ταχύτητες των κινητών κατά την τελευταία τους συνάντηση.

ΛΥΣΗ:

$$\begin{aligned} \text{Τα κινητά συναντώνται όταν } f_1(t) &= f_2(t) \Leftrightarrow 3t^3 - 2t^2 - t = 2t^3 - t^2 + t \Leftrightarrow \\ &\Leftrightarrow t^3 - t^2 - 2t = 0 \Leftrightarrow t(t^2 - t - 2) = 0 \Leftrightarrow \\ &\Leftrightarrow t(t-2)(t+1) = 0 \Leftrightarrow \left. \begin{array}{l} t = 0 \\ t = 2 \\ t = -1 \text{ απορριπτεται} \end{array} \right\} \end{aligned}$$

Ετσι η τελευταία συνάντηση έγινε την χρονική στιγμή  $t = 2 \text{ sec}$ .  
Οποτε

$$v_1(2) = \left. \frac{df_1}{dt} \right|_{t=2} = (9t^2 - 4t - 1)_{t=2} = 23$$

$$v_2(2) = \left. \frac{df_2}{dt} \right|_{t=2} = (6t^2 - 2t + 1)_{t=2} = 21$$

### - ΔΕΔΟΜΕΝΑ ΚΑΤΑ ΤΗΝ ΕΥΘΥΓΡΑΜΜΗ ΚΙΝΗΣΗ ΣΩΜΑΤΙΔΙΩΝ -

**ΕΥΘΥΓΡΑΜΜΗ ΚΙΝΗΣΗ.** Η κίνηση ενός σωματιδίου  $P$  κατά μήκος μιας ευθείας γραμμής καθορίζεται πλήρως από την εξίσωση  $s = f(t)$ , όπου  $t \geq 0$  είναι ο χρόνος και  $s$  είναι η απόσταση του  $P$  από ένα σταθερό σημείο  $O$  της ευθείας πάνω στην οποία κινείται.

Η ταχύτητα του  $P$  τη χρονική στιγμή  $t$  είναι  $v = \frac{ds}{dt}$

Αν  $v > 0$ , το  $P$  κινείται στην κατεύθυνση που αυξάνει η απόσταση  $s$ .

Αν  $v < 0$ , το  $P$  κινείται στην κατεύθυνση που ελαττώνεται η απόσταση  $s$ .

Αν  $v = 0$ , το  $P$  βρίσκεται, την ορισμένη αυτή χρονική στιγμή, σε ηρεμία.

Η επιτάχυνση του  $P$  τη χρονική στιγμή  $t$  είναι  $a = \frac{dv}{dt} = \frac{d^2s}{dt^2}$

Αν  $a > 0$ , η ταχύτητα  $v$  αυξάνεται, ενώ αν  $a < 0$ , η  $v$  ελαττώνεται με το χρόνο.

Αν οι  $v$  και  $a$  έχουν το ίδιο πρόσημο, τότε το μέτρο της ταχύτητας του σημείου  $P$  αυξάνεται.

Αν οι  $v$  και  $a$  έχουν αντίθετα πρόσημα, τότε το μέτρο της ταχύτητας του σημείου  $P$  ελαττώνεται.



Στα επόμενα προβλήματα της ευθύγραμμης κίνησης η απόσταση  $s$  είναι σε μέτρα (m) και ο χρόνος  $t$  σε δευτερόλεπτα (s).

- ΑΣΚΗΣΕΙΣ -

- ① Ένα σώμα κινείται κατά μήκος μιας ευθείας γραμμής σύμφωνα με την εξίσωση  $s = \frac{1}{2}t^3 - 2t$ . Προσδιορίστε την ταχύτητα και την επιτάχυνση του 2 δευτερόλεπτα μετά από την αρχή της κίνησης του.

$$v = \frac{ds}{dt} = \frac{3}{2}t^2 - 2 \quad \text{Για } t=2, v = \frac{3}{2} \cdot 2^2 - 2 = 4 \text{ m/s}$$

$$a = \frac{dv}{dt} = 3t \quad \text{Για } t=2, a = 3 \cdot (2) = 6 \text{ m/s}^2$$

- ② Η εξίσωση της ευθύγραμμης κίνησης ενός σωματίδιου είναι  $s = t^3 - 6t^2 + 9t + 4$

- (α) Βρείτε τα  $s$  και  $a$ , όταν  $v=0$
- (β) Βρείτε τα  $s$  και  $v$ , όταν  $a=0$
- (γ) Πότε αυξάνεται η  $s$ ;
- (δ) Πότε αυξάνεται η  $v$ ;
- (ε) Πότε αλλάζει η κατεύθυνση της κίνησης;

$$v = ds/dt = 3t^2 - 12t + 9 = 3(t-2)(t-3)$$

$$a = dv/dt = 6(t-2)$$

(α) Θέτουμε  $v=0$ , είναι  $t=1$  και  $3$ . Για  $t=1$  είναι  $s=8$  και  $a=-6$ . Για  $t=3$  είναι  $s=4$  και  $a=6$ .

(β) Για  $a=0$  είναι  $t=2$ , οπότε  $s=6$  και  $v=-3$

(γ) Η  $s$  αυξάνεται όταν  $v>0$ , δηλαδή όταν  $t<1$  και  $t>3$

(δ) Η  $v$  αυξάνεται όταν  $a>0$ , δηλαδή όταν  $t>2$ .

(ε) Η κατεύθυνση της κίνησης αλλάζει όταν είναι  $v=0$  και  $a \neq 0$ . Σύμφωνα από το μέρος (α) προκύπτει ότι η κατεύθυνση της κίνησης αλλάζει όταν  $t=1$  και  $t=3$ .

- ③ Η απόσταση  $s$  μιας αεροπλανικής που κινείται σε ευθεία οριζοντιογραφία, από ένα σταθερό σημείο δίνεται από τη σχέση  $s = 3t^4 - 44t^3 + 144t^2$ , όπου  $t$  είναι ο χρόνος. Πότε η αεροπλανική ανιδοκομποιεί;

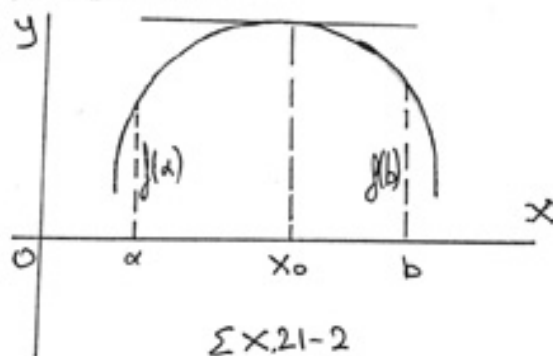
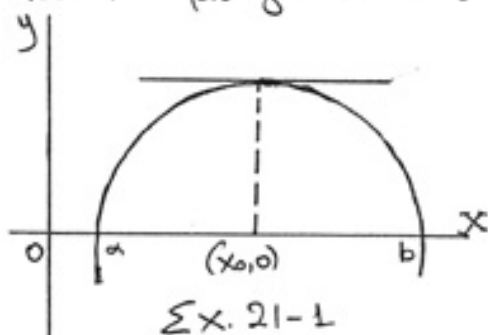
(Απ:  $3 < t < 8$ )

## - ΤΟ ΘΕΩΡΗΜΑ ΤΗΣ ΜΕΣΗΣ ΤΙΜΗΣ -

### ΤΟ ΘΕΩΡΗΜΑ ΤΟΥ ROLLE.

Αν η  $f(x)$  είναι συνεχής στο διάστημα  $a \leq x \leq b$  και παραγωγίσιμη στο διάστημα  $a < x < b$  και αν  $f(a) = f(b) = 0$ , τότε υπάρχει ένα τουλάχιστον σημείο  $x = x_0$  του διαστήματος  $a < x < b$  στο οποίο είναι  $f'(x) = 0$ .  
Η γεωμετρική ερμηνεία του θεωρήματος αυτού είναι η εξής: Αν μια συνεχής καμπύλη τέμνει τον άξονα των  $x$  στα σημεία  $x = a$  και  $x = b$  και έχει εφαπτόμενη σε κάθε σημείο μεταξύ των  $a$  και  $b$ , τότε υπάρχει τουλάχιστον ένα σημείο  $x = x_0$  μεταξύ των  $a$  και  $b$ , όπου η εφαπτόμενη είναι παράλληλη προς τον άξονα των  $x$ . Βλέπε Σχ. 21-1.

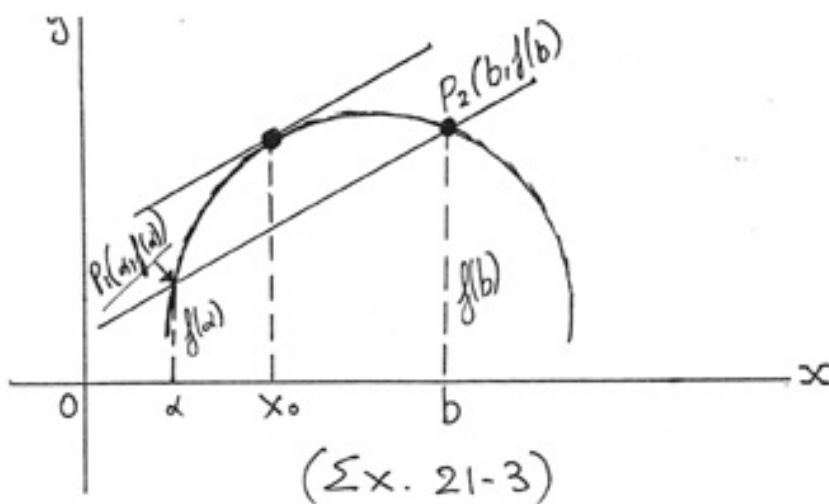
Πορίσμα: Αν η  $f(x)$  ικανοποιεί τις συνθήκες του θεωρήματος του Rolle με τη διαφορά ότι  $f(a) = f(b) \neq 0$ , τότε  $f'(x) = 0$  για μια τουλάχιστον τιμή του  $x$  μεταξύ των  $a$  και  $b$ . Βλέπε Σχ. 21-2



ΤΟ ΘΕΩΡΗΜΑ ΤΗΣ ΜΕΣΗΣ ΤΙΜΗΣ: Αν η  $f(x)$  είναι συνεχής στο διάστημα  $a \leq x \leq b$  και παραγωγίσιμη στο διάστημα  $a < x < b$ , τότε υπάρχει τουλάχιστον μια τιμή  $x = x_0$  μεταξύ των  $a$  και  $b$  τέτοια ώστε:

$$\frac{f(b) - f(a)}{b - a} = f'(x_0)$$

Η γεωμετρική ερμηνεία του θεωρήματος αυτού είναι η εξής: Αν  $P_1$  και  $P_2$  είναι δύο σημεία μιας συνεχούς καμπύλης (Σχ. 21-3), η οποία έχει εφαπτόμενη σε κάθε ενδιάμεσο σημείο, τότε υπάρχει τουλάχιστον ένα σημείο της καμπύλης μεταξύ των  $P_1$  και  $P_2$ , στο οποίο η κλίση της καμπύλης είναι ίση με τη κλίση της  $P_1P_2$ .



- ΛΥΜΕΝΑ ΠΡΟΒΛΗΜΑΤΑ -

① Βρείτε την τιμή  $x_0$ , για την οποία γίνεται λόγος στο θεώρημα του Rolle, για την συνάρτηση  $f(x) = x^3 - 12x$  στο διάστημα  $0 \leq x \leq 2\sqrt{3}$ .

Από τη  $f'(x) = 3x^2 - 12 = 0$  έχουμε  $x = \pm 2$ . Συνεπώς, η ζητούμενη τιμή είναι  $x_0 = 2$ .

② Βρείτε την τιμή  $x_0$ , για την οποία γίνεται λόγος στο θεώρημα της μέσης τιμής, για τη συνάρτηση  $f(x) = 3x^2 + 4x - 3$ ,  $a = 1$ ,  $b = 3$ .

Χρησιμοποιώντας  $f(a) = f(1) = 4$ ,  $f(b) = f(3) = 36$ ,  $f'(x) = 6x + 4$  και  $b - a = 2$ , έχουμε  $36 = 4 + 2(6x_0 + 4) = 12x_0 + 12$  από όπου  $x_0 = 2$ .

③ Δείξτε ότι στο διάστημα  $(-1, 1)$  δεν υπάρχει εφαπτομένη της καμπύλης  $f(x) = 1 - \sqrt[3]{x^2}$  παράλληλη στον άξονα  $OX$ .

ΛΥΣΗ:

Θα ελέγχουμε αν εφαπτόμαστε στο θεώρημα Rolle για την  $f$  στο  $(-1, 1)$ . Η  $f$  είναι συνεχής στο  $[-1, 1]$  και  $f'(x) = (-x^{2/3})' = -\frac{2}{3}x^{-1/3} = -\frac{2}{3\sqrt[3]{x}}$

Για  $x = 0 \in (-1, 1)$  έχουμε  $f'(0) \rightarrow \infty$  η  $f$  δηλαδή δεν παραγωγίζεται σε όλα τα  $x \in (-1, 1)$  άρα δεν υπάρχει  $\xi \in (-1, 1)$  με  $f'(\xi) = 0$  άρα δεν υπάρχει στο  $(-1, 1)$  εφαπτομένη της  $f$  παράλληλη στον άξονα  $OX$ .

④ Να ελέγξετε αν εφαρμόζεται το θεώρημα της μέσης τιμής για τη συνάρτηση  $f(x) = \ln|x|$  στο διάστημα  $[-\frac{\pi}{2}, \frac{\pi}{2}]$

ΛΥΣΗ:

Η  $f(x) = \ln|x|$  είναι συνεχής στο  $[-\frac{\pi}{2}, \frac{\pi}{2}]$

Θα ελέγξουμε αν παραγωγίζεται στη θέση  $x=0$

$$\lim_{h \rightarrow 0} \frac{f(x+h) - f(x)}{h} = \lim_{h \rightarrow 0} \frac{\ln|0+h| - \ln|0|}{h} = \lim_{h \rightarrow 0} \frac{\ln|h|}{h} =$$

$$= \begin{cases} \rightarrow h > 0 & \lim_{h \rightarrow 0^+} \frac{\ln h}{h} = 1 \\ \rightarrow h < 0 & \lim_{h \rightarrow 0^-} \frac{\ln|h|}{h} = -1 \end{cases}$$

Συνεπώς δεν υπάρχει η  $f'(0)$ , δηλαδή η  $f$  δεν παραγωγίζεται σε όλα τα  $x \in (-\frac{\pi}{2}, \frac{\pi}{2}) \Rightarrow$  Δεν εφαρμόζεται το θεώρημα της μέσης τιμής.



- ΑΛΥΤΑ ΠΡΟΒΛΗΜΑΤΑ -

- 1) Βρείτε την τιμή  $x_0$ , για την οποία γίνεται λόγος στο θεώρημα Rolle, για τις επόμενες συνάρτησεις:
- (α)  $f(x) = x^2 - 4x + 3, 1 \leq x \leq 3$  (ΑΠ:  $x_0 = 2$ )
  - (β)  $f(x) = \sin x, 0 \leq x \leq \pi$  (ΑΠ:  $x_0 = \frac{1}{2}\pi$ )
  - (γ)  $f(x) = \cos x, \frac{\pi}{2} < x < \frac{3\pi}{2}$  (ΑΠ:  $x_0 = \pi$ )

② Βρείτε την τιμή  $x_0$ , για την οποία γίνεται λόγος στο θεώρημα της μέσης τιμής, για τις επόμενες συνάρτησεις:

- (α)  $y = x^3, 0 \leq x \leq 6$  (ΑΠ:  $x_0 = 2\sqrt{3}$ )
- (β)  $y = ax^2 + bx + c, x_1 \leq x \leq x_2$  (ΑΠ:  $\frac{1}{2}(x_1 + x_2)$ )
- (γ)  $y = \ln x, 1 \leq x \leq 2e$  (ΑΠ:  $x_0 = \frac{2e-1}{1+\ln 2}$ )

B (20)

## ΘΕΩΡΗΜΑ:

Έστω  $f$  μία συνάρτηση ορισμένη και συνεχής στο  $[a, b]$  και παραγωγίσιμος, στο  $(a, b)$  τότε ισχύουν:

$$α) f'(x) > 0 \quad \forall x \in (a, b) \iff f \uparrow \text{ στο } [a, b]$$

$$β) f'(x) < 0 \quad \forall x \in (a, b) \iff f \downarrow \text{ στο } [a, b]$$

$$γ) f'(x) > 0 \quad \forall x \in (a, b) \iff f \uparrow \text{ στο } [a, b]$$

$$δ) f'(x) < 0 \quad \forall x \in (a, b) \iff f \downarrow \text{ στο } [a, b]$$

$$ε) f'(x) = 0 \quad \forall x \in (a, b) \iff f \text{ σταθερή}$$

## ΠΑΡΑΔΕΙΓΜΑΤΑ:

1) Εξετάστε ως προς την μονotonία τη συνάρτηση:  $f(x) = 2x + 10$  στο  $\mathbb{R}$

ΛΥΣΗ:  
Έχουμε  $f'(x) = (2x + 1)' = 2 > 0 \implies f \uparrow \forall x \in \mathbb{R}$

2) Εξετάστε ως προς την μονotonία τη συνάρτηση:  $f(x) = x^2$  στο  $\mathbb{R}$

ΛΥΣΗ:  
Έχουμε  $f'(x) = (x^2)' = 2x$

•  $f'(x) > 0 \quad \forall x \in \mathbb{R}_+ \implies f \uparrow \text{ στο } \mathbb{R}_+$

•  $f'(x) < 0 \quad \forall x \in \mathbb{R}_- \implies f \downarrow \text{ στο } \mathbb{R}_-$

3) Εξετάστε ως προς την μονotonία την συνάρτηση:  $f(x) = \ln x, x \in \mathbb{R}_+$

ΛΥΣΗ:

Έχουμε  $f'(x) = (\ln x)' = \frac{1}{x}, x \in \mathbb{R}_+$

$f'(x) > 0 \quad \forall x \in \mathbb{R}_+ \implies f \uparrow \text{ στο } \mathbb{R}_+$

④ Εξετάστε ως προς την μονotonία τη συνάρτηση:  $f(x) = e^x$  στο  $\mathbb{R}$

ΛΥΣΗ:

$$\text{Έχουμε } f'(x) = (e^x)' = e^x > 0 \quad \forall x \in \mathbb{R} \Rightarrow f \uparrow \quad \forall x \in \mathbb{R}$$

⑤ Εξετάστε ως προς τη μονotonία την συνάρτηση:  $f(x) = \frac{1}{3}x^3 + \frac{5}{2}x^2 + 6x$  στο  $\mathbb{R}$

ΛΥΣΗ:

$$\text{Έχουμε } f'(x) = x^2 + 5x + 6$$

Το τριώνυμο  $x^2 + 5x + 6$  γίνεται θετικός εκτός των ριζών του  $-2, -3$  και αρνητικός εντός των ριζών του, οπότε:

$$f'(x) > 0, \quad x \in (-\infty, -3) \cup (-2, +\infty)$$

$$f'(x) < 0, \quad x \in (-3; 2)$$

Άρα η  $f$  στο  $\uparrow$  στο  $\uparrow (-\infty, -3) \cup (-2, +\infty)$

και  $f$  στο  $\downarrow$  στο  $\downarrow (-3; 2)$

⑥ Να εξετάσετε ως προς την μονotonία τις συναρτήσεις:

α)  $f(x) = 2x^2 - \ln x, \quad x \in (0, +\infty)$

β)  $f(x) = (x-2)^2, \quad x \in \mathbb{R}$

γ)  $f(x) = x \ln x, \quad x \in (0, +\infty)$

δ)  $f(x) = x + \eta \mu x, \quad x \in \mathbb{R}$

ΛΥΣΗ:

α)  $f'(x) = 4x - \frac{1}{x} = \frac{4x^2 - 1}{x}$

$$f'(x) = 0 \Leftrightarrow 4x^2 - 1 = 0 \Leftrightarrow x = \pm \frac{1}{2}$$

Το  $x = -\frac{1}{2}$  απορρίπτεται γιατί βρίσκεται εκτός του πεδίου ορισμού της  $f$ . Με ενδεικτική το πρόβλημα της  $f'(x)$  στα διαστήματα  $(0, \frac{1}{2})$  και  $(\frac{1}{2}, +\infty)$

$$f'(x) > 0 \Leftrightarrow x(x - \frac{1}{2})(x + \frac{1}{2}) > 0 \Leftrightarrow x > \frac{1}{2}$$

$$f'(x) < 0 \Leftrightarrow x < \frac{1}{2}$$

Άρα  $f \downarrow$  στο  $(0, \frac{1}{2})$  και  $f \uparrow$  στο  $(\frac{1}{2}, +\infty)$

β)  $f'(x) = 2(x-2)$

$$f'(x) = 0 \Leftrightarrow 2(x-2) = 0 \Leftrightarrow x = 2$$

$$f'(x) > 0 \Leftrightarrow x > 2 \text{ και } f'(x) < 0 \Leftrightarrow x < 2$$

Άρα  $f \downarrow$  στο  $(0, \frac{1}{2})$  και  $f \uparrow$  στο  $(\frac{1}{2}, +\infty)$

B (22)

$$\textcircled{1} \quad f'(x) = (x \ln x)' = x' \ln x + x (\ln x)' = 1 + \ln x$$

$$f'(x) = 0 \iff 1 + \ln x = 0 \iff \ln x = -1 \iff x = \frac{1}{e}$$

$$f'(x) > 0 \iff 1 + \ln x > 0 \iff x > \frac{1}{e} \quad \boxed{\text{Διότι } \ln e = 1}$$

$$f'(x) < 0 \iff x < \frac{1}{e}$$

Άρα  $f \downarrow$  στο  $(0, 1/e)$  και  $f \uparrow$  στο  $(1/e, +\infty)$

$$\textcircled{2} \quad f'(x) = (x + \ln x)' = 1 + \ln x$$

$$\text{Αλλά } -1 \leq \ln x \leq 1 \iff 0 < 1 + \ln x \leq 2 \implies f'(x) \geq 0, \text{ άρα } \forall x \in \mathbb{R} \implies$$

$\implies f \uparrow$  στο  $\mathbb{R}$ .

### - ΜΕΓΙΣΤΑ-ΕΛΑΧΙΣΤΑ -

#### ΚΡΙΤΗΡΙΟ ΤΗΣ ΠΡΩΤΗΣ ΠΑΡΑΓΩΓΟΥ:

Για να βρούμε τα σχετικά μέγιστα και ελάχιστα συνεχών συναρτήσεων, των οποίων οι πρώτες παράγωγοι είναι επίσης συνεχείς, κάνουμε τα εξής:

- 1) Λύνουμε την  $f'(x) = 0$  για να προσδιορίσουμε τα κρίσιμα σημεία.
- 2) Τοποθετούμε τα κρίσιμα σημεία σε μια αριθμητική κλίμακα, δηλώνοντας κατά αυτό τον τρόπο ορισμένα διαστήματα.
- 3) Βρίσκουμε το πρόσημο της  $f'(x)$  σε κάθε διάστημα.
- 4) Έστω ότι το  $x$  αυξάνει περνώντας από ένα κρίσιμο σημείο  $x = x_0$ 
  - α) Η  $f(x)$  έχει μέγιστο ( $= f(x_0)$ ), αν το πρόσημο της  $f'(x)$  αλλάξει από  $-$  σε  $+$ .
  - β) Η  $f(x)$  έχει ελάχιστο ( $= f(x_0)$ ), αν το πρόσημο της  $f'(x)$  αλλάξει από  $+$  σε  $-$ .
  - γ) Η  $f(x)$  δεν έχει ούτε μέγιστο ούτε ελάχιστο στο  $x = x_0$ , αν η  $f'(x)$  δεν αλλάξει πρόσημο.

#### ΔΕΥΤΕΡΟ ΚΡΙΤΗΡΙΟ ΓΙΑ ΜΕΓΙΣΤΑ ΚΑΙ ΕΛΑΧΙΣΤΑ / ΚΡΙΤΗΡΙΟ ΤΗΣ ΔΕΥΤΕΡΗΣ ΠΑΡΑΓΩΓΟΥ:

1) Λύνουμε την  $f'(x) = 0$  για να βρούμε τα κρίσιμα σημεία.

- 2) Σε ένα κρίσιμο σημείο  $x = x_0$ .
  - η  $f(x)$  έχει μέγιστο ( $= f(x_0)$ ), αν  $f''(x_0) < 0$
  - η  $f(x)$  έχει ελάχιστο ( $= f(x_0)$ ), αν  $f''(x_0) > 0$

Το κριτήριο δεν ισχύει στην περίπτωση που η  $f''(x_0)$  είναι μηδέν ή άγνωστο. Στην περίπτωση αυτή, πρέπει να χρησιμοποιείται το κριτήριο της πρώτης παράγωγου.

## ΠΑΡΑΔΕΙΓΜΑΤΑ:

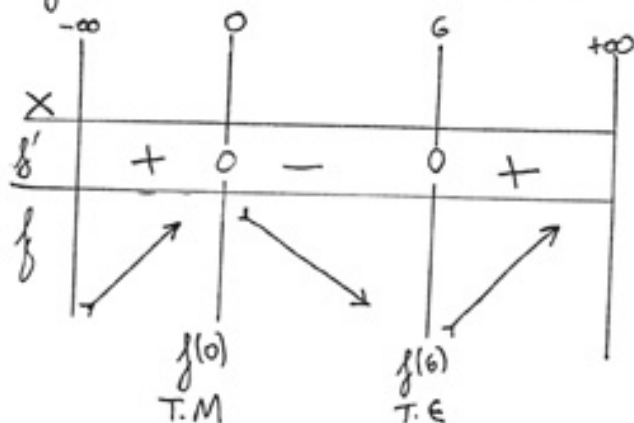
- ① Να βρεθούν τα ακρότατα (και υπάρξουν) της συνάρτησης  $f(x) = x^3 - 9x^2 + 5/R$   
ΛΥΣΗ:

Η  $f$  είναι συνεχής και παραγωγίσιμη στο  $\mathbb{R}$ .

$$f'(x) = 3x^2 - 18x$$

$$f'(x) = 0 \Leftrightarrow 3x^2 - 18x = 0 \Leftrightarrow 3x(x-6) = 0 \Leftrightarrow$$

$$\begin{cases} x=0 \\ x=6 \end{cases}$$



- ② Όμοια για την  $f(x) = e^{x-1/x} / \mathbb{R}^*$   
ΛΥΣΗ:

Η  $f$  είναι συνεχής και παραγωγίσιμη στο  $\mathbb{R}^*$

$$f'(x) = e^{x-1/x} \cdot \left(\frac{x-1}{x}\right)' = e^{x-1/x} \cdot \frac{1}{x^2}$$

Παρατηρούμε ότι  $f'(x) > 0, \forall x \in \mathbb{R}$

$\Rightarrow f \uparrow$  στο  $\mathbb{R}^* \Rightarrow f$  δεν παρουσιάζει ακρότατα

- ③ Η απόσταση  $s$  που διανύει ένα αυτοκίνητο που εκτοξεύεται κατακόρυφα προς τα πάνω σε χρόνο  $t$ , δίνεται κατά προσέγγιση από τον τύπο:  $s = 120t - 4,9t^2$ .  
Βρείτε το μέγιστο ύψος που θα φθάσει το αυτοκίνητο και τον αντίστοιχο χρόνο.  
ΛΥΣΗ:

$$s(t) = 120t - 4,9t^2 \Rightarrow s'(t) = 120 - 9,8t$$

$$\text{και } s'(t) = 0 \Leftrightarrow t = \frac{120}{9,8} \Leftrightarrow t = 12,24 \text{ sec}$$

B (24)



Ακόμα  $s''(t) = -9,8 < 0$  για  $t = 12,24$  η  $s(t)$  παρουσιάζει τοπικό μέγιστο και μάλιστα  $S(12,24) = (20 \cdot 12,24 - 4,9 \cdot 12,24^2) \text{ m} \Rightarrow S_{\max} = 734,69 \text{ m}$

④ Να βρείτε τα τοπικά ακρότατα (αν υπάρχουν) της συνάρτησης  $f(x) = x \ln x$  ( $0, +\infty$ )

ΛΥΣΗ:

$$f'(x) = 1 + \ln x \Rightarrow f'(x) = 0 \Leftrightarrow 1 + \ln x = 0 \Leftrightarrow \ln x = -1 \Leftrightarrow x = e^{-1}$$

Η  $f'(x) = 1 + \ln x$  είναι παραγωγίσιμη  $\forall x \in (0, +\infty)$  και  $f''(x) = \frac{1}{x} \Rightarrow f''(\frac{1}{e}) = e > 0$ . Άρα το  $\frac{1}{e}$  είναι δέση τοπικού ελαχίστου για την  $f$ , αφού η  $f''(x)$  είναι συνεχής στο  $\frac{1}{e}$ .  
Άρα έχουμε  $\min$  για  $x = \frac{1}{e}$  και  $f(\frac{1}{e}) = -\frac{1}{e}$ .

⑤ Να βρείτε τα ακρότατα της  $f(x) = x^4$

Λύση:

$$f'(x) = 4x^3, f''(x) = 12x^2 \text{ με } f''(x) = 0 \Leftrightarrow x = 0$$

Χρησιμοποιούμε το 1<sup>ο</sup> κριτήριο.

### - ΚΥΡΤΕΣ ΚΑΙ ΚΟΙΛΕΣ ΣΥΝΑΡΤΗΣΕΙΣ -

Έστω  $f$  μια συνάρτηση ορισμένη σε ένα διάστημα  $(a, b)$  και παραγωγίσιμη σε κάποιο  $x_0 \in (a, b)$ .

Τότε είναι γνωστό, ότι θα υπάρχει εφαπτομένη του γραφήματος της  $f$  στο σημείο  $x_0$ .

ΟΡΙΣΜΟΣ:

Η  $f$  αναφέρεται κυρτή όταν και μόνο όταν το γράφημά της  $f$  βρίσκεται πάνω από την εφαπτομένη του γραφήματος σε οποιοδήποτε σημείο του.

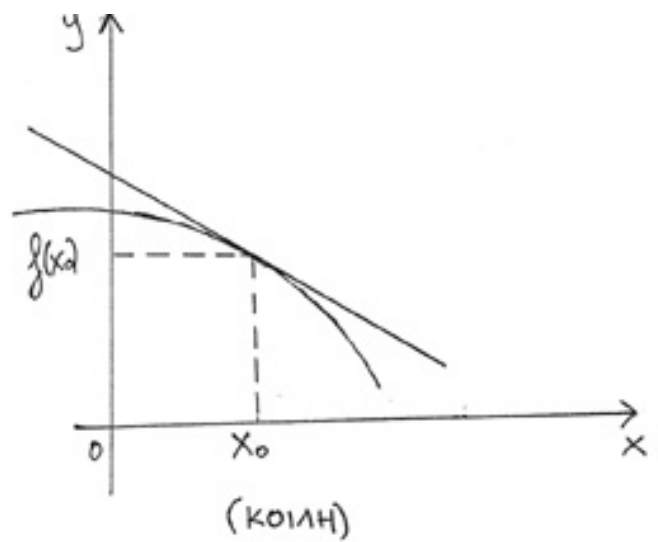
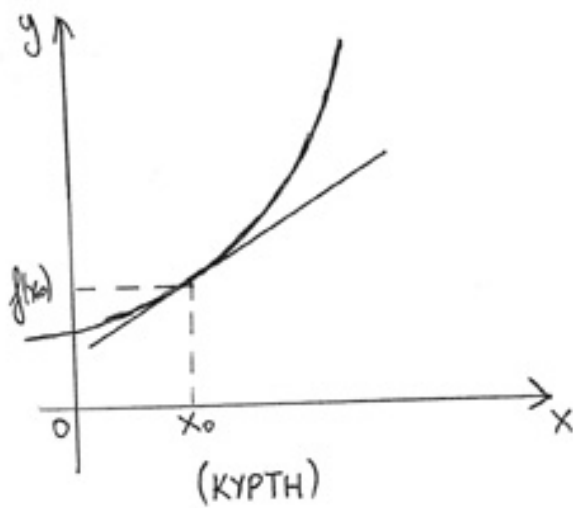
ΟΡΙΣΜΟΣ:

Η  $f$  αναφέρεται κοίλη όταν και μόνο όταν το γράφημά της  $f$  βρίσκεται κάτω από την εφαπτομένη του γραφήματος σε οποιοδήποτε σημείο του.

ΠΡΟΤΑΣΗ:

Έστω  $f$  μια συνάρτηση, ορισμένη στο  $[a, b]$  και δύο φορές παραγωγίσιμη στο  $(a, b)$ . Αν  $f''(x) > 0$  (αντίστοιχα  $f''(x) < 0$ )  $\forall x \in (a, b)$ , τότε η  $f$  έχει κοίλα (αντίστοιχα κυρτά) στο  $[a, b]$

(25) (8)



ΠΡΟΤΑΣΗ:

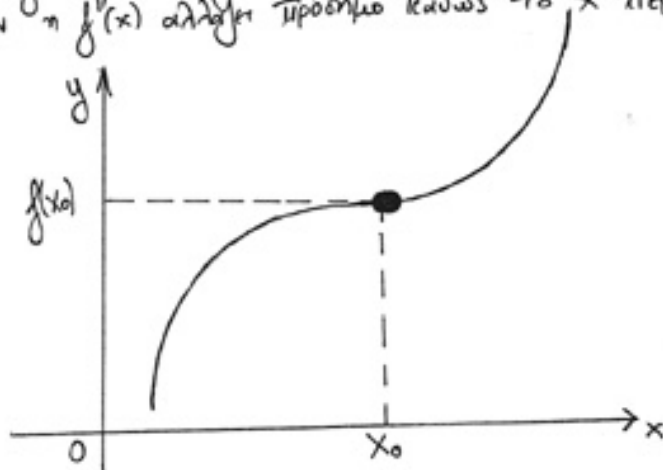
- ΣΗΜΕΙΟ ΚΑΜΠΗΣ -

σημείο καμψής μιας καμπύλης είναι ένα σημείο στο οποίο η καμπύλη σταματά να στρέφει τα κοίλα προς τα πάνω και αρχίζει να τα στρέφει προς τα κάτω ή αντίστροφα.

Ένα σημείο  $x=x_0$  είναι σημείο καμψής μιας καμπύλης

αν  $f''(x_0) = 0$

αν η  $f''(x)$  αλλάξει πρόσημο καθώς το  $x$  πέρνεται το  $x=x_0$



ΠΑΡΑΔΕΙΓΜΑΤΑ:

① Να βρείτε τα διαστήματα στα οποία η  $f(x) = x^3$  είναι κοίτη, κυρτή, καθώς επίσης και τα σημεία καμψής.

ΛΥΣΗ:  $f(x) = x^3/R$   
 $f'(x) = 3x^2, f''(x) = 6x$   
 $f''(x) = 0 \Leftrightarrow 6x = 0 \Leftrightarrow x = 0$

Οπότε  $f'(x) > 0 \Leftrightarrow x > 0$  και  $f'(x) < 0 \Leftrightarrow x < 0$   
 Άρα  $f$  κυρτή στο  $(0, +\infty)$  και  $f$  κοίλη στο  $(-\infty, 0)$   
 Επίσης όπως φαίνεται από τα ανωτέρω  $\Rightarrow$  Το  $x=0$  είναι σημείο στροφής.

② Όμοια για τη συνάρτηση  $f(x) = x e^{-x}$

ΛΥΣΗ:

$$f(x) = x e^{-x} \mid \mathbb{R}$$

$$f'(x) = (x e^{-x})' = x' \cdot e^{-x} + x(e^{-x})' = e^{-x} - x e^{-x}$$

$$f''(x) = (e^{-x} - x e^{-x})' = -e^{-x} - e^{-x} + x e^{-x} = e^{-x}(x-2)$$

$$f''(x) = 0 \Leftrightarrow e^{-x}(x-2) = 0 \Leftrightarrow x = 2$$

Οπότε  $f$  κυρτή στο  $(2, +\infty)$  και  $f$  κοίλη στο  $(-\infty, 2)$

$\Rightarrow$  Το  $x=2$  είναι σημείο στροφής.

③ Όμοια για τη συνάρτηση  $f(x) = x^4$

ΛΥΣΗ:

$$f(x) = x^4 \mid \mathbb{R}$$

$$f'(x) = 4x^3$$

$$f''(x) = 12x^2 > 0 \text{ και } f'(x) = 0 \Leftrightarrow x = 0$$

Άρα  $f(x)$  δεν έχει σημεία στροφής.

**\* ΑΝΑΚΕΦΑΛΑΙΩΣΗ ΣΤΟΙΧΕΙΩΝ ΧΡΗΣΙΜΩΝ ΓΙΑ ΓΡΑΦΗΜΑΤΑ \***

ΙΔΙΟΤΗΤΑ	ΑΝΑΓΚΑΙΑ ΣΥΝΘΗΚΗ	ΙΚΑΝΗ ΣΥΝΘΗΚΗ
Αύξουσα	$f'(x) \geq 0$	$f'(x) > 0$
Φθίνουσα	$f'(x) \leq 0$	$f'(x) < 0$
Κυρτή	$f''(x) \geq 0$	$f''(x) > 0$
Κοίλη	$f''(x) \leq 0$	$f''(x) < 0$
Μέγιστο	$f'(x) = 0$	$f'(x) = 0$ και $f''(x) < 0$ ή αλλαγή της $f'$ : $+$ $\rightarrow$ $-$
Ελάχιστο	$f'(x) = 0$	$f'(x) = 0$ και $f''(x) > 0$ ή αλλαγή πρόσημου της $f'$ : $-$ $\rightarrow$ $+$
ΣΗΜΕΙΟ ΣΤΡΟΦΗΣ	$f''(x) = 0$	$f''(x) = 0$ και $f'''(x) \neq 0$ αλλαγή πρόσημου της $f''$

## Άλυτα Προβλήματα - Μέγιστα ελάχιστα

- ① Το άθροισμα δύο θετικών αριθμών είναι 20. Βρείτε τους αριθμούς (α) αν το γινόμενο τους είναι μέγιστο, (β) αν το άθροισμα των τετραγώνων τους είναι ελάχιστο, (γ) αν το γινόμενο του τετραγώνου του ενός και του κύβου του άλλου είναι μέγιστο. Απ. (α) 10, 10 (β) 10, 10 (γ) 8, 12
- ② Το γινόμενο δύο θετικών αριθμών είναι 16. Βρείτε τους αριθμούς, (α) αν το άθροισμα τους είναι ελάχιστο (β) αν το άθροισμα του ενός και του τετραγώνου του άλλου είναι ελάχιστο. Απ. (α) 4, 4 (β) 8, 2
- ③ Ένα ορθογώνιο κιβώτιο ανοιχτό από πάνω με τετραγωνη βάση και χωρητικότητα  $6400 \text{ cm}^3$ , πρόκειται να κατασκευαστεί με κόστος 32 δρχ. ανά  $\text{cm}^2$  για τη βάση και 20 δρχ. ανά  $\text{cm}^2$  για τις πλευρές. Βρείτε τις πλέον οικονομικές διαστάσεις. Απ.  $20 \times 20 \times 16$  σε cm
- ④ Ένας τοίχος ύψους 8m απέχει  $3\frac{3}{8}$  m από ένα ψηλό κτίριο. Βρείτε το μήκος της πιο κοντής σκάλας που θα στηρίζεται στο έδαφος και στο κτίριο και θα ακουμπά στον τοίχο. Απ.  $15\frac{5}{8}$  m.
- ⑤ Βρείτε την εξίσωση της ευθείας, που περνάει από το σημείο (3, 4) και μαζί με τους άξονες ορίζει στο πρώτο τεταρτηβόριο τρίγωνο με ελάχιστη επιφάνεια. Απ.  $4x \pm 3y - 24 = 0$
- ⑥ Σε ποιο σημείο του πρώτου τεταρτηβόριου της παραβολής  $y = 4 - x^2$  η εφαπτομένη ορίζει μαζί με τους άξονες τρίγωνο με ελάχιστη επιφάνεια. Απ.  $(\sqrt{3}/3, 3/3)$
- ⑦ Βρείτε την ελάχιστη απόσταση του σημείου (4, 2) από την παραβολή  $y^2 = 8x$ . Απ.  $2\sqrt{2}$
- ⑧ Φέρτε εκείνη την εφαπτομένη της έλλειψης  $x^2/25 + y^2/16 = 1$  για την οποία το τμήμα που περιέχεται μεταξύ των αξόνων είναι ελάχιστο. και δείξτε ότι το μήκος του τμήματος αυτού είναι 2
- ⑨ Στην έλλειψη  $x^2/400 + y^2/225 = 1$  εγχράφονται ορθογώνια με τις πλευρές τους παράλληλες προς τους άξονες της. Βρείτε τις διαστάσεις των ορθογώνιων εκείνων που έχουν (α) μέγιστη επιφάνεια και (β) μέγιστο περιμετρο. Απ. (α)  $20\sqrt{2} \times 15\sqrt{2}$ , (β)  $32 \times 18$

10) ΟΡΕΙΤΕ την ακτίνα  $R$  του ορθού κυκλικού κώνου με το μέγιστο όγκο, που μπορεί να εγχραφεί σε σφαίρα ακτίνας  $r$ . Απ.  $R = \frac{2}{3}r\sqrt{2}$

11) Ένας ορθός κυκλικός κώνος εγχραφεται σ'έναν ορθό κυκλικό κώνο ακτίνας  $r$ . Βρείτε την ακτίνα  $R$  του κωνιδίου (α) αν όγκος του είναι μέγιστος και (β) αν η πλευρική του επιφάνεια είναι μέγιστη  
Απ. (α)  $R = \frac{2}{3}r$ , (β)  $R = \frac{1}{2}r$

12) Δείξτε ότι το ελάχιστο υλικό με το οποίο μπορεί να κατασκευαστεί μία κωνική σκηνή με ορισμένη χωρητικότητα, αντιστοιχεί σε ύψος ίσο με  $\sqrt{2}$  επί την ακτίνα της βάσης

13) Μεταξύ των ισοσκελών τριγώνων των περιγραμμένων σε κύκλο ακτίνας  $r$ , το τρίγωνο με το ελάχιστο εμβαδό είναι ισόπλευρο τρίγωνο με ύψος  $3r$ .

14) Προσδιορίστε τις διαστάσεις του ορθού κυκλικού κωνιδίου με τη μέγιστη πλευρική επιφάνεια, που μπορεί να εγχραφεί σε σφαίρα ακτίνας  $8\text{cm}$   
Απ.  $h = 2r = 8\sqrt{2}\text{cm}$

15) Διερευνήστε τη δυνατότητα εγχραφής ενός ορθού κυκλικού κωνιδίου με μέγιστη ολική επιφάνεια, σ'έναν ορθό κυκλικό κώνο ακτίνας  $r$  και ύψους  $h$   
Απ. Αν  $h > 2r$ , η ακτίνα του κωνιδίου είναι  $\frac{1}{2}hg/(h-r)$

16) Ηλεκτρικό ρεύμα, που διατρέχει κυκλικό πηνίο ακτίνας  $r$ , εξασκεί δύναμη  $F = kx/(x^2+r^2)^{3/2}$  σ'ένα μικρό μαγνήτη, που είναι τοποθετημένος σ'απόσταση  $x$  πάνω από το κέντρο του πηνίου. Δείξτε ότι η  $F$  γίνεται μέγιστη όταν  $x = \frac{1}{2}r$ .

17) Η ισχύς που παράγεται από ένα ηλεκτρικό στοιχείο ηλεκτρεγερτικής δύναμης  $E$  και σταθερής εσωτερικής αντίστασης  $r$ , όταν περνάει σταθερό ρεύμα διαμέσου μιας εξωτερικής αντίστασης  $R$ , είναι  $E^2R/(r+R)^2$ . Δείξτε ότι η ισχύς αυτή γίνεται μέγιστη όταν  $R=r$ .

## - ΓΡΑΦΙΚΗ ΠΑΡΑΣΤΑΣΗ ΤΗΣ $\psi = f(x)$ -

Για την χάραξη της γραφικής παράστασης της  $y = f(x)$ , εκτός από αυτά που αναφέραμε παραπάνω, είναι αναγκαίο να γνωρίζετε και το εξής:

- α) Πεδίο ορισμού και ρίζες της  $f(x) = 0$  όπως και  $f(x) = y$   
β) Την ορχή της  $f(x)$ . Δηλαδή  $\lim_{x \rightarrow -\infty} f(x) = ?$ ; και τέλος δηλαδή  $\lim_{x \rightarrow +\infty} f(x) = ?$ ;

γ) Τις ασυμπτωτες ειδείες της γραφικής παράστασης (εάν υπάρχουν). Διακρίνουμε τρία είδη ασυμπτωτων ειδείων:

- ① Κατακόρυφη ασυμπτωτή: Έχει εξίσωση της μορφής  $x = \alpha$   
Για να υπάρχει πρέπει και οφεί  $\lim_{x \rightarrow \alpha} f(x) = \pm \infty$

- ② Οριζόντια ασυμπτωτή: Έχει εξίσωση της μορφής  $y = \beta$   
Για να υπάρχει πρέπει και οφεί  $\lim_{x \rightarrow \pm \infty} f(x) = \beta$

- ③ Πλάγια ασυμπτωτή: Εμφανίζεται μόνο όταν στη συνάρτηση, ο βαθμός του παυσιώνιμου του αριθμητή είναι μεγαλύτερος από τον βαθμό του παυσιώνιμου του παρονομαστή. Για να έχει η συνάρτηση πλάγια ασυμπτωτή με εξίσωση της μορφής  $y = \lambda x + \mu$  πρέπει και οφεί:

$$\lim_{x \rightarrow \pm \infty} \frac{f(x)}{x} = \lambda \quad \text{και} \quad \lim_{x \rightarrow \pm \infty} [f(x) - \lambda x] = \mu$$

Αφού συγκεντρώσαμε όλα τα στοιχεία της συνθήσεως, κάνουμε σκιαζογράμμο αυτών και προχωρούμε στη χάραξη της γραφικής παράστασης.

## ΠΑΡΑΔΕΙΓΜΑΤΑ:

- ① Να βρεθούν οι ασυμπτωτές της  $f(x) = \frac{x^3}{x^2 - 1}$

ΛΥΣΗ:

- Το πεδίο ορισμού είναι  $A = \mathbb{R} - \{\pm 1\}$  διότι πρέπει  $x^2 - 1 \neq 0 \Leftrightarrow (x+1)(x-1) \neq 0$   
 $\Rightarrow x \neq \pm 1$

Ασυμπτωτες:  $\lim_{x \rightarrow 1} f(x) = \pm \infty$  και  $\lim_{x \rightarrow -1} f(x) = \pm \infty$  η  $f$  έχει κατακόρυφες ασυμπτωτες  $x = 1$  και  $x = -1$

Επί βαθμίας οφειλόμεν > βαθμίο παρανομαστή άρα υπάρχει πλάγια ασύμπτωτη  
της μορφής  $y = \lambda x + \mu$ , όπου  $\lambda = \lim_{x \rightarrow \pm\infty} \frac{f(x)}{x} = \lim_{x \rightarrow \pm\infty} \frac{x^3}{(x^2-1)x} = \lim_{x \rightarrow \pm\infty} \frac{x^2}{x^2-1} =$

$$= \lim_{x \rightarrow \pm\infty} \frac{1}{1 - \frac{1}{x^2}} = 1 \Rightarrow \boxed{\lambda = 1}$$

$$\text{και } \mu = \lim_{x \rightarrow \pm\infty} [f(x) - \lambda x] = \lim_{x \rightarrow \pm\infty} \frac{x^3}{x^2-1} - x = \lim_{x \rightarrow \pm\infty} \frac{x}{x^2-1} = \lim_{x \rightarrow \pm\infty} \frac{\frac{1}{x}}{1 - \frac{1}{x^2}} = 0$$

Άρα πλάγια ασύμπτωτη η  $y = x$

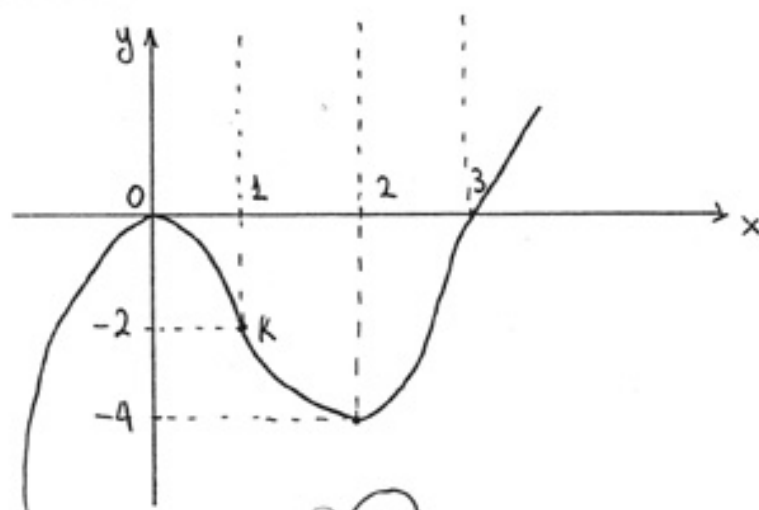
1. Να μελετηθεί η συνάρτηση  $f$  με  $f(x) = x^3 - 3x^2$

Λύση:

Η  $f$  έχει πεδίο ορισμού το  $\mathbb{R}$ . Η εξίσωση  $f(x) = x^3 - 3x^2 = 0$  έχει ρίζες  $x_1 = 0$  και  $x_2 = 3$  και συνεπώς η γραφική παράσταση της  $f$  διέρχεται από τα σημεία  $O(0,0)$  και  $A(3,0)$ . Η παράγωγος της  $f$  είναι  $f'(x) = 3x^2 - 6x = 3x(x-2)$  και μηδενίζεται για  $x=0$  και  $x=2$ . Συνεπώς είναι θετική στα διαστήματα  $(-\infty, 0)$ ,  $(2, +\infty)$  και αρνητική στο  $(0, 2)$ . Άρα η  $f$  είναι γνησίως αύξουσα στα διαστήματα  $(-\infty, 0)$ ,  $(2, +\infty)$  και γνησίως φθίνουσα στο  $(0, 2)$ . Η  $f$  έχει δεύτερη παράγωγο  $f''(x) = 6x - 6 = 6(x-1)$ . Η  $f''$  μηδενίζεται για  $x=1$ , ενώ είναι θετική στο  $(1, +\infty)$  και αρνητική στο  $(-\infty, 1)$ . Συνεπώς η  $f$  έχει τοπικό μέγιστο στο  $O$  το  $f(0) = 0$  και τοπικό ελάχιστο στο  $2$  το  $f(2) = -4$ . Η γραφική παράσταση της  $f$  παρουσιάζει καμπή στο σημείο  $K(1, -2)$ , και στρέφει τα κοίλα άνω στο  $[1, +\infty)$  και κάτω στο  $(-\infty, 1]$ .

Τα παραπάνω συμπεράσματα φαίνονται στον επόμενο πίνακα ο οποίος μας διευκολύνει στη μελέτη και γραφική παράσταση της  $f$ .

x	$-\infty$	0	1	2	3	$+\infty$
$f'$	+	○	-	-	○	+
$f''$	-	-	○	+	+	+
$f$		○ μ	-2	-4	○ ε	



B (30)



2. Να γίνει η γραφική παράσταση της  $f(x) = \frac{x}{x+1}$

Λύση:

α) Πρέπει  $x+1 \neq 0 \Leftrightarrow x \neq -1 \rightarrow D_f = \mathbb{R} - \{-1\}$

β)  $f(x) = 0 \Leftrightarrow \frac{x}{x+1} = 0 \Leftrightarrow x = 0$  και  $f(0) = 0$

γ) Ασύμπτωτες

$\lim_{x \rightarrow -1} f(x) = \pm\infty$  η  $f$  έχει κατακόρυφη ασύμπτωτη με εξίσωση  $x = -1$

$\lim_{x \rightarrow \pm\infty} f(x) = \lim_{x \rightarrow \pm\infty} \frac{x}{x+1} = \lim_{x \rightarrow \pm\infty} \frac{x}{x(1+\frac{1}{x})} = \lim_{x \rightarrow \pm\infty} \frac{1}{(1+\frac{1}{x})} = 1$  Άρα η  $f$  έχει οριζόντια ασύμπτωτη με εξίσωση  $y = 1$

δ)  $f'(x) = \left(\frac{x}{x+1}\right)' = \frac{x'(x+1) - x(x+1)'}{(x+1)^2} = \frac{1}{(x+1)^2} > 0, \forall x \in \mathbb{R} - \{-1\}$

Άρα  $f \uparrow \forall x \in \mathbb{R} - \{-1\}$  και βέβαια δεν υπάρχουν ακρότατα.

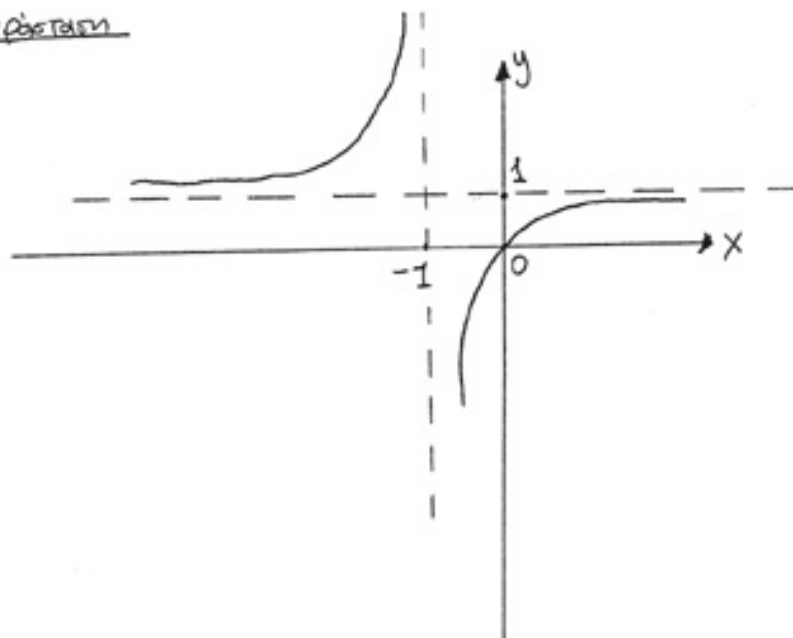
ε)  $f''(x) = \left[\frac{1}{(x+1)^2}\right]' = -\frac{2}{(x+1)^3}$

$f''(x) > 0 \Leftrightarrow x < -1 \Rightarrow f$  κυρτή στο  $(-\infty, -1)$  και  
 $f''(x) < 0 \Leftrightarrow x > -1 \Rightarrow f$  κοίλη στο  $(-1, +\infty)$

στ) ΠΙΝΑΚΑΣ

x	$-\infty$	-1	0	2	$+\infty$
$f'$	+	+	+	+	+
$f''$	+	-	-	-	-
$f$					

3. Γραφική Παράσταση



3. Να γίνει η γραφική παράσταση της  $f(x) = e^{-x^2}$   
Λύση:

- α)  $D_f = \mathbb{R}$
- β)  $f(x) \neq 0, \forall x \in \mathbb{R}$
- γ)  $f(-x) = e^{-(-x)^2} = e^{-x^2} = f(x) \rightarrow f$  άρτια
- δ) Ασύμπτωτες

$\lim_{x \rightarrow \pm\infty} f(x) = \lim_{x \rightarrow \pm\infty} e^{-x^2} = 0$  η ευθεία με εξίσωση  $y=0$  είναι οριζόντια  
 ασύμπτωτη της  $f$ .

ε)  $f'(x) = -2xe^{-x^2}$   
 $f'(x) = 0 \Leftrightarrow x=0$   
 $f'(x) > 0 \Leftrightarrow -2xe^{-x^2} > 0 \Leftrightarrow x < 0$   
 και  $f'(x) < 0 \Leftrightarrow -2xe^{-x^2} < 0 \Leftrightarrow x > 0$

Άρα  $f \uparrow$  στο  $(-\infty, 0)$  και  $f \downarrow$  στο  $(0, +\infty)$ . Επειδή δε η  $f'$  αλλάζει πρό-  
 σημο δεξιά και αριστερά του 0  $\rightarrow$   
 για  $x=0$  η  $f$  παρουσιάζει κριτότατο και μάλιστα τοπικό μέγιστο  
 $f(0) = e^0 \Rightarrow f(0) = 1$

$$\sigma\tau) f''(x) = (-2xe^{-x^2}) = 2e^{-x^2}(2x^2 - 1)$$

$$f''(x) = 0 \Leftrightarrow 2e^{-x^2}(2x^2 - 1) = 0 \Leftrightarrow x = \pm \frac{\sqrt{2}}{2}$$

$$f''(x) > 0 \Leftrightarrow x \in (-\infty, -\frac{\sqrt{2}}{2}) \cup (\frac{\sqrt{2}}{2}, +\infty)$$

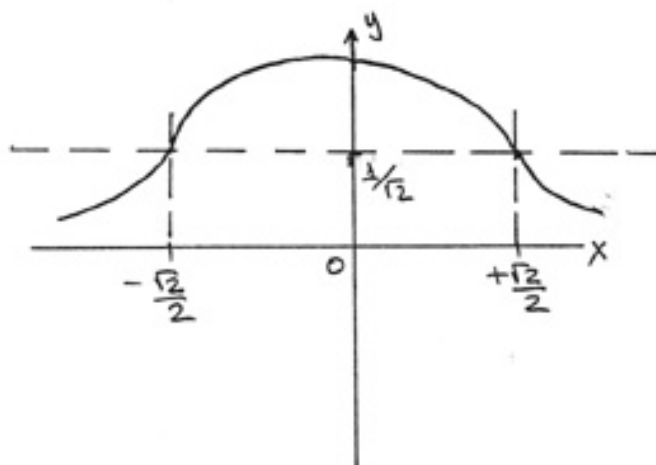
$$f''(x) < 0 \Leftrightarrow x \in (-\frac{\sqrt{2}}{2}, \frac{\sqrt{2}}{2})$$

Επειδή δε η  $f''$  αλλάζει πρόσημο δεξιά και αριστερά των  $-\frac{\sqrt{2}}{2}, \frac{\sqrt{2}}{2}$  τα σημεία  $\pm \frac{\sqrt{2}}{2}$  είναι θέσεις σημείων καμπής.

β) ΠΙΝΑΚΑΣ

x	$-\infty$	$-\frac{\sqrt{2}}{2}$	0	$+\frac{\sqrt{2}}{2}$	$+\infty$	
$f'$	+		+ 0	-	-	
$f''$	+	0	-	-	0	+
$f$	↗		↘	↙	↘	
		Σ.Κ	max	Σ.Κ		

η) ΓΡΑΦΙΚΗ ΠΑΡΑΣΤΑΣΗ



B (33)

## ΜΕΡΙΚΗ ΠΑΡΑΓΩΓΟΣ

Μέχρις εδώ ασχοληθήκαμε με συναρτήσεις μιας μόνο μεταβλητής. Όπως όμως ξέρουμε υπάρχουν συναρτήσεις δύο ή περισσότερων μεταβλητών όπως  $z = f(x, y)$  ή  $z = f(x, y, w)$

$$Z = f(x, y, w, \dots)$$

Στην περίπτωση δύο μεταβλητών θα εξετάσουμε την παράγωγο και ως δούμε ένα πολύ απλό νόμο. Το νόμο όγκου  $V$ , πίεσης  $P$  και θερμοκρασίας  $T$ , που είναι:

$$V = C \frac{T}{P} \quad (\text{όπου } C \text{ σταθερά}) \quad (\text{καταστ. εξίσωση αερίων})$$

α) Αν υποθέσουμε ότι η θερμοκρασία  $T$  μεταβάλλεται ενώ η πίεση παραμένει σταθερά τότε:

$$\frac{dV}{dT} = C \cdot \frac{1}{P}$$

β) Αν υποθέσουμε ότι η πίεση μεταβάλλεται ενώ η θερμοκρασία  $T$  παραμένει σταθερά τότε:

$$\frac{dV}{dP} = -C \frac{T}{P^2}$$

Παρατηρούμε λοιπόν ότι η ύπαρξη δύο ανεξάρτητων μεταβλητών συνεπάγεται την ύπαρξη δύο παραγώγων. Οι παράγωγοι αυτές λέγονται μερικές παράγωγοι.

Για να γίνει διακρίση μεταξύ της παράγωγου και της μερικής παράγωγου θα χρησιμοποιήσουμε αντί του συμβόλου " $d$ " το " $\partial$ ". Έτσι λοιπόν οι πιο πάνω μερικές παράγωγοι θα συμβολίζονται αντίστοιχα.

$$\frac{\partial V}{\partial T} = C \frac{1}{P}$$

$$\frac{\partial V}{\partial P} = -C \frac{T}{P^2}$$

Γενικότερα εάν  $z = f(x, y)$  όταν γράψουμε  $\frac{\partial z}{\partial x}$  θα εννοήσουμε την  $x$  σαν μεταβλητή και την  $y$  σαν σταθερά.  
Ενώ με  $\frac{\partial z}{\partial y}$  θα εννοήσουμε την  $y$  σαν μεταβλητή και την  $x$  σαν σταθερά.

### ΠΑΡΑΔΕΙΓΜΑΤΑ

1.  $z = x^2 + 2y$      $\frac{\partial z}{\partial x} = 2x$ ,     $\frac{\partial z}{\partial y} = 2$

2.  $z = 2x^3y + 5x^2y^2$      $\frac{\partial z}{\partial x} = 6x^2y + 10xy^2$      $\frac{\partial z}{\partial y} = 2x^3 + 10x^2y$

3.  $z = \eta\mu(x+y)$      $\frac{\partial z}{\partial x} = \sigma\omega(x+y)$      $\frac{\partial z}{\partial y} = \sigma\omega(x+y)$

### ΜΕΡΙΚΕΣ ΠΑΡΑΓΩΓΟΙ ΑΝΩΤΕΡΩΝ ΤΑΞΕΩΝ

Η μερική παράγωγος  $\frac{\partial z}{\partial x}$  της  $z = f(x, y)$  μπορεί με τη σειρά της να παραγυηστεί μερικά ως προς  $x$  και ως προς  $y$ , οπότε θα δώσει τις μερικές παραγώγους δεύτερης τάξης  $\frac{\partial^2 z}{\partial x^2} = f_{xx}(x, y) = \frac{\partial}{\partial x} \left( \frac{\partial z}{\partial x} \right)$  και

$\frac{\partial^2 z}{\partial y \partial x} = f_{yx}(x, y) = \frac{\partial}{\partial y} \left( \frac{\partial z}{\partial x} \right)$ . Όμοια από την  $\frac{\partial z}{\partial y}$  προκύπτουν με παρα-

γωγή οι  $\frac{\partial^2 z}{\partial x \partial y} = f_{xy}(x, y) = \frac{\partial}{\partial x} \left( \frac{\partial z}{\partial y} \right)$  και  $\frac{\partial^2 z}{\partial y^2} = f_{yy}(x, y) = \frac{\partial}{\partial y} \left( \frac{\partial z}{\partial y} \right)$ .

Αν η  $z = f(x, y)$  και οι μερικές της παράγωγοι είναι συνεχείς, η σειρά παραγώγισης μπορεί να εναλλάσσεται, δηλ.  $\frac{\partial^2 z}{\partial x \partial y} = \frac{\partial^2 z}{\partial y \partial x}$

### ΛΥΜΕΝΑ ΠΡΟΒΛΗΜΑΤΑ

1. Βρείτε τις μερικές παραγώγους.

$z = 2x^2 - 3xy + 4y^2$

Λύση:

Θεωρώντας το  $y$  σταθερό και παραγυίζοντας ως προς  $x$  βρίσκουμε

$\frac{\partial z}{\partial x} = 4x - 3y$

Θεωρώντας το  $x$  σταθερό και παραγωγίζοντας ως προς  $y$  βρίσκουμε

$$\frac{\partial z}{\partial y} = -3x + 8y$$

2.  $z = \frac{x^2}{y} + \frac{y^2}{x}$

Θεωρώντας το  $y$  σταθερό και παραγωγίζοντας ως προς  $x$  βρίσκουμε

$$\frac{\partial z}{\partial x} = \frac{2x}{y} - \frac{y^2}{x^2}$$

Θεωρώντας το  $x$  σταθερό και παραγωγίζοντας ως προς  $y$  βρίσκουμε

$$\frac{\partial z}{\partial y} = -\frac{x^2}{y^2} + \frac{2y}{x}$$

3.  $z = \sin(2x+3y)$

$$\frac{\partial z}{\partial x} = 2\cos(2x+3y) \quad , \quad \frac{\partial z}{\partial y} = 3\cos(2x+3y)$$

4.  $z = \arctan x^2 y + \arctan x y^2$

$$\frac{\partial z}{\partial x} = \frac{2xy}{1+x^4 y^2} + \frac{y^2}{1+x^2 y^4} \quad , \quad \frac{\partial z}{\partial y} = \frac{x^2}{1+x^4 y^2} + \frac{2xy}{1+x^2 y^4}$$

5.  $z = e^{x^2+xy}$

$$\frac{\partial z}{\partial x} = e^{x^2+xy}(2x+y) = z(2x+y) \quad , \quad \frac{\partial z}{\partial y} = e^{x^2+xy} \cdot (x) = z \cdot x$$

6. Το εμβαδόν ενός τριγώνου δίνεται από τον τύπο  $K = \frac{1}{2}ab\sin C$ .

Αν  $a=20$ ,  $b=30$  και  $C=30^\circ$ , υπολογίστε:

α) Το ρυθμό μεταβολής του  $K$  ως προς  $a$ , όταν τα  $b$  και  $C$  παραμένουν σταθερά

β) Το ρυθμό μεταβολής του  $K$  ως προς  $C$ , όταν τα  $b$  και  $a$  παραμένουν σταθερά.

γ) Το ρυθμό μεταβολής του  $b$  ως προς  $a$ , όταν τα  $K$  και  $C$  παραμένουν σταθερά.

ΛΥΣΗ:

α)  $\frac{\partial K}{\partial a} = \frac{1}{2}b\sin C = \frac{1}{2}(30) \cdot \sin 30^\circ = \frac{15}{2}$

$$b) \frac{\partial K}{\partial c} = \frac{1}{2} ab \cos C = \frac{1}{2} (20)(30) \cdot (\cos 30^\circ) = 150\sqrt{3}$$

$$\gamma) b = \frac{2K}{a \sin C}, \quad \frac{\partial b}{\partial a} = -\frac{2K}{a^2 \sin C} = -\frac{2(\frac{1}{2} ab \sin C)}{a^2 \sin C} = -\frac{b}{a} = -\frac{3}{2}$$

### ΑΛΥΤΑ ΠΡΟΒΛΗΜΑΤΑ

1) Για καθεμιά από τις επιπέδεις συναρτήσεις βρείτε τις  $\frac{\partial z}{\partial x}$  και  $\frac{\partial z}{\partial y}$ .

$$(\alpha) z = x^2 + 3xy + y^2 \quad (\text{ΑΠ: } \frac{\partial z}{\partial x} = 2x + 3y, \frac{\partial z}{\partial y} = 3x + 2y)$$

$$(\beta) z = \frac{x}{y^2} - \frac{y}{x^2} \quad (\text{ΑΠ: } \frac{\partial z}{\partial x} = \frac{1}{y^2} + \frac{2y}{x^3}, \frac{\partial z}{\partial y} = -\frac{2x}{y^3} - \frac{1}{x^2})$$

$$(\gamma) z = \sin 3x \cos 4y \quad (\text{ΑΠ: } \frac{\partial z}{\partial x} = 3 \cos 3x \cos 4y, \frac{\partial z}{\partial y} = -4 \sin 3x \sin 4y)$$

$$(\delta) z = \arctan \frac{y}{x} \quad (\text{ΑΠ: } \frac{\partial z}{\partial x} = -\frac{y}{x^2 + y^2}, \frac{\partial z}{\partial y} = \frac{x}{x^2 + y^2})$$

$$(\epsilon) x^2 - 4y^2 + 9z^2 = 36 \quad (\text{ΑΠ: } \frac{\partial z}{\partial x} = -\frac{x}{9z}, \frac{\partial z}{\partial y} = \frac{4y}{9z})$$

$$(\zeta) z^3 - 3x^2y + 6xy^2 = 0 \quad (\text{ΑΠ: } \frac{\partial z}{\partial x} = \frac{2y(x-z)}{z^2 + 2xy}, \frac{\partial z}{\partial y} = \frac{x(x-2z)}{z^2 + 2xy})$$

$$(\eta) yz + xz + xy = 0 \quad (\text{ΑΠ: } \frac{\partial z}{\partial x} = -\frac{y+z}{x+y}, \frac{\partial z}{\partial y} = -\frac{x+z}{x+y})$$

2) Για καθεμιά από τις επιπέδεις συναρτήσεις βρείτε τις  $\frac{\partial^2 z}{\partial x^2}$ ,  $\frac{\partial^2 z}{\partial x \partial y}$ ,  $\frac{\partial^2 z}{\partial y \partial x}$ ,  $\frac{\partial^2 z}{\partial y^2}$

$$(\alpha) z = 2x^2 - 5xy + y^2 \quad (\text{ΑΠ: } \frac{\partial^2 z}{\partial x^2} = 4, \frac{\partial^2 z}{\partial x \partial y} = \frac{\partial^2 z}{\partial y \partial x} = -5, \frac{\partial^2 z}{\partial y^2} = 2)$$

$$(\beta) z = \frac{x}{y^2} - \frac{y}{x^2} \quad (\text{ΑΠ: } \frac{\partial^2 z}{\partial x^2} = -\frac{6y}{x^4}, \frac{\partial^2 z}{\partial x \partial y} = \frac{\partial^2 z}{\partial y \partial x} = 2\left(\frac{1}{x^2} - \frac{1}{y^2}\right), \frac{\partial^2 z}{\partial y^2} = \frac{6x}{y^4})$$

$$(\gamma) z = \sin 3x \cos 4y \quad (\text{ΑΠ: } \frac{\partial^2 z}{\partial x^2} = -9z, \frac{\partial^2 z}{\partial x \partial y} = \frac{\partial^2 z}{\partial y \partial x} = -12 \cos 3x \sin 4y, \frac{\partial^2 z}{\partial y^2} = -16z)$$

$$(\delta) z = \arctan \frac{y}{x} \quad \left( \text{Απ: } \frac{\partial z}{\partial x} = -\frac{\partial z}{\partial y} = \frac{2xy}{(x^2+y^2)^2}, \frac{\partial^2 z}{\partial x \partial y} = \frac{\partial^2 z}{\partial y \partial x} = \frac{y^2-x^2}{(x^2+y^2)^2} \right)$$

### - ΟΛΙΚΑ ΔΙΑΦΟΡΙΚΑ -

Ολικά Διαφορικά. Τα διαφορικά  $dx$  και  $dy$  μιας συνάρτησης  $y=f(x)$  μιας μόνο ανεξάρτητης μεταβλητής οριστικών με τις σχέσεις

$$dx = Dx, \quad dy = f'(x)dx = \frac{dy}{dx} dx$$

Θεωρούμε τη συνάρτηση  $z=f(x,y)$  των δύο ανεξάρτητων μεταβλητών  $x$  και  $y$  και ορίσουμε  $dx=Dx$  και  $dy=Dy$ . Όταν το  $x$  μεταβάλλεται, ενώ το  $y$  διατηρείται σταθερό, το  $z$  είναι συνάρτηση μόνο του  $x$  και το μερικό διαφορικό του  $z$  ως προς  $x$  ορίζεται από την σχέση  $dxz = f_x(x,y)dx = \frac{\partial z}{\partial x} dx$ . Ομοίως, το μερικό διαφορικό του  $z$  ως προς  $y$  ορίζεται από τη σχέση  $dyz = f_y(x,y)dy = \frac{\partial z}{\partial y} dy$ . Το ολικό διαφορικό  $dz$  ορίζεται ως το άθροισμα των μερικών διαφορικών, δηλαδή:

$$dz = \frac{\partial z}{\partial x} dx + \frac{\partial z}{\partial y} dy \quad (1)$$

Για μια συνάρτηση  $w=F(x,y,z,\dots,t)$  περισσότερων ανεξάρτητων μεταβλητών το ολικό διαφορικό είναι:

$$dw = \frac{\partial w}{\partial x} dx + \frac{\partial w}{\partial y} dy + \frac{\partial w}{\partial z} dz + \dots + \frac{\partial w}{\partial t} dt \quad (2)$$

Όπως και στην περίπτωση συνάρτησης μιας μόνο ανεξάρτητης μεταβλητής, το ολικό διαφορικό μιας συνάρτησης περισσότερων ανεξάρτητων μεταβλητών δίνει μια καλή προσέγγιση της ολικής αύξησης της συνάρτησης, όταν οι αυξήσεις των διάφορων ανεξάρτητων μεταβλητών είναι μικρές.

$\frac{\partial}{\partial y}$	$x \cdot Dy$	$Dx \cdot Dy$
$y$	$x \cdot y$	$y \cdot Dx$
	$x$	$Dx$

B(38)



## ΠΑΡΑΔΕΙΓΜΑ

Για τη συνάρτηση  $z = x \cdot y$  έχουμε  $dz = \frac{\partial z}{\partial x} dx + \frac{\partial z}{\partial y} dy = y \cdot dx + x \cdot dy$ .

Όταν τα  $x$  και  $y$  αυξάνουν κατά  $Dx = dx$  και  $Dy = dy$ , η αύξηση στη  $Dz$  του  $z$  είναι:

$$\begin{aligned} Dz &= (x+Dx) \cdot (y+Dy) - xy \\ &= xDy + yDx + Dx \cdot Dy \\ &= xdy + ydx + dx \cdot dy \end{aligned}$$

Μια γεωμετρική ερμηνεία δίδεται στη σελίδα 9 των φυλλαδίων. Βλέπουμε ότι τα  $dz$  και  $Dz$  διαφέρουν κατά το ορθογώνιο εμβαδόν  $Dx \cdot Dy = dx \cdot dy$ .

### - ΛΥΜΕΝΑ ΠΡΟΒΛΗΜΑΤΑ -

1) Βρείτε των  $dz/dt$ , αν  $z = \ln(x^2 + y^2)$  και  $x = e^{-t}$ ,  $y = e^t$ .

Λύση:

Έχουμε  $\frac{\partial z}{\partial x} = \frac{2x}{x^2 + y^2}$ ,  $\frac{\partial z}{\partial y} = \frac{2y}{x^2 + y^2}$ ,  $\frac{dx}{dt} = -e^{-t}$ ,  $\frac{dy}{dt} = e^t$

Συνεπώς  $\frac{dz}{dt} = \frac{\partial z}{\partial x} \frac{dx}{dt} + \frac{\partial z}{\partial y} \frac{dy}{dt} = \frac{2x}{x^2 + y^2} (-e^{-t}) + \frac{2y}{x^2 + y^2} (e^t) = \frac{2 \cdot ye^t - xe^{-t}}{x^2 + y^2}$

2) Έστω  $z = f(x, y)$  μια συνεχής συνάρτηση των  $x$  και  $y$  με συνεχείς μερικές παραγώγους  $\partial z / \partial x$  και  $\partial z / \partial y$  και έστω  $y$  μια παραγωγίσιμη συνάρτηση του  $x$ . Τότε το  $z$  είναι μια παραγωγίσιμη συνάρτηση του  $x$  και από την (2) έχουμε:

$$\frac{dz}{dx} = \frac{\partial f}{\partial x} \cdot \frac{dx}{dx} + \frac{\partial f}{\partial y} \cdot \frac{dy}{dx} = \frac{\partial f}{\partial x} + \frac{\partial f}{\partial y} \cdot \frac{dy}{dx}$$

Η αλλαγή στο συμπολιστικό από το  $z$  στο  $f$  έγινε για να μην υπάρξει σύγχυση από τη χρήση των  $dz/dx$  και  $\partial z / \partial x$  στην ίδια έκφραση.

3) Βρείτε των  $dz/dx$ , αν  $z = f(x, y) = x^2 + 2xy + 4y^2$ ,  $y = e^{ax}$   
 $\frac{dz}{dx} = \frac{\partial f}{\partial x} + \frac{\partial f}{\partial y} \cdot \frac{dy}{dx} = (2x + 2y) + (2x + 8y)ae^{ax} = 2(x + y) + 2a(x + 4y)e^{ax}$

4) Βρείτε α) των  $dz/dx$  και β) των  $dz/dy$ , αν  $z = f(x, y) = xy^2 + x^2y$ ,  $y = \ln x$

α) Η  $x$  είναι ανεξάρτητη μεταβλητή.

$$\frac{dz}{dx} = \frac{\partial f}{\partial x} + \frac{\partial f}{\partial y} \cdot \frac{dy}{dx} = (y^2 + 2xy) + (2xy + x^2) \left(\frac{1}{x}\right) = y^2 + 2xy + 2y + x$$

β) Η  $y$  είναι ανεξάρτητη μεταβλητή

$$\frac{dz}{dy} = \frac{\partial f}{\partial x} \frac{dx}{dy} + \frac{\partial f}{\partial y} = (y^2 + 2xy)x + (2xy + x^2) = xy^2 + 2x^2y + 2xy + x^2$$

5) Το ύψος ενός ορθού κυκλικού κώνου είναι 15cm και αυξάνεται κατά 0,2cm/min. Η ακτίνα της βάσης είναι 10cm και μειώνεται κατά 0,3cm/min. Πόσο γρήγορα μεταβάλλεται ο όγκος;

ΛΥΣΗ:

Έστω  $x$  = ακτίνα και  $y$  = ύψος του κώνου. Από την έκφραση του όγκου  $V = \frac{1}{3} \pi x^2 y$ , όπου τα  $x$  και  $y$  θεωρούνται συναρτήσεις του  $t$ , έχουμε

$$\frac{dV}{dt} = \frac{\partial V}{\partial x} \cdot \frac{dx}{dt} + \frac{\partial V}{\partial y} \frac{dy}{dt} = \frac{1}{3} \pi \left( 2xy \frac{dx}{dt} + x^2 \frac{dy}{dt} \right) = \frac{1}{3} \pi \left[ 2 \cdot 10 \cdot 15 \cdot (-0,3) + 10^2 \cdot (0,2) \right] = -70 \pi / 3 \text{ cm}^3/\text{min}$$

6) Υπολογίστε κατά προσέγγιση τη μεταβολή της υποτεινούς ενός ορθογώνιου τριγώνου με κάθετες πλευρές 6cm και 8cm, όταν η μικρότερη πλευρά μεγαλώσει  $\frac{1}{4}$  cm και η μεγαλύτερη πλευρά μικρύνει  $\frac{1}{8}$  cm.

ΛΥΣΗ:

Έστω  $x, y, z$  η μικρότερη πλευρά, η μεγαλύτερη πλευρά και η υποτεινός του τριγώνου αντίστοιχα.

Έχουμε:

$$z = \sqrt{x^2 + y^2}, \quad \frac{\partial z}{\partial x} = \frac{x}{\sqrt{x^2 + y^2}}, \quad \frac{\partial z}{\partial y} = \frac{y}{\sqrt{x^2 + y^2}}, \quad dz = \frac{\partial z}{\partial x} dx + \frac{\partial z}{\partial y} dy = \frac{x dx + y dy}{\sqrt{x^2 + y^2}}$$

$$\text{Όταν } x=6, y=8, dx=\frac{1}{4} \text{ και } dy=-\frac{1}{8} \text{ τότε } dz = \frac{6 \cdot (\frac{1}{4}) + 8 \cdot (-\frac{1}{8})}{\sqrt{6^2 + 8^2}} =$$

$$= 1/20 \text{ cm. Συνεπώς η υποτεινός μεγαλώνει κατά } \frac{1}{20} \text{ cm περίπου.}$$

B (40)

Γ) Η ισχύς που καταναλώνεται για ηλεκτρική αντίσταση δίνεται από τον τύπο  $P = E^2/R$  σε W. Αν  $E = 200V$  και  $R = 8\Omega$ , πόσο μεταβάλλεται η ισχύς, αν η  $E$  μειωθεί κατά  $5V$  και η  $R$  κατά  $0,2\Omega$ ;

ΛΥΣΗ:  
Είναι  $\frac{\partial P}{\partial E} = \frac{2E}{R}$ ,  $\frac{\partial P}{\partial R} = -\frac{E^2}{R^2}$ ,  $dP = \frac{2E}{R}dE - \frac{E^2}{R^2}dR$

Όταν  $E = 200$ ,  $R = 8$ ,  $dE = -5$  και  $dR = -0,2$  τότε:  
 $dP = \frac{2 \cdot 200}{8} \cdot (-5) - \left(\frac{200}{8}\right)^2 (-0,2) = -250 + 125 = -125$

Η ισχύς μειώνεται κατά  $125W$  περίπου.

8) Βρείτε την  $dz/dt$ , αν  $z = x^2 + 3xy + 5y^2$  και  $x = \sin t$  και  $y = \cos t$

ΛΥΣΗ:  
Έχουμε  $\frac{\partial z}{\partial x} = 2x + 3y$ ,  $\frac{\partial z}{\partial y} = 3x + 10y$ ,  $\frac{dx}{dt} = \cos t$ ,  $\frac{dy}{dt} = -\sin t$

Επομένως  $\frac{dz}{dt} = \frac{\partial z}{\partial x} \frac{dx}{dt} + \frac{\partial z}{\partial y} \frac{dy}{dt} = (2x + 3y)\cos t - (3x + 10y)\sin t$

- ΑΛΥΤΑ ΠΡΟΒΛΗΜΑΤΑ -

1) Βρείτε το ολικό διαφορικό καθένας από τις εσθλές συναρτήσεις

α)  $z = x^2y + 2xy^3$  (ΑΠ:  $dz = (3x^2 + 2y^2)ydx + (x^2 + 6y^2)xdy$ )

β)  $\theta = \arctan y/x$  (ΑΠ:  $d\theta = \frac{xdy - ydx}{x^2 + y^2}$ )

γ)  $z = e^{x^2 - y^2}$  (ΑΠ:  $dz = 2z(xdx - ydy)$ )

δ)  $z = x(x^2 + y^2)^{-1/2}$  (ΑΠ:  $dz = \frac{y(ydx - xdy)}{(x^2 + y^2)^{3/2}}$ )

2) Η θεμελιώδης συχνότητα ταλάντωσης μιας χορδής κυκλικής διατομής κάτω από τάση  $T$  είναι  $\eta = \frac{1}{2\ell} \sqrt{\frac{T}{\rho}}$ , όπου  $\ell$  το μήκος της χορδής,  $\rho$  η ακτίνα της διατομής της  $2\pi\ell$  και  $d$  η πυκνότητα του υλικού της χορδής. Βρείτε κατά προσέγγιση α) το αποτέλεσμα της μεταβολής του  $\ell$  κατά μικρό ποσό  $d\ell$ , β) το αποτέλεσμα της μεταβολής της  $T$  κατά ένα μικρό ποσό  $dT$  και γ) το αποτέλεσμα της σύγχρονης μεταβολής των  $\ell$  και  $T$ .

(ΑΠ: α)  $-\frac{\eta}{\ell}d\ell$ , β)  $\frac{\eta}{2T}dT$ , γ)  $\eta \left(-\frac{d\ell}{\ell} + \frac{dT}{2T}\right)$

- 3) Βρείτε την  $du/dt$  στις παρακάτω περιπτώσεις:
- α)  $u = x^2 y^3$ ,  $x = 2t^3$ ,  $y = 3t^2$  (ΑΠ:  $6xy^2t(2yt+3t)$ )
- β)  $u = x \cos y + y \sin x$ ,  $x = \sin 2t$ ,  $y = \cos 2t$   
 (ΑΠ:  $2(\cos y + y \cos x) \cos 2t - 2(-x \sin y + \sin x) \sin 2t$ )
- γ)  $u = xy + yz + zx$ ,  $x = e^t$ ,  $y = e^{-t}$ ,  $z = e^t + e^{-t}$   
 (ΑΠ:  $(x+2y+z)e^t - (2x+y+z)e^{-t}$ )

4) Μια ορισμένη συχμή η ακτίνα ενός φθού κυκλικού κυλίνδρου είναι 6cm και αυξάνεται με ρυθμό 0,2cm/s, ενώ το ύψος του είναι 8cm και μειώνεται με ρυθμό 0,4cm/s. Βρείτε το ρυθμό μεταβολής α) του όγκου και β) της ολικής επιφάνειας του χρονική συχμή αυτή.  
 (ΑΠ: α)  $4,8\pi \text{ cm}^3/\text{s}$ , β)  $3,2\pi \text{ cm}^2/\text{s}$ )

5) Ένα σωματίδιο κινείται σε ένα επίπεδο έτσι ώστε οι συντεταγμένες του να δίνονται από τις εξισώσεις  $x = 2+3t$ ,  $y = t^2+4$ , όπου τα  $x$  και  $y$  είναι σε μέτρα και το  $t$  σε πρώτα λεπτά. Με τι ταχύτητα απομακρύνεται το σωματίδιο από την αρχή των αξόνων, όταν  $t=1$ ;  
 (ΑΠ:  $\frac{5}{\sqrt{2}} \text{ m/min}$ )  
 $Z = \sqrt{x^2+y^2}$

— ΟΛΙΚΗ ΠΑΡΑΓΩΓΟΣ —

Έστω  $x = x(t)$ ,  $y = y(t)$  τότε από τον τύπο της ολικής διαφορικής θα έχουμε:

$$\frac{dz}{dt} = \frac{\partial z}{\partial x} \cdot \frac{dx}{dt} + \frac{\partial z}{\partial y} \cdot \frac{dy}{dt}$$

Η περίπτωση αυτή ονομάζεται ολική παράγωγος της  $z$ , ως προς  $x$  και  $y$ , που και αυτές εξαρτώνται από την  $t$ .

Γενικότερα αν  $u = f(x, y, z, \dots)$  τότε

$$\frac{du}{dt} = \frac{\partial u}{\partial x} \cdot \frac{dx}{dt} + \frac{\partial u}{\partial y} \cdot \frac{dy}{dt} + \frac{\partial u}{\partial z} \cdot \frac{dz}{dt} + \dots$$

### - ΠΑΡΑΓΩΓΙΣΗ ΠΕΠΛΗΓΜΕΝΩΝ ΣΥΝΑΡΤΗΣΕΩΝ -

Οι μερικές παραγώγοι μας δίνουν το πρόβλημα της εύρους παραγώγου μιας πεπληγμένης συνάρτησης.

Έστω αν  $z = f(x, y) = \text{σταθερά}$ . Τότε τα διαφορικά της είναι ίσως  
Επίσης ο τύπος  $dz = \frac{\partial z}{\partial x} dx + \frac{\partial z}{\partial y} dy = 0$

$$\text{δίνεται } \frac{dy}{dx} = - \frac{\frac{\partial z}{\partial x}}{\frac{\partial z}{\partial y}}, \quad \frac{\partial z}{\partial y} \neq 0$$

### ΠΑΡΑΔΕΙΓΜΑΤΑ

1. Αν  $z = \sqrt{x^2 + y^2}$ . Να βρείτε το  $dz$  αν  $x = 15$ ,  $y = 20$ ,  $dx = \frac{5}{8}$ ,  
 $dy = -\frac{5}{16}$ .

Έχουμε:

$$\frac{\partial z}{\partial x} = \frac{x}{\sqrt{x^2 + y^2}} \quad \frac{\partial z}{\partial y} = \frac{y}{\sqrt{x^2 + y^2}}$$

$$\text{Άρα } dz = \frac{\partial z}{\partial x} dx + \frac{\partial z}{\partial y} dy = \frac{\frac{5}{8}x - \frac{5}{16}y}{\sqrt{x^2 + y^2}}$$

και μετά των αντικαθιστάμε.

$$dz = \frac{15 \cdot \frac{5}{8} + 20 \left(-\frac{5}{16}\right)}{\sqrt{15^2 + 20^2}} = \frac{1}{8}$$

2. Αν  $P = \frac{E^2}{R}$ . Να βρείτε το  $dP$ .

$$\text{Έχουμε: } \frac{\partial P}{\partial E} = \frac{2E}{R}, \quad \frac{\partial P}{\partial R} = -\frac{E^2}{R^2}$$

$$\text{άρα } dP = \frac{2E}{R} dE - \frac{E^2}{R^2} dR$$

3. Αν  $z = 2x^3 - xy^3 + y^2 = 0$  βρείτε την  $\frac{dy}{dx}$ .

$$\text{Έχουμε } \frac{\partial z}{\partial x} = 6x^2 - y^3, \quad \frac{\partial z}{\partial y} = 3xy^2 + 2y$$

$$\frac{dy}{dx} = - \frac{6x^2 - y^3}{3xy^2 + 2y}$$

4) Να βρείτε τα συντελεστή διευθέσεως της εφαπτομένης της καμπύλης  $z = x^2 + xy + y^2 + 4 = 0$  στο σημείο  $(2, -2)$

ΛΥΣΗ:  
Έχουμε,  $\frac{\partial z}{\partial x} = 2x + y$ ,  $\frac{\partial z}{\partial y} = x + 2y$

$$\text{Άρα } \frac{dy}{dx} = - \frac{\frac{\partial z}{\partial x}}{\frac{\partial z}{\partial y}} = - \frac{2x + y}{x + 2y} \text{ ομοίως}$$

$$\text{Εφω } \frac{dy}{dx} \text{ στο σημείο } (2, -2), \frac{dy}{dx} = 1 \Rightarrow$$

$$\text{Εφω} = 1 \Leftrightarrow \omega = \frac{\pi}{4}$$

5) Βρείτε το  $\frac{dz}{dt}$  εάν  $z = x^2 + 3xy + 5y^2$  και  $x = \eta \eta t$ ,  $y = \sigma \omega t$

Έχουμε  $\frac{\partial z}{\partial x} = 2x + 3y$ ,  $\frac{\partial z}{\partial y} = 3x + 10y$

$$\frac{dx}{dt} = \sigma \omega t \quad \frac{dy}{dt} = -\eta \eta t$$

$$\text{Άρα } \frac{dz}{dt} = \frac{\partial z}{\partial x} \cdot \frac{dx}{dt} + \frac{\partial z}{\partial y} \cdot \frac{dy}{dt} = (2x + 3y)\sigma \omega t - (3x + 10y)\eta \eta t$$

6) Εάν  $z = \ln(x^2 + y^2)$ ,  $x = e^{-t}$ ,  $y = e^t$ . Βρείτε το  $\frac{dz}{dt}$ .

Έχουμε  $\frac{\partial z}{\partial x} = \frac{2x}{x^2 + y^2}$ ,  $\frac{\partial z}{\partial y} = \frac{2y}{x^2 + y^2}$

$$\frac{dx}{dt} = -e^{-t} \quad \frac{dy}{dt} = e^t$$

$$\text{Άρα } \frac{dz}{dt} = \frac{\partial z}{\partial x} \cdot \frac{dx}{dt} + \frac{\partial z}{\partial y} \cdot \frac{dy}{dt} = 2 \cdot \frac{y e^t - x e^{-t}}{x^2 + y^2}$$