


ΑΕΝ ΜΑΚΕΔΟΝΙΑΣ - ΣΧΟΛΗ ΜΗΧΑΝΙΚΩΝ

ΜΗΧΑΝΟΛΟΓΙΚΟ ΣΧΕΔΙΟ - Εξάμηνο Γ' - ΕΞΕΤΑΣΕΙΣ ΦΕΒΡΟΥΑΡΙΟΥ 2020

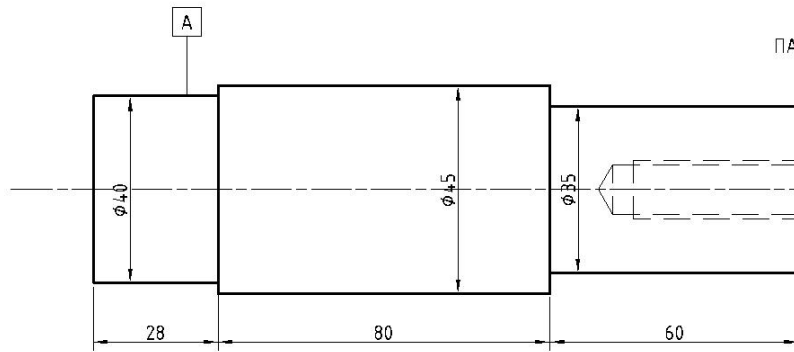
Όνοματεπώνυμο: Α.Γ.Μ. :

Τμήμα: Καθηγητές ΤΖΩΤΖΗΣ Α., ΤΣΙΠΟΥΡΑΣ Α. Ημερομηνία: / /20

ΕΔΡΑΝΟ ΚΥΛΙΣΕΩΣ (ΣΕΙΡΑ 60)




ΑΣΦΑΛΕΙΑ DIN 471



ΠΑΡΑΚΥΚΛΟΣ (ΡΟΔΕΛΑ)

ΚΟΧΛΙΑΣ ΜΕ ΕΞΑΓΩΝΙΚΗ ΚΕΦΑΛΗ



ΔΙΔΕΤΑΙ:

Η σχηματική παράσταση μιας ατράκτου με έναν μονόσφαιρο τριβέα (ρουλεμάν) της σειράς 60 με ασφαλιστικό δακτύλιο αξόνων κατά DIN 471 στη θέση A και ένα κοχλία M20, φυτευτό, με σπείρωμα έως την κεφαλή, από χυτοσίδηρο.

ΖΗΤΕΙΤΑΙ:

Να σχεδιάσετε σε κόλλα A3 υπό κλίμακα 1:1 την συναρμολογημένη διάταξη σε τομή (Πρόοψη) και να κάνετε κατάλογο τεμαχίων.

ΠΑΡΑΤΗΡΗΣΕΙΣ:

Επιτρέπεται να έχετε μόνο το βιβλίο «Μηχανολογικό Σχέδιο» του Βούλγαρη. Για πρόχειρο θα έχετε τα θέματα, τα οποία θα παραδώσετε μαζί με την A3 κόλλα.

Καλή επιτυχία!