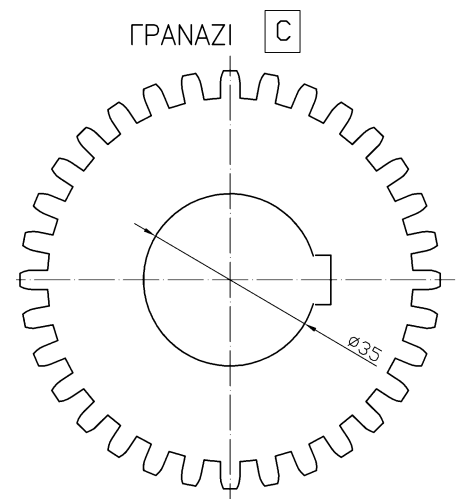

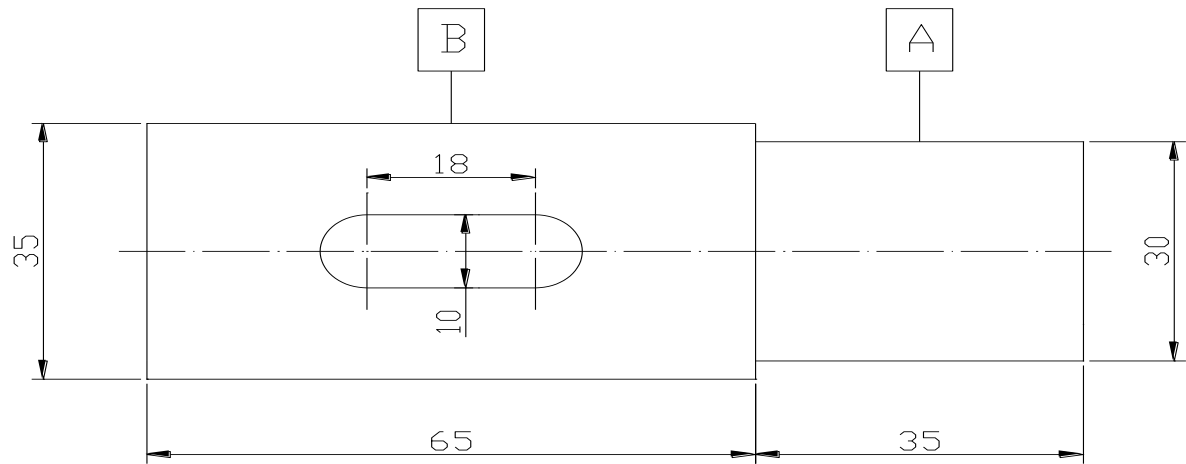


ΑΕΝ ΜΑΚΕΔΟΝΙΑΣ – ΣΧΟΛΗ ΜΗΧΑΝΙΚΩΝ

ΜΗΧΑΝΟΛΟΓΙΚΟ ΣΧΕΔΙΟ Εξάμηνο Γ - ΕΞΕΤΑΣΤΙΚΗ ΠΕΡΙΟΔΟΣ ΣΕΠΤΕΜΒΡΙΟΣ 2020

Όνοματεπώνυμο: Α.Γ.Μ. :

Τμήμα: Καθηγητής: Ημερομηνία: 25/09/2020



ΔΙΝΕΤΑΙ:

Η σχηματική παράσταση μιας ατράκτου με:

- ▶ Ρουλμάν της σειράς 60 στη θέση A (ασφαλίζεται από δεξιά με ασφαλιστικό δακτύλιο αξόνων κατά DIN 471).
- ▶ Γρανάζι στη θέση B (στο κέντρο), με αρχική διάμετρο 80mm, modul 2,5mm και ενιαίο πάχος 30mm.

ΖΗΤΕΙΤΑΙ:

Να σχεδιάσετε την πρόοψη σε τομή σε κλίμακα 1:1, και να κάνετε κατάλογο τεμαχίων.

ΠΑΡΑΤΗΡΗΣΕΙΣ:

Επιτρέπεται να έχετε μόνο το βιβλίο «Μηχανολογικό Σχέδιο» του Βούλγαρη. Για πρόχειρο θα έχετε τα θέματα, τα οποία θα παραδώσετε μαζί με την Α3 κόλλα.

Καλή επιτυχία