

🏠 Χαρτοφυλάκιο / ΕΞΕΤΑΣΕΙΣ ΦΕΒΡΟΥΑΡΙΟΥ 2021 / Ασκήσεις / Διαχείριση Άσκησης

## ΕΞΕΤΑΣΕΙΣ ΦΕΒΡΟΥΑΡΙΟΥ 2021

Ασκήσεις

Διαχείριση Άσκησης



### ΝΑΥΤΙΚΗ ΤΕΧΝΗ ΦΑΝΟΙ ΚΑΙ ΣΧΗΜΑΤΑ Α ΕΞΑΜΗΝΟΥ

ΑΕΝ ΜΑΚΕΔΟΝΙΑΣ

ΣΧΟΛΗ ΠΛΟΙΑΡΧΩΝ

ΝΕΑ ΜΗΧΑΝΙΩΝΑ

26/2/2021

ΕΞΕΤΑΣΤΙΚΗ ΠΕΡΙΟΔΟΣ ΦΕΒΡΟΥΑΡΙΟΥ

**ΝΑΥΤΙΚΗ ΤΕΧΝΗ ΦΑΝΟΙ ΚΑΙ ΣΧΗΜΑΤΑ, Α ΕΞΑΜΗΝΟΥ**

**ΕΙΣ/ΤΕΣ : ΔΕΛΗ ΝΙΚΗ - ΚΟΥΡΟΥΠΗΣ ΠΑΝΑΓΙΩΤΗΣ.**

▼ Ρυθμίσεις


































Ανακάτεμα όλων των ερωτήσεων






























Επιλογή τυχαίων ερωτήσεων από τις ερωτήσεις της άσκησης

ερωτήσεις






Υποβολή

Ερωτήσεις της άσκησης		⚙️
1.	Μάσκα ή παρειά του πλοίου ονομάζουμε : Πολλαπλής Επιλογής (Μοναδική Απάντηση)	⬆️ ⚙️
2.	Τι ονομάζουμε διαγωγή Πολλαπλής Επιλογής (Μοναδική Απάντηση)	⬆️ ⚙️

<b>Ερωτήσεις της άσκησης</b>		
3.	Τι ονομάζουμε ύφαλα Πολλαπλής Επιλογής (Μοναδική Απάντηση)	 
4.	Τι ονομάζουμε σιμότητα Πολλαπλής Επιλογής (Μοναδική Απάντηση)	 
5.	Να αναγνωρίσετε και να επιλέξετε την κατηγορία του πλοίου σύμφωνα με την εικόνα που βλέπετε Πολλαπλής Επιλογής (Μοναδική Απάντηση)	 
6.	Τι ονομάζουμε δεξαμενή πλοίου Πολλαπλής Επιλογής (Μοναδική Απάντηση)	 
7.	Τι ονομάζουμε δέστρα ή μπιντα Πολλαπλής Επιλογής (Μοναδική Απάντηση)	 
8.	Το όκιο ή στορέας είναι Πολλαπλής Επιλογής (Μοναδική Απάντηση)	 
9.	Πια από τα παρακάτω αποτελούν εξοπλισμό αγκυροβολίας Πολλαπλής Επιλογής (Μοναδική Απάντηση)	 
10.	Τι ονομάζουμε διπύθμενο Πολλαπλής Επιλογής (Μοναδική Απάντηση)	 
11.	Ποιά από τα παρακάτω ανήκουν στους διαφόρους τύπους μεταλλικών καλυμμάτων στομίων κυτών Πολλαπλής Επιλογής (Μοναδική Απάντηση)	 
12.	Ποιο από τα παρακάτω ισχύει εν ώρα εργασίας στο κατάστρωμα Πολλαπλής Επιλογής (Μοναδική Απάντηση)	 
13.	Ποιο από τα παρακάτω είναι λάθος Πολλαπλής Επιλογής (Μοναδική Απάντηση)	 
14.	Αυτός είναι ο σωστός τρόπος απομακρύνσεως συστροφής συρματοσχοινου σύμφωνα με την παρακάτω εικόνα: Πολλαπλής Επιλογής (Μοναδική Απάντηση)	 
15.	Αυτός είναι ο σωστός τρόπος μετρήσεως της διαμέτρου ενός σχοινιού σύμφωνα με την παρακάτω εικόνα: Σωστό / Λάθος	 
16.	Ασφαλές φορτίο εργασίας είναι Πολλαπλής Επιλογής (Μοναδική Απάντηση)	 
17.	Επιλέξτε το σωστό: Πολλαπλής Επιλογής (Μοναδική Απάντηση)	 

<b>Ερωτήσεις της άσκησης</b>		
18.	Οι περίβλεπτοι(360 °) φανοί για πλοία μήκους > 50m έχουν ορατότητα: Πολλαπλής Επιλογής (Μοναδική Απάντηση)	 
19.	“Ενόψει αλλήλων” για το δικό μας πλοίο θεωρείται: Πολλαπλής Επιλογής (Μοναδική Απάντηση)	 
20.	Ακυβέρνητο πλοίο θεωρείται Πολλαπλής Επιλογής (Μοναδική Απάντηση)	 
21.	Μηχανοκίνητο πλοίο εν πλώ < 50 μ. φέρει Πολλαπλής Επιλογής (Μοναδική Απάντηση)	 
22.	Πιο από τα παρακάτω είναι σωστό Πολλαπλής Επιλογής (Μοναδική Απάντηση)	 
23.	Περίβλεπτος φανός είναι; Πολλαπλής Επιλογής (Μοναδική Απάντηση)	 
24.	Επιλέξτε το σωστό Πολλαπλής Επιλογής (Μοναδική Απάντηση)	 
25.	Το σήμα ημέρας που φέρει ένα ιστιοφόρο χρησιμοποιώντας ταυτόχρονα τις μηχανές του είναι: Πολλαπλής Επιλογής (Μοναδική Απάντηση)	 
26.	Φανοί ρυμουλκού < 50μ που πραγματοποιεί ρυμούλκηση κατά παραγωγή επιδεικνύει: Πολλαπλής Επιλογής (Μοναδική Απάντηση)	 
27.	Πλοίο ακυβέρνητο την ημέρα φέρει Πολλαπλής Επιλογής (Μοναδική Απάντηση)	 
28.	Όταν προτίθεται να προσπεράσω πλοίο από την αριστερή του πλευρά τότε το ηχητικό σήμα είναι Πολλαπλής Επιλογής (Μοναδική Απάντηση)	 
29.	Να αναγνωρίσετε και να επιλέξετε το σωστό σύμφωνα με την εικόνα που βλέπετε Πολλαπλής Επιλογής (Μοναδική Απάντηση)	 
30.	Να αναγνωρίσετε και να επιλέξετε την κατηγορία του πλοίου σύμφωνα με την εικόνα που βλέπετε Πολλαπλής Επιλογής (Μοναδική Απάντηση)	 
31.	Πλοηγίδα σε υπηρεσία την νύχτα εν πλω φέρει Πολλαπλής Επιλογής (Μοναδική Απάντηση)	 



<b>Ερωτήσεις της άσκησης</b>		
32.	Μηχανοκίνητο πλοίο κινούμενο στο νερό σε περιορισμένη ορατότητα εκπέμπει ανά 2 λεπτά συριγμό: Πολλαπλής Επιλογής (Μοναδική Απάντηση)	 
33.	. Να αναγνωρίσετε και να επιλέξετε την κατηγορία του πλοίου σύμφωνα με την εικόνα που βλέπετε Πολλαπλής Επιλογής (Μοναδική Απάντηση)	 
34.	ΟΝΟΜΑΤΕΠΩΝΥΜΟ: ΑΓΜ: Ελεύθερου Κειμένου	