


🏠 Χαρτοφυλάκιο / ΕΞΕΤΑΣΕΙΣ ΦΕΒΡΟΥΑΡΙΟΥ 2021 / Ασκήσεις / Διαχείριση Άσκησης

## ΕΞΕΤΑΣΕΙΣ ΦΕΒΡΟΥΑΡΙΟΥ 2021

Ασκήσεις

Διαχείριση Άσκησης



### ΝΑΥΤΙΚΗ ΤΕΧΝΗ Β ΕΞΑΜΗΝΟΥ

ΑΕΝ ΜΑΚΕΔΟΝΙΑΣ

Ν.ΜΗΧΑΝΙΩΝΑ

ΣΧΟΛΗ ΠΛΟΙΑΡΧΩΝ

17 ΦΕΒΡΟΥΑΡΙΟΥ 2021

ΕΞΕΤΑΣΤΙΚΗ ΠΕΡΙΟΔΟΣ ΦΕΒΡΟΥΑΡΙΟΥ 2021

ΝΑΥΤΙΚΗ ΤΕΧΝΗ Β'ΕΞΑΜΗΝΟΥ

(ΜΕΤΑΦΟΡΕΙΣ)

ΕΙΣΗΓΗΤΗΣ : ΠΑΝΑΓΙΩΤΗΣ ΚΟΥΡΟΥΠΗΣ

▼ Ρυθμίσεις


































Ανακάτεμα όλων των ερωτήσεων

Επιλογή τυχαίων ερωτήσεων από τις ερωτήσεις της άσκησης








ερωτήσεις

Υποβολή

Ερωτήσεις της άσκησης		⚙️
1.	Κατασκευή σχοινιού Πολλαπλής Επιλογής (Μοναδική Απάντηση)	⬆️ ⚙️
2.	Τι είναι το βήμα πλέξεως Πολλαπλής Επιλογής (Μοναδική Απάντηση)	⬆️ ⚙️

<b>Ερωτήσεις της άσκησης</b>		
3.	Το σχοινί σίζαλ είναι από φυτό: Πολλαπλής Επιλογής (Μοναδική Απάντηση)	 
4.	.Ιδανική θερμοκρασία φύλαξης σχοινιών Πολλαπλής Επιλογής (Μοναδική Απάντηση)	 
5.	Χρησιμοποιούμε ένα μέσο για τον χειρισμό βαρών σύμφωνα με: Πολλαπλής Επιλογής (Μοναδική Απάντηση)	 
6.	Συνολικό φορτίο θραύσεως αφορά Πολλαπλής Επιλογής (Μοναδική Απάντηση)	 
7.	Η μήτρα χρησιμοποιείτε σε: Πολλαπλής Επιλογής (Μοναδική Απάντηση)	 
8.	Αντικαθιστούμε συρματόσχοινο όταν ο αριθμός κομμένων συρμάτων στο βήμα του είναι Πολλαπλής Επιλογής (Μοναδική Απάντηση)	 
9.	Τι δεν είναι μέρος ενός τρόχιλου(μπαστέκα) Πολλαπλής Επιλογής (Μοναδική Απάντηση)	 
10.	After Headspring είναι; Πολλαπλής Επιλογής (Μοναδική Απάντηση)	 
11.	Τα ποντόνια είναι καλύμματα που: Πολλαπλής Επιλογής (Μοναδική Απάντηση)	 
12.	Στα καπόνια βαρύτητας οι τροχιές σχηματίζουν γωνία ως προς το οριζόντιο επίπεδο: Πολλαπλής Επιλογής (Μοναδική Απάντηση)	 
13.	Για ένα συρματόσχοινο όταν λέμε ότι είναι 6 χ 12 εννοούμε: Πολλαπλής Επιλογής (Μοναδική Απάντηση)	 
14.	Ο δείκτης εξαρτισμού ,πιο από τα παρακάτω μας δίνει; Πολλαπλής Επιλογής (Μοναδική Απάντηση)	 
15.	Το κάθε άμμα(κλειδί) της άγκυρας είναι; Πολλαπλής Επιλογής (Μοναδική Απάντηση)	 
16.	Πιο από τα παρακάτω ανήκει στους αυτοματισμούς ασφαλείας των γερανών. Πολλαπλής Επιλογής (Μοναδική Απάντηση)	 
17.	Πιο από τα παρακάτω δεν ανήκει στα πλεονεκτήματα των γερανών; Πολλαπλής Επιλογής (Μοναδική Απάντηση)	 



<b>Ερωτήσεις της άσκησης</b>		
18.	Πια από τα παρακάτω αποτελούν εξοπλισμό αγκυροβολίας Πολλαπλής Επιλογής (Μοναδική Απάντηση)	 
19.	Πιό από τα παρακάτω δεν είναι μέρος της επιθεώρησης τροχίλων Πολλαπλής Επιλογής (Μοναδική Απάντηση)	 
20.	Μέρος της άγκυρας είναι; Πολλαπλής Επιλογής (Μοναδική Απάντηση)	 
21.	ΟΝΟΜΑΤΕΠΩΝΗΜΟ & ΑΓΜ, ΤΜΗΜΑ Ελεύθερου Κειμένου	