

ΕΞΕΤΑΣΕΙΣ ΣΕΠΤΕΜΒΡΙΟΥ 2021

Ασκήσεις



Προεπισκόπηση



ΝΑΥΤΙΚΕΣ ΕΠΙΚΟΙΝΩΝΙΕΣ Ι (Β' εξαμήνου)

ΑΕΝ ΜΑΚΕΔΟΝΙΑΣ

Ν. ΜΗΧΑΝΙΩΝΑ

ΣΧΟΛΗ ΠΛΟΙΑΡΧΩΝ

09/09/2021

ΕΞΕΤΑΣΤΙΚΗ ΠΕΡΙΟΔΟΣ ΣΕΠΤΕΜΒΡΙΟΥ 2021

ΝΑΥΤ. ΕΠΙΚΟΙΝΩΝΙΕΣ Ι (Β' ΕΞΑΜΗΝΟΥ)

Εισηγητής: ΜΑΥΡΟΣ ΝΙΚΟΛΑΟΣ

ΘΕΜΑΤΑ

Ερώτηση: 1

Ποιος από τους παρακάτω τρόπους ΔΕΝ αποτελεί τρόπο επικοινωνίας μεταξύ ενός πλοίου με ένα άλλο ή με την ξηρά σύμφωνα με τον ΔΚΣ:

Απάντηση	Σχόλιο
<input type="checkbox"/> Σημαίες του Διεθνούς Αλφαβήτου (Βαθμολογία: 0.00)	
<input type="checkbox"/> Αναλαμπές με τον προβολέα (Βαθμολογία: 0.00)	
<input checked="" type="checkbox"/> Σήματα καπνού (Βαθμολογία: 0.17)	
<input type="checkbox"/> Συριγμοί με την σφυρίκτρα του πλοίου (Βαθμολογία: 0.00)	

<input type="checkbox"/>	Σήματα χειρός (Βαθμολογία: 0.00)	
		Βαθμολογία ερώτησης: 0.17

Ερώτηση: 2 

Οι σημαίες του ΔΚΣ υψώνονται στο υψηλότερο σημείο του πλοίου πλησίον της γέφυρας ώστε να είναι ευδιάκριτες από μακριά και πρέπει πάντα να διαβάζονται από:

Απάντηση		Σχόλιο
<input type="checkbox"/>	Πάνω προς τα κάτω, όταν γίνεται χρήση 2 σημαιών (Βαθμολογία: 0.00)	
<input type="checkbox"/>	Από κάτω προς τα πάνω, όταν γίνεται χρήση 3 σημαιών (Βαθμολογία: 0.00)	
<input checked="" type="checkbox"/>	Από πάνω προς τα κάτω σε όλες τις περιπτώσεις (Βαθμολογία: 0.17)	
<input type="checkbox"/>	Από κάτω προς τα πάνω σε όλες τις περιπτώσεις (Βαθμολογία: 0.00)	
		Βαθμολογία ερώτησης: 0.17

Ερώτηση: 3 

Το τέλος της μεταβίβασης κειμένου ενός σήματος με αναλαμπές, που σημαίνει ότι τελείωσε η μεταβίβαση του κειμένου δίνεται με τον κώδικα:

Απάντηση		Σχόλιο
<input type="checkbox"/>	AA AA AA (Βαθμολογία: 0.00)	
<input checked="" type="checkbox"/>	AR (Βαθμολογία: 0.16)	
<input type="checkbox"/>	AS (Βαθμολογία: 0.00)	

<input type="checkbox"/>	RQ (Βαθμολογία: 0.00)	
		Βαθμολογία ερώτησης: 0.16

Ερώτηση: 4 

Σε ένα σήμα με αναλαμπές, όταν ο χειριστής θέλει να διαγράψει ένα γράμμα ή μια λέξη, χειρίζεται την ομάδα:

Απάντηση		Σχόλιο
<input type="checkbox"/>	AA AA AA (Βαθμολογία: 0.00)	
<input type="checkbox"/>	AR (Βαθμολογία: 0.00)	
<input type="checkbox"/>	AS (Βαθμολογία: 0.00)	
<input checked="" type="checkbox"/>	EEEEEE (Βαθμολογία: 0.16)	
		Βαθμολογία ερώτησης: 0.16

Ερώτηση: 5 

Ποιο από τα παρακάτω σήματα με αναλαμπές χρησιμοποιείται για να δηλώσει επανάληψη από αυτόν που χειρίζεται ή αίτηση επαναλήψεως από αυτόν που λαμβάνει:

Απάντηση		Σχόλιο
<input type="checkbox"/>	RQ (Βαθμολογία: 0.00)	
<input checked="" type="checkbox"/>	RPT (Βαθμολογία: 0.16)	
<input type="checkbox"/>	TTTT (Βαθμολογία: 0.00)	

<input type="checkbox"/>	AA AA AA (Βαθμολογία: 0.00)	
		Βαθμολογία ερώτησης: 0.16

Ερώτηση: 6 

Κατά την διάρκεια εκπομπής ενός σήματος με αναλαμπές, τα διαφορετικά κομμάτια της ίδιας εκπομπής ξεχωρίζουν με τον κώδικα:

Απάντηση		Σχόλιο
<input checked="" type="checkbox"/>	BT (Βαθμολογία: 0.16)	
<input type="checkbox"/>	RQ (Βαθμολογία: 0.00)	
<input type="checkbox"/>	T (Βαθμολογία: 0.00)	
<input type="checkbox"/>	VA (Βαθμολογία: 0.00)	
		Βαθμολογία ερώτησης: 0.16

Ερώτηση: 7 

Κατά την διάρκεια εκπομπής ενός σήματος με αναλαμπές, το τέλος εκπομπής (πέρας εργασίας) σημαίνεται με τον κώδικα :

Απάντηση		Σχόλιο
<input type="checkbox"/>	BT (Βαθμολογία: 0.00)	
<input type="checkbox"/>	RQ (Βαθμολογία: 0.00)	
<input type="checkbox"/>	T (Βαθμολογία: 0.00)	

<input checked="" type="checkbox"/>	VA (Βαθμολογία: 0.16)	
		Βαθμολογία ερώτησης: 0.16

Ερώτηση: 8 

Σήματα διαδικασίας για χρήση με όλους τους τρόπους μεταδόσεως. Ποια είναι η σημασία του σήματος CS :

Απάντηση		Σχόλιο
<input type="checkbox"/>	Πρόσκληση για μεταβίβαση (Βαθμολογία: 0.00)	
<input type="checkbox"/>	Έλαβα το τελευταίο σας σήμα (Βαθμολογία: 0.00)	
<input checked="" type="checkbox"/>	Ποιο είναι το όνομα ή το διακριτικό σήμα του πλοίου σας (Βαθμολογία: 0.17)	
<input type="checkbox"/>	Επιθυμώ να επικοινωνήσω μαζί σας (Βαθμολογία: 0.00)	
		Βαθμολογία ερώτησης: 0.17

Ερώτηση: 9 

Σήματα διαδικασίας για χρήση με όλους τους τρόπους μεταδόσεως. Ποια είναι η σημασία του σήματος K :

Απάντηση		Σχόλιο
<input type="checkbox"/>	Πρόσκληση για μεταβίβαση (Βαθμολογία: 0.00)	
<input type="checkbox"/>	Έλαβα το τελευταίο σας σήμα (Βαθμολογία: 0.00)	
<input type="checkbox"/>	Ποιο είναι το όνομα ή το διακριτικό σήμα του πλοίου σας (Βαθμολογία: 0.00)	

<input checked="" type="checkbox"/>	Επιθυμώ να επικοινωνήσω μαζί σας (Βαθμολογία: 0.17)	
		Βαθμολογία ερώτησης: 0.17

Ερώτηση: 10 

Σήματα διαδικασίας για χρήση με όλους τους τρόπους μεταδόσεως. Ποια είναι η σημασία του σήματος RQ :

Απάντηση		Σχόλιο
<input checked="" type="checkbox"/>	Η έννοια της προηγούμενης ομάδας πρέπει να αναγνωστεί σαν ερώτηση (Βαθμολογία: 0.17)	
<input type="checkbox"/>	Η έννοια της προηγούμενης ομάδας πρέπει να αναγνωστεί σαν άρνηση (Βαθμολογία: 0.00)	
<input type="checkbox"/>	Επαναλάβετε ότι μεταβιβάσατε ή επαναλάβετε ότι λάβατε (Βαθμολογία: 0.00)	
<input type="checkbox"/>	Έλαβα το τελευταίο σας σήμα (Βαθμολογία: 0.00)	
		Βαθμολογία ερώτησης: 0.17

Ερώτηση: 11 

Σήματα διαδικασίας για χρήση με όλους τους τρόπους μεταδόσεως. Ποια είναι η σημασία του σήματος R :

Απάντηση		Σχόλιο
<input type="checkbox"/>	Η έννοια της προηγούμενης ομάδας πρέπει να αναγνωστεί σαν άρνηση (Βαθμολογία: 0.00)	
<input type="checkbox"/>	Η έννοια της προηγούμενης ομάδας πρέπει να αναγνωστεί σαν ερώτηση (Βαθμολογία: 0.00)	

<input checked="" type="checkbox"/>	Έχει ληφθεί ή « Έλαβα το τελευταίο σας σήμα» (Βαθμολογία: 0.17)	
<input type="checkbox"/>	Επιθυμώ να επικοινωνήσω μαζί σας (Βαθμολογία: 0.00)	
		Βαθμολογία ερώτησης: 0.17

Ερώτηση: 12 

Να αντιστοιχίσετε τα ακόλουθα ηχητικά σήματα όταν αυτά χρησιμοποιούνται μόνο σύμφωνα με τις απαιτήσεις των ΔΚΑΣ του 1972:

Επιλογή	Αντιστοιχεί σε
E ●	σημαίνει «Αλλάζω την πορεία μου προς τα δεξιά» (Βαθμολογία: 0.05)
I ●●	σημαίνει «Αλλάζω την πορεία μου προς τα αριστερά» (Βαθμολογία: 0.05)
S ●●●	σημαίνει «Οι μηχανές μου αναποδίζουν (κάνω ανάποδα)» (Βαθμολογία: 0.05)
Βαθμολογία ερώτησης: 0.15	

Ερώτηση: 13 

Ποια από τις ακόλουθες ομάδες ΔΕΝ αποτελεί μέρος του Διεθνή Κώδικα Σημάτων :

Απάντηση	Σχόλιο
<input type="checkbox"/> Σήματα με ένα γράμμα που κατανέμονται (διατίθενται) για την απόδοση εννοιών, που είναι πολύ επείγουσες, σημαντικές ή πολύ συνηθισμένες. (Βαθμολογία: 0.00)	
<input type="checkbox"/> Σήματα με δύο γράμματα για το Γενικό Μέρος του ΔΚΣ. (Βαθμολογία: 0.00)	

<input type="checkbox"/>	Σήματα με τρία γράμματα που αρχίζουν από το γράμμα Μ για το Ιατρικό Μέρος του. (Βαθμολογία: 0.00)	
<input checked="" type="checkbox"/>	Σήματα με τέσσερα γράμματα που αρχίζουν από το γράμμα Ι για το Μέρος του του ΔΚΣ που έχει σχέση με την ναυσιπλοΐα σε πάγους. (Βαθμολογία: 0.17)	
		Βαθμολογία ερώτησης: 0.17

Ερώτηση: 14 

Ποια από τις ακόλουθες μεθόδους σημάσεως ΔΕΝ μπορεί να χρησιμοποιηθεί σήμερα στην επικοινωνία μεταξύ πλοίων ή πλοίου-ξηράς :

Απάντηση		Σχόλιο
<input type="checkbox"/>	Σήμανση με το στόμα μέσω τηλεβόα ή μεγαφωνικής συσκευής (Βαθμολογία: 0.00)	
<input type="checkbox"/>	Ραδιοτηλεφωνία (Βαθμολογία: 0.00)	
<input type="checkbox"/>	Σήματα με αναλαμπές και ηχητική (Βαθμολογία: 0.00)	
<input checked="" type="checkbox"/>	Ραδιοτηλεγραφία (Βαθμολογία: 0.17)	
<input type="checkbox"/>	Σήμανση με έγχρωμα σημεία (σημαίες) (Βαθμολογία: 0.00)	
		Βαθμολογία ερώτησης: 0.17

Ερώτηση: 15 

Σήματα διαδικασίας για χρήση με όλους τους τρόπους μεταδόσεως. Ποια είναι η σημασία του σήματος R (._) ?

Απάντηση	Σχόλιο
----------	--------

<input type="checkbox"/>	Επαναληπτικό σήμα «Επαναλαμβάνω» (Βαθμολογία: 0.00)	
<input type="checkbox"/>	Σήμα αναμονής ή περιόδου (Βαθμολογία: 0.00)	
<input checked="" type="checkbox"/>	Έχει ληφθεί ή «Έλαβα το τελευταίο σας σήμα» (Βαθμολογία: 0.16)	
		Βαθμολογία ερώτησης: 0.16

Ερώτηση: 16 

Σήματα διαδικασίας για χρήση με όλους τους τρόπους μεταδόσεως. Ποια είναι η σημασία του σήματος NO ?

Απάντηση		Σχόλιο
<input type="checkbox"/>	«Από ...» (χρησιμοποιείται αναφερόμενο πριν από το όνομα ή το διακριτικό σήμα σταθμού που καλεί. (Βαθμολογία: 0.00)	
<input checked="" type="checkbox"/>	Αρνητικό - ΟΧΙ «Η έννοια του προηγούμενου σήματος πρέπει να αναγνωστεί ως αρνητική. (Βαθμολογία: 0.17)	
<input type="checkbox"/>	Επαναληπτικό σήμα «Επαναλαμβάνω» (Βαθμολογία: 0.00)	
		Βαθμολογία ερώτησης: 0.17

Ερώτηση: 17 

Σήματα διαδικασίας για χρήση με όλους τους τρόπους μεταδόσεως. Ποια είναι η σημασία του σήματος OK ?

Απάντηση		Σχόλιο
<input checked="" type="checkbox"/>	Γνωστοποίηση ορθής επαναλήψεως ή «Είναι ορθό» (Βαθμολογία: 0.17)	

<input type="checkbox"/>	Εμφανίζεστε να μην συμμορφώνεστε με το Σύστημα Διαχωρισμού Θαλάσσιας κυκλοφορίας (Βαθμολογία: 0.00)	
<input type="checkbox"/>	Η κατά προσέγγιση διόπτευση του ναρκοπεδίου είναι ...° από μένα. (Βαθμολογία: 0.00)	
		Βαθμολογία ερώτησης: 0.17

Ερώτηση: 18 

Σήματα διαδικασίας για χρήση με όλους τους τρόπους μετάδοσης. Ποια είναι η σημασία του σήματος DE ?

Απάντηση		Σχόλιο
<input type="checkbox"/>	«Γνωστοποίηση ορθής επαναλήψεως» ή «Είναι ορθό» (Βαθμολογία: 0.00)	
<input checked="" type="checkbox"/>	«Από ...» (χρησιμοποιείται αναφερόμενο πριν από το όνομα ή το διακριτικό σήμα σταθμού που καλεί. (Βαθμολογία: 0.17)	
<input type="checkbox"/>	Χρησιμοποιείται για να δείξει τη λήψη κάθε λέξης. (Βαθμολογία: 0.00)	
		Βαθμολογία ερώτησης: 0.17

Ερώτηση: 19 

Τι σημαίνει το Σήμα Διαδικασίας AAA όταν χρησιμοποιείται σε μετάδοση με αναλαμπές:

Απάντηση		Σχόλιο
<input type="checkbox"/>	Σήμα αντισημάνσεως-Μεταδίδεται προκειμένου να δοθεί απάντηση σε μία κλήση και συνεχίζει να μεταδίδεται έως ότου ο σταθμός που σημαίνει σταματήσει να καλεί. (Βαθμολογία: 0.00)	
<input checked="" type="checkbox"/>	Τελεία ή υποδιαστολή. (Βαθμολογία: 0.17)	

<input type="checkbox"/>	Χρησιμοποιείται για να δείξει τη λήψη κάθε λέξης. (Βαθμολογία: 0.00)	
		Βαθμολογία ερώτησης: 0.17

Ερώτηση: 20 

Για Ραδιοτηλεφωνική κλήση όλων των σταθμών στην παραπλεύουσα περιοχή θα πρέπει να χρησιμοποιείται η ομάδα :

Απάντηση		Σχόλιο
<input checked="" type="checkbox"/>	CQ , όχι όμως περισσότερες από τρεις φορές σε κάθε κλήση (Βαθμολογία: 0.17)	
<input type="checkbox"/>	BN , όχι όμως περισσότερες από μία φορά σε κάθε κλήση (Βαθμολογία: 0.00)	
<input type="checkbox"/>	WA , όχι όμως περισσότερες από τρεις φορές σε κάθε κλήση (Βαθμολογία: 0.00)	
		Βαθμολογία ερώτησης: 0.17

Ερώτηση: 21 

Κατά την επικοινωνία πλοίου-πλοίου και/ή πλοίου-ξηράς μέσω ραδιοτηλεφώνου, εάν θέλουμε να χρησιμοποιήσουμε στον προφορικό λόγο το Σήμα Διαδικασίας “Υποδιαστολή”, τότε πρέπει να εκφωνήσουμε την λέξη :

Απάντηση		Σχόλιο
<input type="checkbox"/>	INTERCO (Βαθμολογία: 0.00)	
<input checked="" type="checkbox"/>	DECIMAL (Βαθμολογία: 0.16)	
<input type="checkbox"/>	CORRECTION (Βαθμολογία: 0.00)	

<input type="checkbox"/>	STOP (Βαθμολογία: 0.00)	
		Βαθμολογία ερώτησης: 0.16

Ερώτηση: 22 

Κατά την επικοινωνία πλοίου-πλοίου και/ή πλοίου-ξηράς μέσω ραδιοτηλεφώνου, εάν θέλουμε να χρησιμοποιήσουμε στον προφορικό λόγο το Σήμα Διαδικασίας "Τελεία", τότε πρέπει να εκφωνήσουμε την λέξη :

Απάντηση		Σχόλιο
<input type="checkbox"/>	INTERCO (Βαθμολογία: 0.00)	
<input type="checkbox"/>	DECIMAL (Βαθμολογία: 0.00)	
<input type="checkbox"/>	CORRECTION (Βαθμολογία: 0.00)	
<input checked="" type="checkbox"/>	STOP (Βαθμολογία: 0.16)	
		Βαθμολογία ερώτησης: 0.16

Ερώτηση: 23 

Κατά την επικοινωνία πλοίου-πλοίου και/ή πλοίου-ξηράς μέσω ραδιοτηλεφώνου, εάν θέλουμε να χρησιμοποιήσουμε στον προφορικό λόγο το Σήμα Διαδικασίας "Ακυρώστε την τελευταία μου λέξη ή ομάδα", τότε πρέπει να εκφωνήσουμε την λέξη :

Απάντηση		Σχόλιο
<input type="checkbox"/>	INTERCO (Βαθμολογία: 0.00)	
<input type="checkbox"/>	DECIMAL (Βαθμολογία: 0.00)	
<input checked="" type="checkbox"/>	CORRECTION (Βαθμολογία: 0.16)	

<input type="checkbox"/>	STOP (Βαθμολογία: 0.00)	
		Βαθμολογία ερώτησης: 0.16

Ερώτηση: 24 

Να αντιστοιχίσετε τα ακόλουθα σήματα διασώσεως σύμφωνα με την σημασία τους:

Επιλογή	Αντιστοιχεί σε
Έπαρση του γράμματος N (NOVEMBER)	Δεικνύει ανικανότητα να συμμορφωθεί (Βαθμολογία: 0.05)
Εκτόξευση σήματος κόκκινου αστεριού	Η αποβίβαση εδώ είναι εξαιρετικά επικίνδυνη (Βαθμολογία: 0.05)
Σήμα πορτοκαλόχρου καπνού	Σας επισημάναμε ότι θα σας παρασχεθεί βοήθεια όσο το δυνατόν ταχύτερα (Βαθμολογία: 0.05)
Εκτόξευση σήματος πράσινου αστεριού	Αυτή είναι η καλύτερη θέση για αποβίβαση (Βαθμολογία: 0.05)
Βαθμολογία ερώτησης: 0.2	

Ερώτηση: 25 

Στα οπτικά σήματα αέρα-επιφάνειας μεταξύ αεροσκάφους και πλοίου, ποια από τις παρακάτω ενέργειες του αεροσκάφους δηλώνει ότι "Η βοήθεια του πλοίου δεν χρειάζεται πλέον" :

Απάντηση	Σχόλιο
<input type="checkbox"/> Διασταύρωση σε χαμηλό ύψος της προεκτάσεως της πορείας του πλοίου κοντά στην πλήρη με ταλάντευση των πτερυγίων. (Βαθμολογία: 0.00)	

<input type="checkbox"/>	Διαγραφή ενός τουλάχιστον κύκλου γύρω από το πλοίο. (Βαθμολογία: 0.00)	
<input checked="" type="checkbox"/>	Διασταύρωση σε χαμηλό ύψος του ίχνους του πλοίου κοντά στην πρύμνη με ταλάντευση των πτερυγίων. (Βαθμολογία: 0.17)	
		Βαθμολογία ερώτησης: 0.17


Ερώτηση: 26 

Ποιο από τα παρακάτω ΔΕΝ αποτελεί σήμα κινδύνου :

Απάντηση		Σχόλιο
<input type="checkbox"/>	Συνεχής ήχος που παράγεται από οποιαδήποτε συσκευή σημάτων ομίχλης. (Βαθμολογία: 0.00)	
<input type="checkbox"/>	Σκυταλίδα (φωτοβολίδα) με αλεξίπτωτο, που παράγει κόκκινο φως ή πυρσός χεριού κόκκινου φωτός. (Βαθμολογία: 0.00)	
<input checked="" type="checkbox"/>	Σήμα αποτελούμενο από δύο μαύρες σφαίρες ή οποιοδήποτε άλλο αντικείμενο που μοιάζει με σφαίρα, κάθετα τοποθετημένες στο υψηλότερο σημείο του ιστού επάνω από την γέφυρα του πλοίου. (Βαθμολογία: 0.17)	
<input type="checkbox"/>	Αργή και κατ' επανάληψη ύψωση και χαμήλωση των βραχιόνων σε έκταση από κάθε πλευρά. (Βαθμολογία: 0.00)	
<input type="checkbox"/>	Σήμα καπνού που αναδίδει ποσότητα καπνού χρώματος πορτοκαλί. (Βαθμολογία: 0.00)	
		Βαθμολογία ερώτησης: 0.17

Ερώτηση: 27 

Σε ποιο γράμμα του Διεθνούς Αλφάβητου αντιστοιχεί η εικονιζόμενη σημαία και ποια είναι η σημασία της ?



Απάντηση		Σχόλιο
<input checked="" type="checkbox"/>	- Β - Παραλαμβάνω ή εκφορτώνω ή μεταφέρω επικίνδυνα φορτία. (Βαθμολογία: 0.16)	
<input type="checkbox"/>	- D - Παραμένετε σε απόσταση από μένα. Χειρίζω με δυσκολία. (Βαθμολογία: 0.00)	
<input type="checkbox"/>	- L - Κρατήστε αμέσως το πλοίο σας. (Βαθμολογία: 0.00)	
Βαθμολογία ερώτησης: 0.16		

Ερώτηση: 28 

Σε ποιο γράμμα του Διεθνούς Αλφάβητου αντιστοιχεί η εικονιζόμενη σημαία και ποια είναι η σημασία της ?



Απάντηση		Σχόλιο
<input type="checkbox"/>	- E - Αλλάζω την πορεία μου προς τα δεξιά. (Βαθμολογία: 0.00)	
<input checked="" type="checkbox"/>	- D - Παραμένετε σε απόσταση από μένα. Χειρίζω με δυσκολία. (Βαθμολογία: 0.16)	

<input type="checkbox"/>	- L - Κρατήστε αμέσως το πλοίο σας. (Βαθμολογία: 0.00)	
		Βαθμολογία ερώτησης: 0.16

Ερώτηση: 29 


Σε ποιο γράμμα του Διεθνούς Αλφάβητου αντιστοιχεί η εικονιζόμενη σημαία και ποια είναι η σημασία της ?



Απάντηση		Σχόλιο
<input checked="" type="checkbox"/>	- E - Αλλάζω την πορεία μου προς τα δεξιά. (Βαθμολογία: 0.16)	
<input type="checkbox"/>	- M - Το πλοίο μου σταμάτησε και δεν κινείται στο νερό. (Βαθμολογία: 0.00)	
<input type="checkbox"/>	- U - Κατευθύνεστε προς κίνδυνο. (Βαθμολογία: 0.00)	
		Βαθμολογία ερώτησης: 0.16

Ερώτηση: 30 


Σε ποιο γράμμα του Διεθνούς Αλφάβητου αντιστοιχεί η εικονιζόμενη σημαία και ποια είναι η σημασία της ?



Απάντηση		Σχόλιο
<input type="checkbox"/>	- Β - Παραλαμβάνω ή εκφορτώνω ή μεταφέρω επικίνδυνα φορτία. (Βαθμολογία: 0.00)	
<input checked="" type="checkbox"/>	- Η - Έχω πλοηγό επί του πλοίου. (Βαθμολογία: 0.16)	
<input type="checkbox"/>	- Ο - Άνθρωπος στην θάλασσα. (Βαθμολογία: 0.00)	
Βαθμολογία ερώτησης: 0.16		

Ερώτηση: 31

Σε ποιο γράμμα του Διεθνούς Αλφάβητου αντιστοιχεί η εικονιζόμενη σημαία και ποια είναι η σημασία της ?



Απάντηση		Σχόλιο
<input type="checkbox"/>	- J - Κρατάτε απόσταση από μένα. Στο πλοίο μου ξέσπασε πυρκαγιά και φέρω επικίνδυνο φορτίο ή διαρρέει επικίνδυνο φορτίο. (Βαθμολογία: 0.00)	

<input type="checkbox"/>	- E - Αλλάζω την πορεία μου προς τα δεξιά. (Βαθμολογία: 0.00)	
<input checked="" type="checkbox"/>	- I - Αλλάζω την πορεία μου προς τα αριστερά (στρίβω αριστερά). (Βαθμολογία: 0.16)	
		Βαθμολογία ερώτησης: 0.16

Ερώτηση: 32 

Σε ποιο γράμμα του Διεθνούς Αλφάβητου αντιστοιχεί η εικονιζόμενη σημαία και ποια είναι η σημασία της ?



Απάντηση		Σχόλιο
<input checked="" type="checkbox"/>	- J - Κρατάτε απόσταση από μένα. Στο πλοίο μου ξέσπασε πυρκαγιά και φέρω επικίνδυνο φορτίο ή διαρρέει επικίνδυνο φορτίο. (Βαθμολογία: 0.16)	
<input type="checkbox"/>	- P - Όλοι να επιστρέψουν στο πλοίο αμέσως γιατί θα αναχωρήσει. (Βαθμολογία: 0.00)	
<input type="checkbox"/>	- I - Αλλάζω την πορεία μου προς τα αριστερά (στρίβω αριστερά). (Βαθμολογία: 0.00)	
		Βαθμολογία ερώτησης: 0.16

Ερώτηση: 33 


Σε ποιο γράμμα του Διεθνούς Αλφάβητου αντιστοιχεί η εικονιζόμενη σημαία και ποια είναι η σημασία της ?



Απάντηση		Σχόλιο
<input type="checkbox"/>	- E - Αλλάζω την πορεία μου προς τα δεξιά. (Βαθμολογία: 0.00)	
<input type="checkbox"/>	- D - Παραμείνετε σε απόσταση από μένα. Χειρίζω με δυσκολία. (Βαθμολογία: 0.00)	
<input checked="" type="checkbox"/>	- L - Κρατήστε αμέσως το πλοίο σας. (Βαθμολογία: 0.16)	
		Βαθμολογία ερώτησης: 0.16

Ερώτηση: 34 

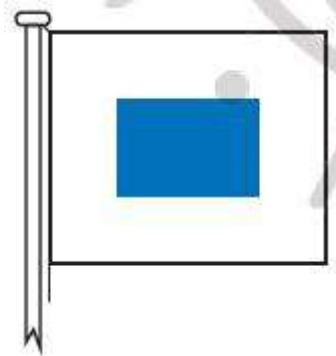
Σε ποιο γράμμα του Διεθνούς Αλφάβητου αντιστοιχεί η εικονιζόμενη σημαία και ποια είναι η σημασία της ?



Απάντηση		Σχόλιο
<input type="checkbox"/>	- U - Κατευθύνεστε προς κίνδυνο. (Βαθμολογία: 0.00)	
<input type="checkbox"/>	- A - Εχω δύτη κάτω. Κρατήστε απόσταση από εμένα πλέοντας αργά. (Βαθμολογία: 0.00)	
<input checked="" type="checkbox"/>	- Q - Η κατάσταση υγιεινής στο πλοίο μου είναι καλή και ζητώ ελευθεροκοινωνία. (Βαθμολογία: 0.16)	

Ερώτηση: 35 

Σε ποιο γράμμα του Διεθνούς Αλφάβητου αντιστοιχεί η εικονιζόμενη σημαία και ποια είναι η σημασία της ?



Απάντηση

Σχόλιο

- S - Οι μηχανές μου αναποδίζουν (κάνω ανάποδα).
(Βαθμολογία: 0.16)

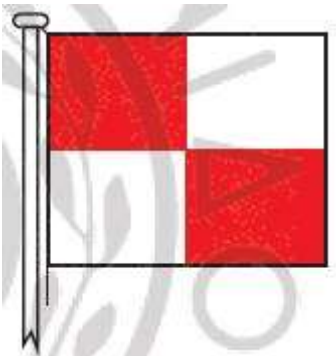
- K - Επιθυμώ να επικοινωνήσω μαζί σας.
(Βαθμολογία: 0.00)

- Y - Σύρω την άγκυρά μου.
(Βαθμολογία: 0.00)

Βαθμολογία ερώτησης: 0.16

Ερώτηση: 36 

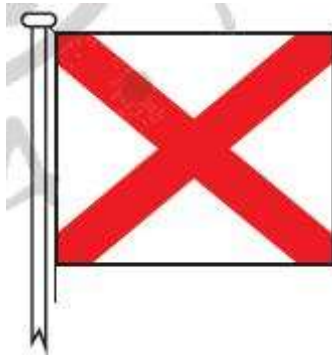
Σε ποιο γράμμα του Διεθνούς Αλφάβητου αντιστοιχεί η εικονιζόμενη σημαία και ποια είναι η σημασία της ?



Απάντηση		Σχόλιο
<input type="checkbox"/>	- E - Αλλάζω την πορεία μου προς τα δεξιά. (Βαθμολογία: 0.00)	
<input type="checkbox"/>	- M - Το πλοίο μου σταμάτησε και δεν κινείται στο νερό. (Βαθμολογία: 0.00)	
<input checked="" type="checkbox"/>	- U - Κατευθύνεστε προς κίνδυνο. (Βαθμολογία: 0.16)	
		Βαθμολογία ερώτησης: 0.16

Ερώτηση: 37 

Σε ποιο γράμμα του Διεθνούς Αλφάβητου αντιστοιχεί η εικονιζόμενη σημαία και ποια είναι η σημασία της ?



Απάντηση		Σχόλιο
<input checked="" type="checkbox"/>	- V - Ζητώ βοήθεια. (Βαθμολογία: 0.16)	
<input type="checkbox"/>	- W - Ζητώ ιατρική βοήθεια. (Βαθμολογία: 0.00)	
<input type="checkbox"/>	- Z - Ζητώ ρυμουλκό. (Βαθμολογία: 0.00)	
		Βαθμολογία ερώτησης: 0.16

Ερώτηση: 38 

Σε ποιο γράμμα του Διεθνούς Αλφάβητου αντιστοιχεί η εικονιζόμενη σημαία και ποια είναι η σημασία της ?



Απάντηση		Σχόλιο
<input checked="" type="checkbox"/>	- Y - Σύρω την άγκυρά μου. (Βαθμολογία: 0.16)	
<input type="checkbox"/>	- M - Το πλοίο μου σταμάτησε και δεν κινείται στο νερό. (Βαθμολογία: 0.00)	
<input type="checkbox"/>	- U - Κατευθύνεστε προς κίνδυνο. (Βαθμολογία: 0.00)	
		Βαθμολογία ερώτησης: 0.16

Ερώτηση: 39

Ποια είναι η σημασία του ακρωνύμιου GMDSS :

Απάντηση		Σχόλιο
<input type="checkbox"/>	Global Maritime Digital Safety System (Βαθμολογία: 0.00)	
<input type="checkbox"/>	Global Mobile Distress Surface Search (Βαθμολογία: 0.00)	
<input checked="" type="checkbox"/>	Global Maritime Distress and Safety System (Βαθμολογία: 0.16)	
		Βαθμολογία ερώτησης: 0.16

Ερώτηση: 40

Ποια είναι η σημασία του ακρωνύμιου DSC :

Απάντηση		Σχόλιο
<input checked="" type="checkbox"/>	Digital Selective Calling (Βαθμολογία: 0.16)	
<input type="checkbox"/>	Distress Safety Calling (Βαθμολογία: 0.00)	
<input type="checkbox"/>	Digital Secure Calling (Βαθμολογία: 0.00)	
		Βαθμολογία ερώτησης: 0.16

Ερώτηση: 41 

Μια κλήση κινδύνου από ένα πλοίο, εκπέμπεται μόνο κατ' εντολή:

Απάντηση		Σχόλιο
<input type="checkbox"/>	Παράκτιου σταθμού (Βαθμολογία: 0.00)	
<input checked="" type="checkbox"/>	Πλοιάρχου (Βαθμολογία: 0.16)	
<input type="checkbox"/>	Πλοιοκτήτη (Βαθμολογία: 0.00)	
<input type="checkbox"/>	Υποπλοιάρχου (Βαθμολογία: 0.00)	
		Βαθμολογία ερώτησης: 0.16

Ερώτηση: 42 

Στην πράξη μια καλή επικοινωνία μεταξύ πλοίων σε συχνότητα VHF (LOS-Line Of Sight) υπολογίζεται μέχρι περίπου:

Απάντηση	Σχόλιο
----------	--------

<input type="checkbox"/>	80-100 ν.μ. (Βαθμολογία: 0.00)	
<input checked="" type="checkbox"/>	15-20 ν.μ. (Βαθμολογία: 0.17)	
<input type="checkbox"/>	50-80 ν.μ. (Βαθμολογία: 0.00)	
<input type="checkbox"/>	5-10 ν.μ. (Βαθμολογία: 0.00)	
		Βαθμολογία ερώτησης: 0.17

Ερώτηση: 43 

Στην πράξη μια καλή επικοινωνία μεταξύ πλοίου-παράκτιου σε συχνότητα VHF (LOS-Line Of Sight) υπολογίζεται μέχρι περίπου:

Απάντηση		Σχόλιο
<input type="checkbox"/>	15-25 ν.μ. (Βαθμολογία: 0.00)	
<input type="checkbox"/>	5-10 ν.μ. (Βαθμολογία: 0.00)	
<input checked="" type="checkbox"/>	40-50 ν.μ. (Βαθμολογία: 0.17)	
<input type="checkbox"/>	100-130 ν.μ. (Βαθμολογία: 0.00)	
		Βαθμολογία ερώτησης: 0.17

Ερώτηση: 44 

Όταν χρησιμοποιείται δίαυλος (κανάλι) με δύο διαφορετικές συχνότητες, τότε αυτός ονομάζεται:

Απάντηση	Σχόλιο
----------	--------

<input checked="" type="checkbox"/>	Αμφίδρομος (Duplex) (Βαθμολογία: 0.17)	
<input type="checkbox"/>	Διπλός (Double) (Βαθμολογία: 0.00)	
<input type="checkbox"/>	Μονόδρομος (Simplex) (Βαθμολογία: 0.00)	
		Βαθμολογία ερώτησης: 0.17

Ερώτηση: 45 

Όταν χρησιμοποιείται δίαυλος (κανάλι) με την ίδια συχνότητα εκπομπής και λήψης, τότε αυτός ονομάζεται:

Απάντηση		Σχόλιο
<input type="checkbox"/>	Αμφίδρομος (Duplex) (Βαθμολογία: 0.00)	
<input type="checkbox"/>	Μονός (Single) (Βαθμολογία: 0.00)	
<input checked="" type="checkbox"/>	Μονόδρομος (Simplex) (Βαθμολογία: 0.17)	
		Βαθμολογία ερώτησης: 0.17

Ερώτηση: 46 

Σε ποιο κανάλι του VHF εκπέμπεται η κλήση κινδύνου (distress alert) με την τεχνική της ψηφιακής επιλογικής κλήσης (DSC):

Απάντηση		Σχόλιο
<input checked="" type="checkbox"/>	Ch70 (Βαθμολογία: 0.17)	
<input type="checkbox"/>	Ch16 (Βαθμολογία: 0.00)	

<input type="checkbox"/>	Ch10 (Βαθμολογία: 0.00)	
<input type="checkbox"/>	κανένα από τα προηγούμενα (Βαθμολογία: 0.00)	
		Βαθμολογία ερώτησης: 0.17

Ερώτηση: 47 

Σε ποιο κανάλι του VHF εκπέμπεται η κλήση κινδύνου (distress alert) από μικρά σκάφη (NON SOLAS) τα οποία δεν διαθέτουν εξοπλισμό ψηφιακής επιλογικής κλήσης (DSC):

Απάντηση		Σχόλιο
<input type="checkbox"/>	Ch70 (Βαθμολογία: 0.00)	
<input type="checkbox"/>	Ch13 (Βαθμολογία: 0.00)	
<input checked="" type="checkbox"/>	Ch16 (Βαθμολογία: 0.17)	
		Βαθμολογία ερώτησης: 0.17

Ερώτηση: 48 

Να αντιστοιχίσετε τα παρακάτω κανάλια VHF με την χρήση που έχει καθοριστεί για το καθένα:

Επιλογή	Αντιστοιχεί σε
Κανάλι - Ch13	Επικοινωνία γέφυρας με γέφυρα (bridge to bridge) για ασφάλεια ναυσιπλοΐας (Βαθμολογία: 0.05)

Κανάλι – Ch73	Επικοινωνία εάν απαιτηθεί μεταξύ πλοίου-αεροσκάφους-ξηράς για έρευνα και διάσωση ή για επικοινωνία σε περίπτωση διαρροής ή ρυπάνσεως (Βαθμολογία: 0.05)
Κανάλι – Ch16	Ανταπόκριση Κινδύνου και Κλήση (Distress Safety & Calling) (Βαθμολογία: 0.05)
Κανάλι – Ch70	Ψηφιακή Επιλογική Κλήση (Digital selective calling for distress, safety and calling) (Βαθμολογία: 0.05)
Βαθμολογία ερώτησης: 0.2	

Ερώτηση: 49 

Η ακύρωση ψευδούς συναγερμού κινδύνου (FALSE DISTRESS ALERT) με την χρήση ραδιοτηλεφωνίας VHF, γίνεται στο κανάλι :

Απάντηση		Σχόλιο
<input checked="" type="checkbox"/>	Ch16 (Βαθμολογία: 0.17)	
<input type="checkbox"/>	Ch12 (Βαθμολογία: 0.00)	
<input type="checkbox"/>	Ch72 (Βαθμολογία: 0.00)	
Βαθμολογία ερώτησης: 0.17		

Ερώτηση: 50 

Ποια ζώνη συχνοτήτων χρησιμοποιείται στην Ραδιοτηλεφωνία (Ρ/Φ) για να επικοινωνήσουν δύο σταθμοί που βρίσκονται σε κοντινή απόσταση, περίπου 15 ν.μ.:

Απάντηση	Σχόλιο
----------	--------

<input checked="" type="checkbox"/>	Very High Frequencies(VHF) (Βαθμολογία: 0.17)	
<input type="checkbox"/>	Medium Frequencies(MF) (Βαθμολογία: 0.00)	
<input type="checkbox"/>	High Frequencies(HF) (Βαθμολογία: 0.00)	
<input type="checkbox"/>	Low Frequencies(LF) (Βαθμολογία: 0.00)	
		Βαθμολογία ερώτησης: 0.17

Ερώτηση: 51 

Ποια ζώνη συχνοτήτων χρησιμοποιείται στην Ραδιοτηλεφωνία (Ρ/Φ) για να επικοινωνήσουν δύο σταθμοί που βρίσκονται σε πολύ μεγάλη απόσταση (μερικές εκατοντάδες ή και χιλιάδες ναυτικά μίλια):

Απάντηση		Σχόλιο
<input type="checkbox"/>	Very High Frequencies(VHF) (Βαθμολογία: 0.00)	
<input type="checkbox"/>	Medium Frequencies(MF) (Βαθμολογία: 0.00)	
<input checked="" type="checkbox"/>	High Frequencies(HF) (Βαθμολογία: 0.17)	
<input type="checkbox"/>	Low Frequencies(LF) (Βαθμολογία: 0.00)	
		Βαθμολογία ερώτησης: 0.17

Ερώτηση: 52 

Το κανάλι 70 στο VHF/DSC χρησιμοποιείται για κλήσεις:

Απάντηση	Σχόλιο
----------	--------

<input type="checkbox"/>	Κινδύνου(Distress) (Βαθμολογία: 0.00)	
<input type="checkbox"/>	Επείγοντος(Urgency) (Βαθμολογία: 0.00)	
<input type="checkbox"/>	Ασφάλειας(Safety) (Βαθμολογία: 0.00)	
<input type="checkbox"/>	Ρουτίνας(Routine) (Βαθμολογία: 0.00)	
<input checked="" type="checkbox"/>	Όλα τα προηγούμενα (Βαθμολογία: 0.17)	
		Βαθμολογία ερώτησης: 0.17

Ερώτηση: 53 

Η θαλάσσια περιοχή κάλυψης παράκτιου σταθμού VHF, δηλαδή από τις ακτές προς τη θάλασσα μέχρι 40-50 ν.μ., ο οποίος παρέχει συνεχή Ραδιοτηλεφωνική κάλυψη στο κανάλι 70 DSC και στο κανάλι 16 Ραδιοτηλεφώνου VHF, ονομάζεται:

Απάντηση		Σχόλιο
<input type="checkbox"/>	A4 (Βαθμολογία: 0.00)	
<input type="checkbox"/>	A3 (Βαθμολογία: 0.00)	
<input type="checkbox"/>	A2 (Βαθμολογία: 0.00)	
<input checked="" type="checkbox"/>	A1 (Βαθμολογία: 0.17)	
		Βαθμολογία ερώτησης: 0.17

Ερώτηση: 54 

Η θαλάσσια περιοχή κάλυψης παράκτιου σταθμού MF, δηλαδή πέραν της περιοχής A1, μιας αποστάσεως 50-250 ν.μ. ο οποίος παρέχει συνεχή Ραδιοτηλεφωνική κάλυψη στη συχνότητα κλήσης κινδύνου DSC/MF 2187,5 kHz και τη συχνότητα ανταπόκρισης κινδύνου MF 2182,0 kHz, ονομάζεται:

Απάντηση		Σχόλιο
<input checked="" type="checkbox"/>	A2 (Βαθμολογία: 0.17)	
<input type="checkbox"/>	A1 (Βαθμολογία: 0.00)	
<input type="checkbox"/>	A3 (Βαθμολογία: 0.00)	
<input type="checkbox"/>	A4 (Βαθμολογία: 0.00)	
		Βαθμολογία ερώτησης: 0.17

Ερώτηση: 55 

Η θαλάσσια περιοχή που οριοθετείται πέραν της A1, A2 (όπου υπάρχουν) φθάνοντας μέχρι 76°B ή 76°N γεωγραφικό πλάτος, και παρέχει Ραδιοτηλεφωνική κάλυψη για κλήσεις κινδύνου DSC/HF καθώς επίσης και κάλυψη από τους γεωστατικούς δορυφόρους του INMARSAT, ονομάζεται:

Απάντηση		Σχόλιο
<input type="checkbox"/>	A1 (Βαθμολογία: 0.00)	
<input type="checkbox"/>	A2 (Βαθμολογία: 0.00)	
<input checked="" type="checkbox"/>	A3 (Βαθμολογία: 0.17)	
<input type="checkbox"/>	A4 (Βαθμολογία: 0.00)	
		Βαθμολογία ερώτησης: 0.17

Ερώτηση: 56 

Η θαλάσσια περιοχή που οριοθετείται πέραν της A1, A2 και A3 δηλαδή ουσιαστικά καλύπτει τις Πολικές περιοχές (πέρα από 76°B ή 76°N), ονομάζεται:

Απάντηση		Σχόλιο
<input type="checkbox"/>	A1 (Βαθμολογία: 0.00)	
<input type="checkbox"/>	A2 (Βαθμολογία: 0.00)	
<input type="checkbox"/>	A3 (Βαθμολογία: 0.00)	
<input checked="" type="checkbox"/>	A4 (Βαθμολογία: 0.17)	
		Βαθμολογία ερώτησης: 0.17

Ερώτηση: 57 

Τα πλοία που λαμβάνουν έναν συναγερμό κινδύνου(Distress Alert) από ένα άλλο πλοίο, απαγορεύεται να αναγνωρίσουν (ACKNOWLEDGE) τον συναγερμό αυτόν:

Απάντηση		Σχόλιο
<input type="checkbox"/>	Λάθος (Βαθμολογία: 0.00)	
<input checked="" type="checkbox"/>	Σωστό (Βαθμολογία: 0.17)	
		Βαθμολογία ερώτησης: 0.17

Ερώτηση: 58 

Το σήμα ΕΠΕΙΓΟΝΤΟΣ αρχίζει με την λέξη:

Απάντηση	Σχόλιο
----------	--------

<input type="checkbox"/>	SECURITÉ (Βαθμολογία: 0.00)	
<input type="checkbox"/>	MAYDAY (Βαθμολογία: 0.00)	
<input checked="" type="checkbox"/>	PAN PAN (Βαθμολογία: 0.17)	
		Βαθμολογία ερώτησης: 0.17

Ερώτηση: 59 

Το σήμα ΚΙΝΔΥΝΟΥ αρχίζει με την λέξη:

Απάντηση		Σχόλιο
<input type="checkbox"/>	SECURITÉ (Βαθμολογία: 0.00)	
<input checked="" type="checkbox"/>	MAYDAY (Βαθμολογία: 0.17)	
<input type="checkbox"/>	PAN PAN (Βαθμολογία: 0.00)	
		Βαθμολογία ερώτησης: 0.17

Ερώτηση: 60 

Το σήμα ΑΣΦΑΛΕΙΑΣ αρχίζει με την λέξη:

Απάντηση		Σχόλιο
<input checked="" type="checkbox"/>	SECURITÉ (Βαθμολογία: 0.17)	
<input type="checkbox"/>	MAYDAY (Βαθμολογία: 0.00)	
<input type="checkbox"/>	PAN PAN (Βαθμολογία: 0.00)	

Βαθμολογία ερώτησης: 0.17

Ερώτηση: 61 

Να συμπληρώσετε με ΚΕΦΑΛΑΙΑ γράμματα το ΟΝΟΜΑΤΕΠΩΝΥΜΟ σας, τον Αριθμό Μητρώου και το τμήμα σας.

Βαθμολογία ερώτησης: 0

Συνολική βαθμολογία άσκησης: 10.00