

ΕΞΕΤΑΣΤΙΚΗ ΠΕΡΙΟΔΟΣ ΦΕΒΡΟΥΑΡΙΟΥ 2022

ΜΑΘΗΜΑ ΕΠΙΚΟΙΝΩΝΙΕΣ Ι

Β' ΕΞΑΜΗΝΟΥ

ΘΕΜΑΤΑ

Ερώτηση 1^η:

Μον.1,5

Σε ποια μέρη υποδιαιρείται ένα σήμα που μεταδίδεται με αναλαμπές;

Ερώτηση 2^η:

Μον.1,5

Χρήση ηχητικής σήμανσης.

Ερώτηση 3^η:

Μον.2,5

Χειρισμός και αναγνώριση των σημάτων κινδύνου. Ποια σήματα χρησιμοποιούμενα ή επιδεικνυόμενα μαζί ή χωριστά, καταδεικνύουν κίνδυνο και ανάγκη βοήθειας.

Ερώτηση 4^η:

Μον.2,5

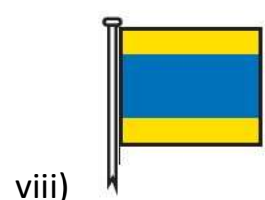
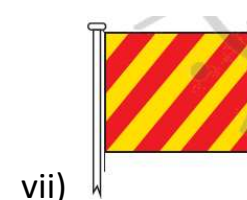
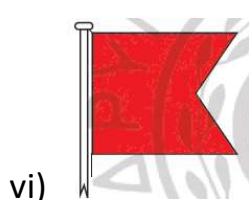
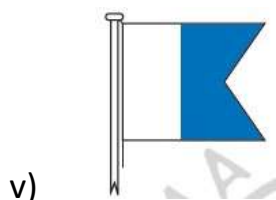
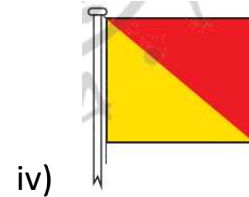
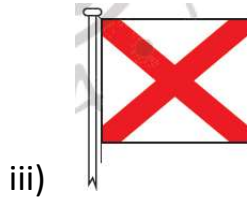
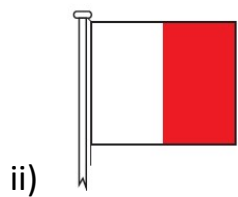
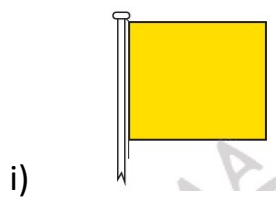
Ποιες είναι οι συνηθέστερες λειτουργίες ελέγχου της συσκευής VHF;

[Συνέχεια στην πίσω σελίδα](#)

Ερώτηση 5^η:

Μον.2,0

Σε ποια γράμματα του Διεθνούς Αλφάβητου αντιστοιχούν οι παρακάτω σημαίες και ποια είναι η σημασία τους:



Ο Εισηγητής

Νικόλαος Μπερμπεράκης

Καλή επιτυχία