

ΕΞΕΤΑΣΕΙΣ ΙΟΥΝΙΟΥ 2021



Ασκήσεις

Διαχείριση Άσκησης



➤ **RADAR - ARPA Γ ΕΞΑΜΗΝΟΥ**






























Ανακάτεμα όλων των ερωτήσεων

Επιλογή τυχαίων ερωτήσεων από τις ερωτήσεις της άσκησης
ερωτήσεις

Υποβολή

Ερωτήσεις της άσκησης		⚙️
1.	Με ποιο τρόπο ανιχνεύεται ένας στόχος στη συσκευή Ραντάρ; Πολλαπλής Επιλογής (Πολλαπλές Απαντήσεις)	⬆️ ⚙️
2.	Η διαδικασία υπολογισμού των αποστάσεων από τη συσκευή ραντάρ υπολογίζεται βάση: Πολλαπλής Επιλογής (Μοναδική Απάντηση)	⬆️ ⚙️
3.	Η ταχύτητα διαδόσεως των ραδιοκυμάτων στον αέρα είναι ίση με: Πολλαπλής Επιλογής (Πολλαπλές Απαντήσεις)	⬆️ ⚙️
4.	Η ακριβή τιμή διόπτρευσης στη συσκευή Ραντάρ βασίζεται: Πολλαπλής Επιλογής (Μοναδική Απάντηση)	⬆️ ⚙️
5.	Ποια συσκευή ραντάρ θεωρείται υψηλής ευκρίνειας: Πολλαπλής Επιλογής (Πολλαπλές Απαντήσεις)	⬆️ ⚙️
6.	Ποια είναι η έννοια του PRF Πολλαπλής Επιλογής (Μοναδική Απάντηση)	⬆️ ⚙️
7.	Ο ενδείκτης PPI ρυθμίζεται: Πολλαπλής Επιλογής (Μοναδική Απάντηση)	⬆️ ⚙️

Ερωτήσεις της άσκησης		
8.	Η κάθετη δέσμη ακτινοβολίας της κεραίας έχει μεγάλο ευρος. Σωστό / Λάθος	
9.	Ποια από τα παρακάτω είναι προδιαγραφές τοι IMO για την απόκτηση στόχων Πολλαπλής Επιλογής (Πολλαπλές Απαντήσεις)	
10.	Η Διανυσματική μέθοδος απεικόνισης που μας παρουσιάζεται στην οθόνη είναι: Πολλαπλής Επιλογής (Μοναδική Απάντηση)	
11.	Ο χειριστής κάθε συσκευής ARPA, έχει τη δυνατότητα για κάθε παρακολουθούμενο στόχο να επιλέξει και να εμφανισθούν: Πολλαπλής Επιλογής (Πολλαπλές Απαντήσεις)	
12.	Ποιες από τις παρακάτω είναι οι κατηγορίες προειδοποιήσεων που εμφανίζονται στο χειριστή της συσκευής: Πολλαπλής Επιλογής (Πολλαπλές Απαντήσεις)	
13.	Ποιες από τις παρακάτω είναι προειδοποιήσεις που προβλέπονται στις προδιαγραφές, και έχουν καθοριστεί από τον IMO: Πολλαπλής Επιλογής (Μοναδική Απάντηση)	
14.	Η συνήθης τιμή της συχνότητας λειτουργίας των radar ναυσιπλοΐας X-Band βρίσκεται στην περιοχή των: Πολλαπλής Επιλογής (Μοναδική Απάντηση)	
15.	Ο πομπός ο δέκτης και το σύστημα περιστροφής της κεραίας συνδέονται άμεσα με: Πολλαπλής Επιλογής (Μοναδική Απάντηση)	
16.	Μια συσκευή Ραντάρ με οριζόντια δέσμη ακτινοβολίας 14° θα έχει: Πολλαπλής Επιλογής (Μοναδική Απάντηση)	
17.	Τα χαρακτηριστικά των κυκλωμάτων εκπομπής είναι: Πολλαπλής Επιλογής (Πολλαπλές Απαντήσεις)	
18.	Ποιο κύκλωμα παράγει ταλαντώσεις στην περιοχή των μικροκυμάτων με συχνότητα από 100 MHz – 50 GHz Πολλαπλής Επιλογής (Μοναδική Απάντηση)	
19.	Σε ποιο κύκλωμα οι παλμοί χρησιμοποιούνται για να συγχρονίζουν τον διαμορφωτή; Πολλαπλής Επιλογής (Μοναδική Απάντηση)	
20.	Η οριζόντια δέσμη ακτινοβολίας της κεραίας έχει μεγάλο ευρος. Σωστό / Λάθος	
21.	Η μετάδοση της ηχού στην κεραία γίνεται: Πολλαπλής Επιλογής (Μοναδική Απάντηση)	

Ερωτήσεις της άσκησης		
22.	Πως λειτουργεί το κύκλωμα περιορισμού βροχής A/R; Πολλαπλής Επιλογής (Μοναδική Απάντηση)	 
23.	Πως λειτουργεί το κύκλωμα περιορισμού θάλασσας A/S; Πολλαπλής Επιλογής (Μοναδική Απάντηση)	 
24.	Το κύκλωμα εκπομπής αποτελείται από το κύκλωμα σκανδάλης τον διαμορφωτή και τον: Πολλαπλής Επιλογής (Μοναδική Απάντηση)	 
25.	Ποια είναι η αληθής διόπτευση του ακρωτηρίου που στοχεύουμε με το EBL του ραντάρ στην εικόνα; Πολλαπλής Επιλογής (Μοναδική Απάντηση)	 
26.	Από τι εξαρτάται η διακριτική ικανότητα κατά διόπτευση στο ραντάρ; Πολλαπλής Επιλογής (Μοναδική Απάντηση)	 
27.	Από τι εξαρτάται η διακριτική ικανότητα κατά απόσταση στο ραντάρ; Πολλαπλής Επιλογής (Πολλαπλές Απαντήσεις)	 
28.	Όταν αυξάνεται η διάρκεια του παλμού εκπομπής, το μήκος παλμού: Πολλαπλής Επιλογής (Μοναδική Απάντηση)	 
29.	Η ηχώ για να επιστρέψει πίσω από ένα στόχο που απέχει 300m από την κεραία του ραντάρ πόσο χρόνο χρειάζεται; Ταχύτητα του φωτός 300m/μs Πολλαπλής Επιλογής (Μοναδική Απάντηση)	 
30.	Με ποιον τρόπο υποτυπώνεται η γραμμή πλήρης στον ενδείκτη. Πολλαπλής Επιλογής (Μοναδική Απάντηση)	 
31.	Ποια είναι η αρχική CPA; Πολλαπλής Επιλογής (Μοναδική Απάντηση)	 
32.	Ποια θα είναι η αρχική TCPA; Πολλαπλής Επιλογής (Μοναδική Απάντηση)	 
33.	Ποια είναι η αρχική αληθής πορεία του στόχου; Πολλαπλής Επιλογής (Μοναδική Απάντηση)	 
34.	Ποια είναι η αρχική αληθής ταχύτητα του στόχου; Πολλαπλής Επιλογής (Μοναδική Απάντηση)	 
35.	Ποια είναι η νέα CPA; Πολλαπλής Επιλογής (Μοναδική Απάντηση)	